


**Презентация к уроку математики
по программе «Школа России»
3 класс**

учителя начальных классов
МБОУ Вязьма – Брянской СОШ
имени Героя РФ А. В. Пуцыкина
Вяземского района Смоленской
области

Докучаевой Лилии Ивановны



КАВКАЗСКАЯ ПИХТА





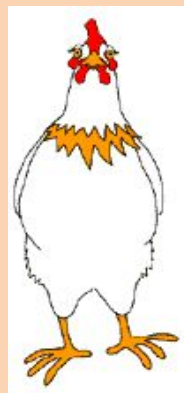





ЭВКАЛИПТ




Во дворе гуляют куры и козы.

Всего 4 головы и 10 ног.

Сколько во дворе кур и сколько коз?



Молодцы!



№5 с.89 Поставь знаки арифметических действий и скобки так, чтобы равенства стали верными.

$$8 \cdot 4 + 2 = 34$$

$$8 : 4 : 2 = 1$$

$$8 + 4 : 2 = 10$$

$$8 \cdot 4 - 2 = 30$$

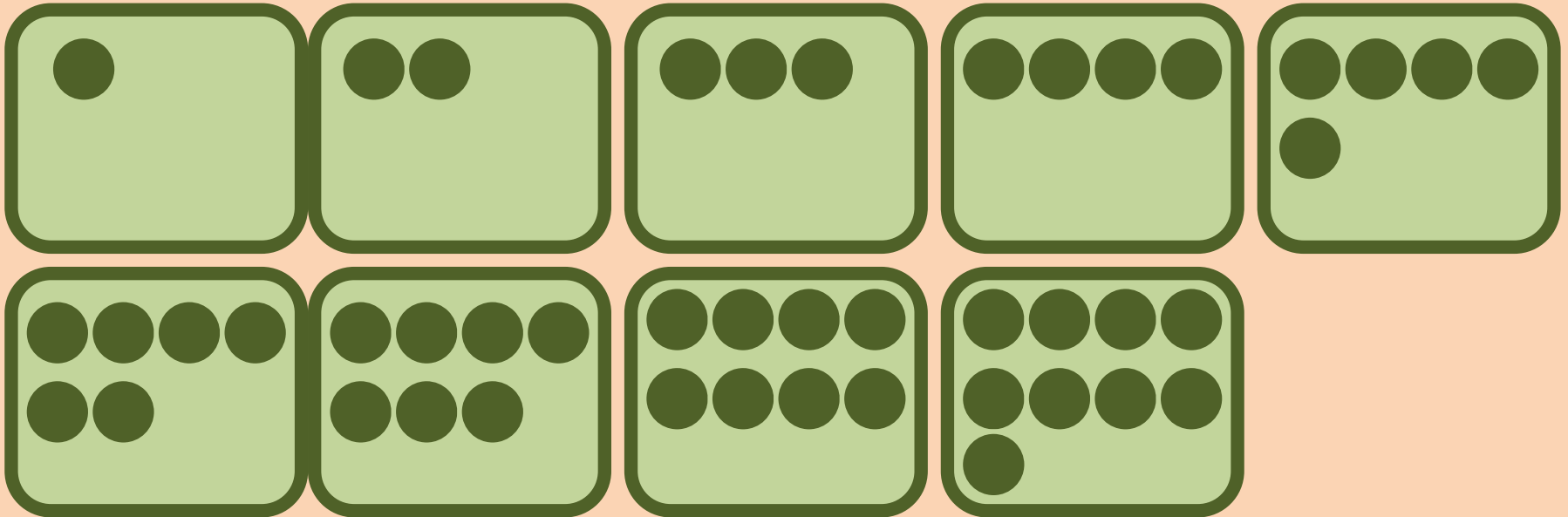
$$8 + 4 + 2 = 14$$

$$8 \cdot (4 + 2) = 48$$

$$8 : 4 + 2 = 4$$

$$8 \cdot 4 \cdot 2 = 64$$

Как 45 кроликов рассадить в 9 клеток так, чтобы в каждой клетке было разное количество кроликов?



$$1 + 2 + 3 + 4 + 5 + 6 + 7 + 8 + 9 = 45$$

- malchishki-i-devchonki.ru
- almaty.satu.kz
- gompix.ru
- skachatkartinki.ru www.playing-field.ru
- fotoham.ru forum.passiflora.ru
- mimi-gallery.ru www.dreampics.ru
- Дети - иллюстрации учебника
«Математика
2 класс» Т.Е. Демидовой