

**Презентация к уроку математики
по программе «Школа России»
3 класс**

учителя начальных классов
МБОУ Вязьма – Брянской СОШ
имени Героя РФ А. В. Пуцыкина
Вяземского района Смоленской
области




Докучаевой Лилии Ивановны



ЗАКРЕПЛЕНИЕ ИЗУЧЕННОГО

**МАТЕМАТИКА
В МИРЕ ПРИРОДЫ**

3 класс



Блиц- опрос

Решение задач в шишках



Хвоя ели живёт 9 лет, а сосны в 3
раза меньше. Сколько живёт хвоя
сосны?

Назад

Заяц-русак весит 7 кг, и это на 3 кг меньше, чем весит барсук. Сколько килограммов весит барсук?

Назад

Ширина лапы оленя - 10 см, а ширина лапы лося на 5 см больше, чем ширина лапы оленя. Ширина лапы кабана на 3 см меньше, чем ширина лапы лося. Какова ширина лап лося? кабана?

Назад

На ёлочке сидело 17 синичек, а под ёлочкой - 10 воробьёв. Сколько всего птиц было у ёлочки?

Назад

Медвежонок на одной лапе весит 25 кг. Каков его вес на 4 лапах?

Назад

Белка высушила 19 боровиков и 7 подосиновиков. На сколько боровиков зверёк высушил больше, чем подосиновиков?

Назад

Дятел за день обрабатывает 70 сосновых шишек. Сколько шишек обработает дятел за 3 дня?

Назад

Длина тела белки достигает 40 см.
Ласка имеет длину тела в 2 раза
меньше. Какова длина тела ласки?

Назад

Высота ножки гриба груздя – 5 см, лисички – на 2 см меньше. Высота ножки белого гриба такая, какая у груздя и лисички вместе. Какова высота ножки белого гриба?

Назад

стар

T

$$\begin{array}{r}
 + 15 \\
 \underline{28} \\
 43
 \end{array}$$

$$\begin{array}{r}
 + 34 \\
 \underline{57} \\
 91
 \end{array}$$

$$\begin{array}{r}
 + 48 \\
 \underline{13} \\
 61
 \end{array}$$

$$\begin{array}{r}
 + 57 \\
 \underline{35} \\
 92
 \end{array}$$

$$\begin{array}{r}
 + 69 \\
 \underline{24} \\
 93
 \end{array}$$



43

61

91

92

93

фини

ш

- malchishki-i-devchonki.ru
- almaty.satu.kz
- gompix.ru
- skachatkartinki.ru www.playing-field.ru
- fotoham.ru forum.passiflora.ru
- mimi-gallery.ru www.dreampics.ru
- Дети - иллюстрации учебника
«Математика
2 класс» Т.Е. Демидовой