



Как найти площадь?

Площадь прямоугольника можно найти, умножив его длину на ширину.



Площадь прямоугольника
 $2\text{cm} \cdot 3\text{cm} = 6\text{cm}^2$



Площадь квадрата
 $3\text{cm} \cdot 3\text{cm} = 9\text{cm}^2$



Нахождение стоимости

	Цена	Количество	Стоимость
	3 р.	2 шт.	? р.
	2 р.	5 шт.	? р.
	4 р.	2 шт.	? р.



Нахождение количества

	Цена	Количество	Стоимость
	3 р.	? шт.	6 р.
	2 р.	? шт.	10 р.
	4 р.	? шт.	8 р.



Нахождение цены

	Цена :	Количество :	Стоимость •
	? р.	2 шт.	6 р.
	? р.	5 шт.	10 р.
	? р.	2 шт.	8 р.


Нахождение цены, количества, стоимости

	Цена :	Количество :	Стоимость •
	6 р.	2 шт.	? р.
	10 р.	? шт.	30 р.
	? р.	4 шт.	8 р.



Решить задачу

Одна свеча стоит 3 рубля. Сколько стоят 8 таких свечей?

	Цена	Количество	Стоимость
	3 р.	8 шт.	? р.

$$3 \cdot 8 = 24 \text{ (р.)}$$



Ответ: 24 рубля стоят свечи.



***Не имей сто рублей, а имей
сто друзей.***

Не в деньгах счастье.

Дерево успеха





Всем спасибо!