





Ц




О




О




Л




М



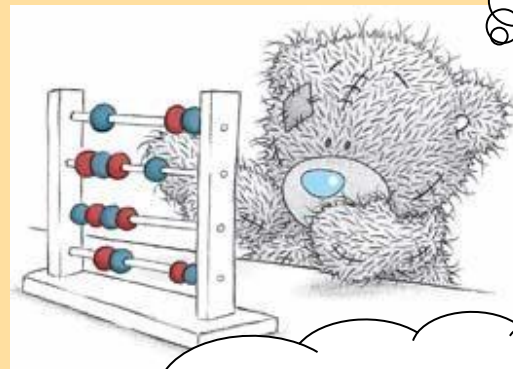
Ы



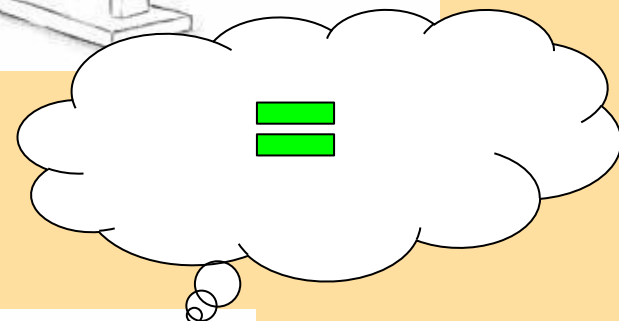
Д



Выберите правильный
ответ







\neq



торт сорт








Ты уверен в своем
ответе?



Подумай получше!!!








Выберите правильный ответ



сорт прост







**Ты уверен в своем ответе?
Подумай получше!!!**



Сравните, не вычисляя

$3+2 \square 2+3$

$4+3 \quad 3+4 \square$

$5+1 \square 1+5$

$4+3 \quad 4+2 \square$



Не забудь
проверить



ПРОВЕРЬ

$$3+2 = 2+3$$

$$4+3 = 3+4$$

$$5+1 < 6+1$$

$$4+3 > 4+2$$



МОЛОДЕЦ!!! Приступай к следующему заданию




Запиши числа, чтобы
получились верные равенства



$$2+3 = 3+ \square$$

$$\square 4 = 4+3$$



теперь проверь,
правильно ли
ты решил



ПРОВЕРЬ




$$2+3 = 3+2$$

$$3+4 = 4+3$$



Молодец!!!



Составь равенства, которые соответствуют рисунку

Рисунок 1

$$4+1=5$$

$$1+4=5$$



Рисунок 2

$$1+2=3$$

$$2+1=3$$




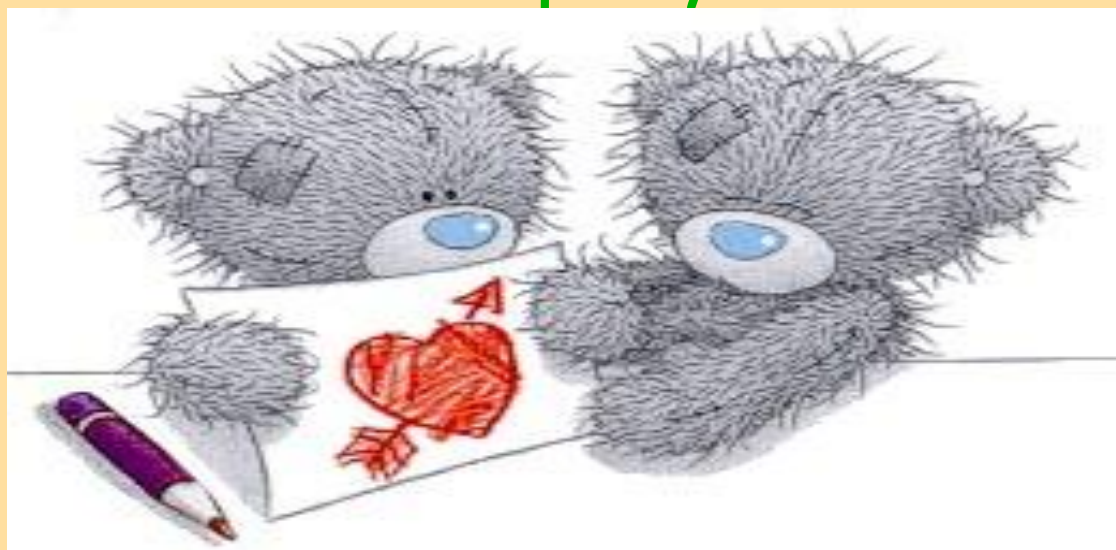
Рисунок 3

$$3+1=4$$

$$1+3=4$$



Составьте подобные равенства и
сделайте к ним рисунки!!!!



ИТОГ УРОКА



-Что я нового узнал на уроке?

- Чему я научился на уроке?

-Что у меня получилось?

-Что мне было трудно?



Где в жизни встречался с
переместительным
свойством?





Молодцы, ребята!!!

Вы сегодня отлично поработали, все поняли и успешно справились со всеми заданиями!!!

Пришло время отдохнуть!!!

Не забудьте привести в порядок свои рабочие места!!!



ВЫХОД