



# Объясни, как можно к числам прибавлять число 5



1 1 1 1 1



$$4 + 1$$

$$3 + 2$$

$$2 + 3$$

$$1 + 4$$



# Дополни до 10



$$\square 4 + 6 = 10$$

$$\square 7 + 3 = 10$$

$$\square 2 + 8 = 10$$

$$\square 5 + 5 = 10$$

$$\square 9 + 1 = 10$$

$$4 + \square 6 = 10$$

$$7 + \square 3 = 10$$

$$9 + \square 1 = 10$$

$$2 + \square 8 = 10$$

Вы отлично справились!



$10 + 3 =$

$10 + 7 =$

$10 + 5 =$

$10 + 9 =$

$10 + 2 =$

$10 + 8 =$



$$5 + 3 =$$

$$7 + 2 =$$


$$7 + 5 =$$

$$4 + 3 =$$



Тема урока:

Прибавление  
числа



# Как прибавить число 5?

1. По линейке



2. С помощью разложения

Вычислите:

$$7 + 5$$



# Как прибавить число 5?

3. Назвать следующих пять чисел.
4. При помощи фишек, счётных палочек:

