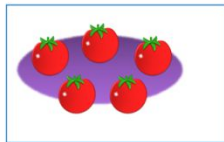


# «Моя математика» 1 класс

Урок 29

Тема урока: «Число пять. Цифра 5»



пять

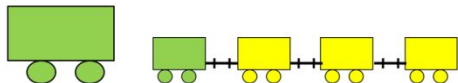


пять



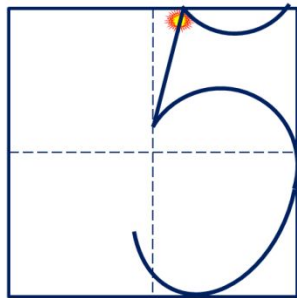
пять

Число пять записывают знаком - **цифрой 5.**





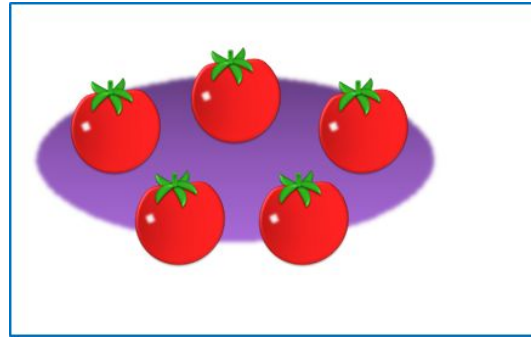
$$1 + 4 = 5$$

$$4 + 1 = 5$$




# Урок 29. Число пять. Цифра 5


3. Назови число предметов на каждой карточке.



ПЯТЬ

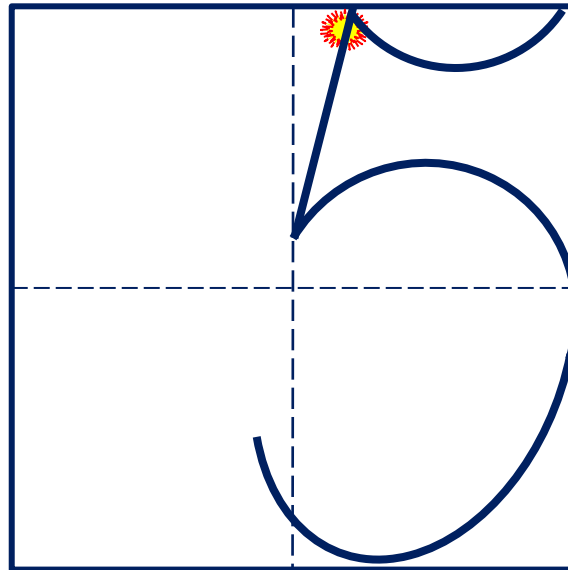


ПЯТЬ



ПЯТЬ

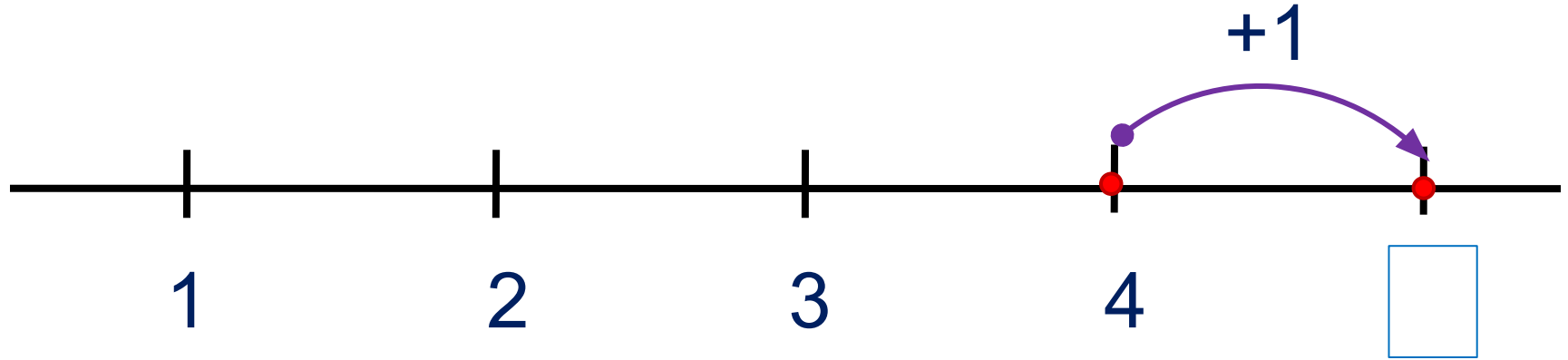
Число пять записывают знаком - **цифрой 5.**



# Урок 29. Число пять. Цифра 5

5. Какие равенства можно записать к рисункам?

Вправо - плюс



**Внимание!**

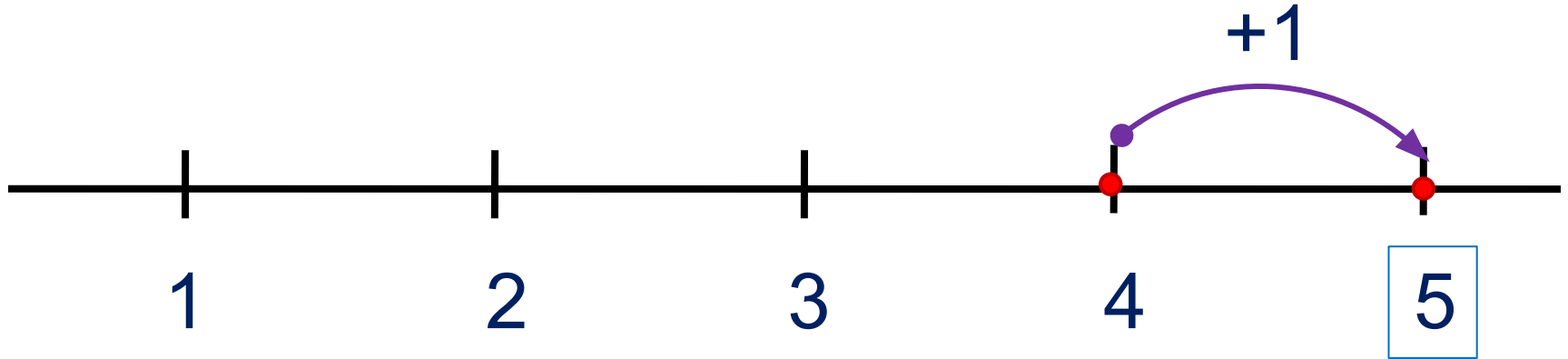
Данное задание можно выполнить интерактивно. Для этого презентацию надо перевести в режим редактирования

1	2	3	4	5	+	-	=
---	---	---	---	---	---	---	---

# Урок 29. Число пять. Цифра 5

5. Какие равенства можно записать к рисункам?

Вправо - плюс



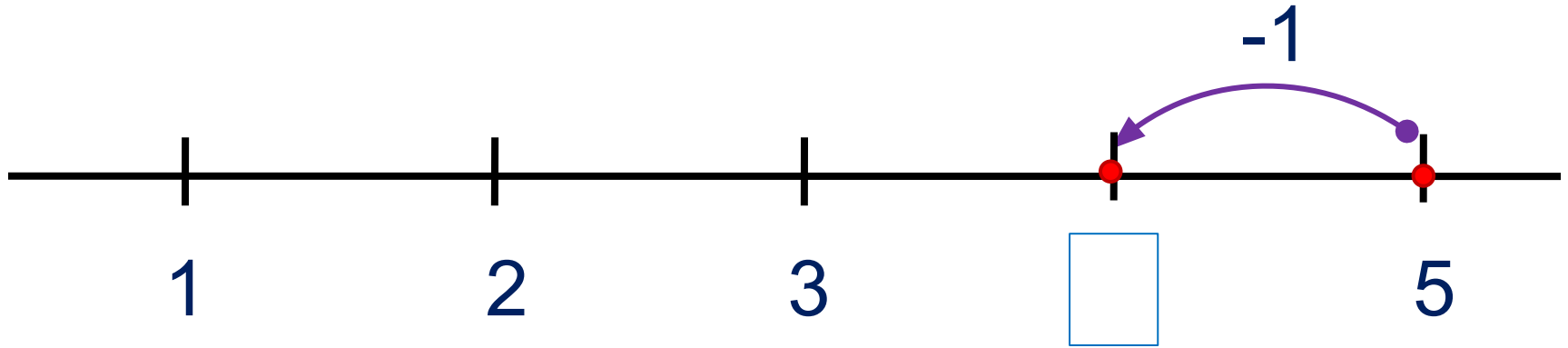
1 2 3 4 5 + - =

**ПРОВЕРЬ!**

# Урок 29. Число пять. Цифра 5

5. Какие равенства можно записать к рисункам?

Влево - минус



**Внимание!**

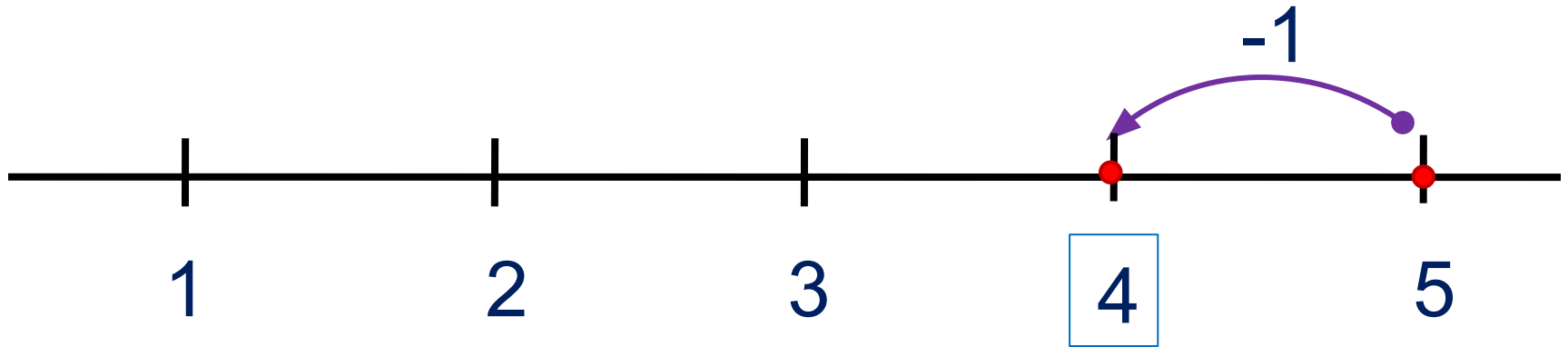
Данное задание можно  
выполнить интерактивно.  
Для этого презентацию надо  
перевести в режим  
редактирования

1 2 3 4 5 + - =

# Урок 29. Число пять. Цифра 5

5. Какие равенства можно записать к рисункам?

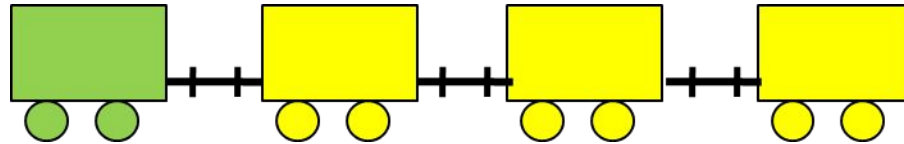
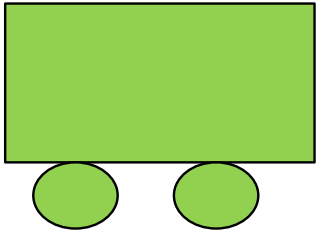
Влево - минус



1 2 3 4 5 + - =

**ПРОВЕРЬ!**

6. Какие четыре равенства можно записать к рисунку ?



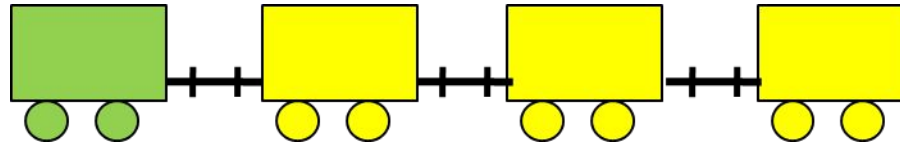
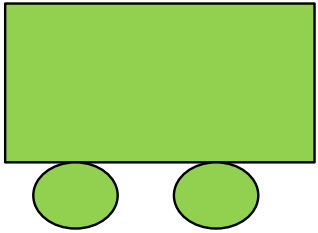
П.

$$1 + 4 = 5$$

$$4 + 1 = 5$$

$$5 - 1 = 4$$

6. Какие четыре равенства можно записать к рисунку ?



П.

$$1 + 4 = 5$$


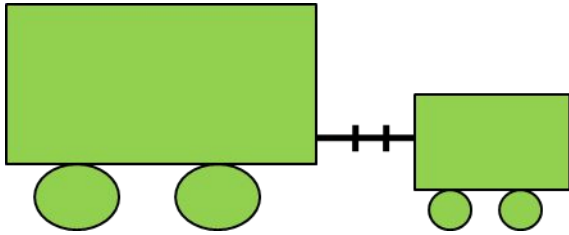
$$4 + 1 = 5$$

$$5 - 1 = 4$$

$$5 - 4 = 1$$



6. Какие четыре равенства можно записать к рисунку ?




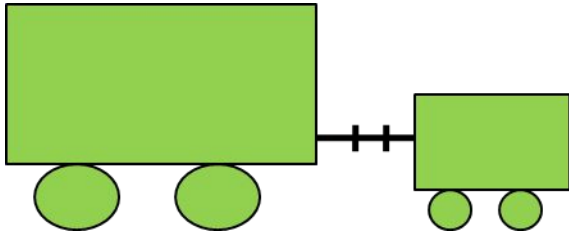
В.

$$2 + 3 = 5$$

$$3 + 2 = 5$$

$$5 - 2 = 3$$

6. Какие четыре равенства можно записать к рисунку ?



В.

$$2 + 3 = 5$$

$$3 + 2 = 5$$

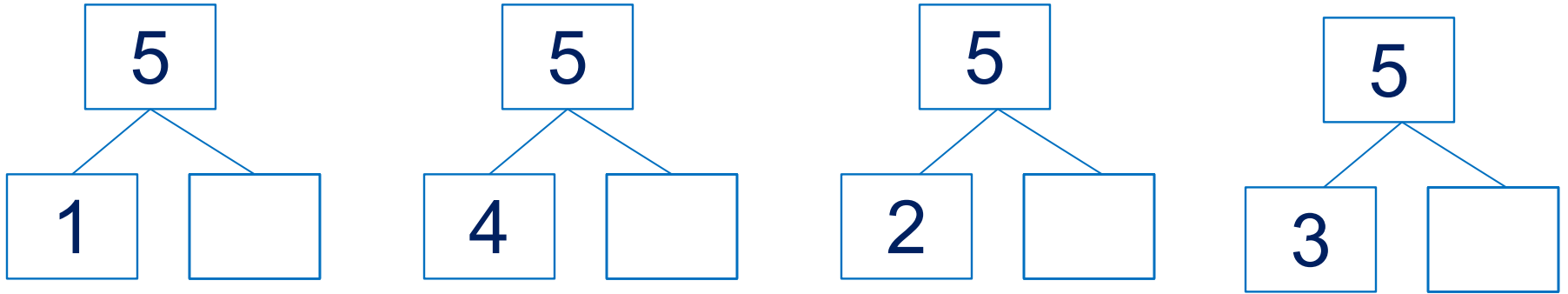
$$5 - 2 = 3$$

$$5 - 3 = 2$$

# Урок 29. Число пять. Цифра 5

6. Какие четыре равенства можно записать к рисунку ?

· Расскажите о числе 5.



**Внимание!**

*Данное задание можно выполнить интерактивно.*

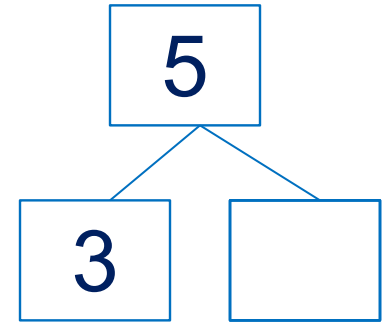
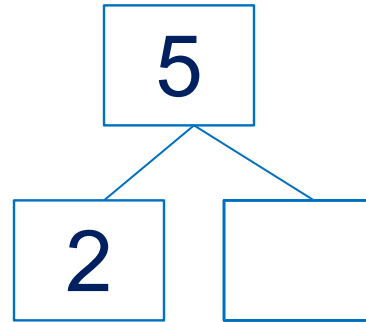
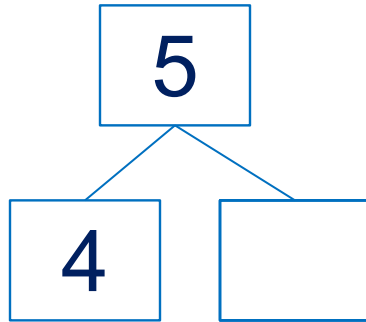
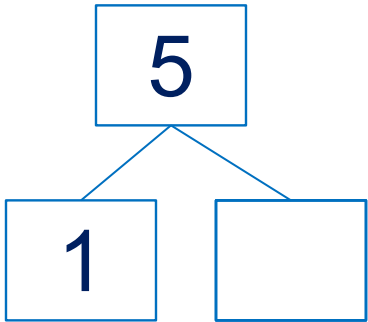
*Для этого презентацию надо перевести в режим редактирования*



# Урок 29. Число пять. Цифра 5

6. Какие четыре равенства можно записать к рисунку ?

· Расскажите о числе 5.



1 2 3 4 5

**ПРОВЕРЬ!**

7. Преврати записи Кати в верные равенства. Запиши в «окошках» знаки действий (+, -).

$1 \square 4 = 5$

$3 \square 2 = 5$

$4 \square 1 = 5$

$5 \square 4 = 1$

$5 \square 3 = 2$

$5 \square 1 = 4$

**Внимание!**

*Данное задание можно выполнить интерактивно.*

*Для этого презентацию надо перевести в режим редактирования*



# Урок 29. Число пять. Цифра 5

7. Преврати записи Кати в верные равенства. Запиши в «окошках» знаки действий (+, -).

$1 \square 4 = 5$


$3 \square 2 = 5$

$4 \square 1 = 5$

$5 \square 4 = 1$

$5 \square 3 = 2$

$5 \square 1 = 4$



**ПРОВЕРЬ!**

*Спасибо!*