



Математика

1 класс


Сколько животных изображено?



A



B



C

Кто стоит 3-м по счету?



А



В



С



Д

Кто стоит справа от теленка?



A



B

Кто находится перед щенком?



А



В

Кто следует за котенком?



A



B