

МЕНЯ УЗНАЛИ?
ИЗ КАКОЙ Я
СКАЗКИ?
РЕБЯТА,
ПОМОГИТЕ МНЕ
И МОИМ
ДРУЗЬЯМ
СПРАВИТЬСЯ С
ЗАДАНИЯМИ
СПРАВИТЬСЯ С
ЗАДАНИЯМИ!



РАЗГАДАЙ ПРАВИЛО, ПО КОТОРОМУ ЗАПИСАНЫ ЧИСЛА

1	9	17	25
3	11	19	
5	13		
7			

РАЗГАДАЙ ПРАВИЛО, ПО КОТОРОМУ ЗАПИСАНЫ ЧИСЛА

1	9	17	25
3	11	19	27
5	13		
7			

РАЗГАДАЙ ПРАВИЛО, ПО КОТОРОМУ ЗАПИСАНЫ ЧИСЛА

1	9	17	25
3	11	19	27
5	13	21	
7			

РАЗГАДАЙ ПРАВИЛО, ПО КОТОРОМУ ЗАПИСАНЫ ЧИСЛА

1	9	17	25
3	11	19	27
5	13	21	29
7			

РАЗГАДАЙ ПРАВИЛО, ПО КОТОРОМУ ЗАПИСАНЫ ЧИСЛА

1	9	17	25
3	11	19	27
5	13	21	29
7	15		

РАЗГАДАЙ ПРАВИЛО, ПО КОТОРОМУ ЗАПИСАНЫ ЧИСЛА

1	9	17	25
3	11	19	27
5	13	21	29
7	15	23	

РАЗГАДАЙ ПРАВИЛО, ПО КОТОРОМУ ЗАПИСАНЫ ЧИСЛА

1	9	17	25
3	11	19	27
5	13	21	29
7	15	23	31

НАЙДИ ЛИШНИЙ ПРИМЕР В СТОЛБИКЕ

- $80+8=$

- $70+3=$

- $30+4=$

- $85+6=$

- $90+8=$

- $20+7=$



НАЙДИ ЛИШНИЙ ПРИМЕР В
СТОЛБИКЕ

- $80 + 8 =$

- $85 + 6 =$



НАЙДИ ЛИШНИЙ ПРИМЕР В СТОЛБИКЕ

- $7+8=$
- $10+5=$
- $6+9=$
- $14+4=$
- $9+1+5=$
- $25-10=$



НАЙДИ ЛИШНИЙ ПРИМЕР В
СТОЛБИКЕ

- $9 + 1 + 5 =$

- $25 - 10 =$



В СУМКЕ 8 КГ ЯБЛОК, В ЯЩИКЕ 12 КГ ЯБЛОК, В МЕШКЕ 30 КГ ЯБЛОК. НАЙДИТЕ:

1. Сколько всего килограммов яблок?	24 кг	48 кг	50 кг
2. На сколько килограммов яблок меньше в ящике, чем в мешке?	На 18 кг	На 4 кг	На 42 кг
3. На сколько килограммов яблок больше в мешке, чем в сумке?	На 38 кг	На 22 кг	На 56 кг



В СУМКЕ 8 КГ ЯБЛОК, В ЯЩИКЕ 12 КГ ЯБЛОК, В МЕШКЕ 30 КГ ЯБЛОК. НАЙДИТЕ:

1. Сколько всего килограммов яблок?			50 кг
2. На сколько килограммов яблок меньше в ящике, чем в мешке?	На 18 кг	На 4 кг	На 42 кг
3. На сколько килограммов яблок больше в мешке, чем в сумке?	На 38 кг	На 22 кг	На 56 кг



В СУМКЕ 8 КГ ЯБЛОК, В ЯЩИКЕ 12 КГ ЯБЛОК, В МЕШКЕ 30 КГ ЯБЛОК.

НАЙДИТЕ:

1. Сколько всего килограммов яблок?			50 кг
2. На сколько килограммов яблок меньше в ящике, чем в мешке?	На 18 кг		
3. На сколько килограммов яблок больше в мешке, чем в сумке?	На 38	На 22	На 56



В СУМКЕ 8 КГ ЯБЛОК, В ЯЩИКЕ 12 КГ
ЯБЛОК, В МЕШКЕ 30 КГ ЯБЛОК.

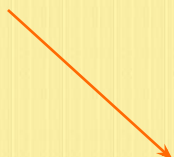
НАЙДИТЕ:

1. Сколько всего килограммов яблок?			50 КГ
2. На сколько килограммов яблок меньше в ящике, чем в мешке?	На 18 КГ		
3. На сколько килограммов яблок больше в мешке, чем в сумке?		На 22 КГ	



ПРОЧИТАЙ ВЫРАЖЕНИЯ И НАЙДИ ИХ РЕШЕНИЯ

54



42

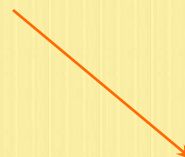


67



+30

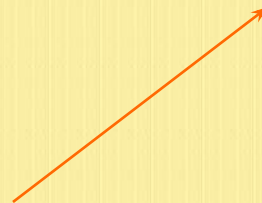
81



59



76



- 40



НАЧЕРТИ ОТРЕЗКИ: ДЛИНА 1
ОТРЕЗКА=1ДМ 3СМ, ДЛИНА 2
ОТРЕЗКА НА 7 СМ МЕНЬШЕ, А ДЛИНА
3 ОТРЕЗКА НА 4 СМ БОЛЬШЕ.
НАЙДИТЕ ДЛИНУ 3 ОТРЕЗКА В ДМ ?

