

**Для самых  
умных!**



В каком углу  
игрушек  
больше?





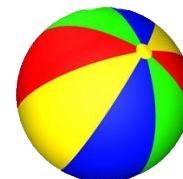


Какой формы игрушек меньше, а какой больше?

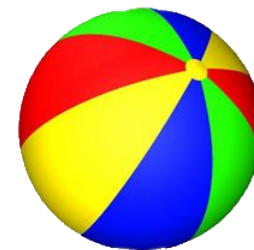
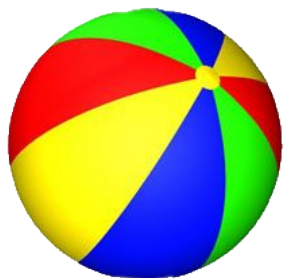
У какой пирамидки меньше колец?

Какая пирамидка самая высокая и почему?





Сколько  
игрушек не  
смогут  
поиграть с  
мячом?



Назови  
формы

