



Урок математики №88
Школа России
1 класс

Вычитание 
вида 8  $9-$

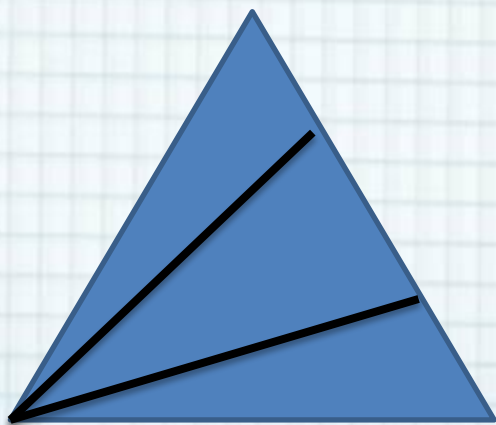
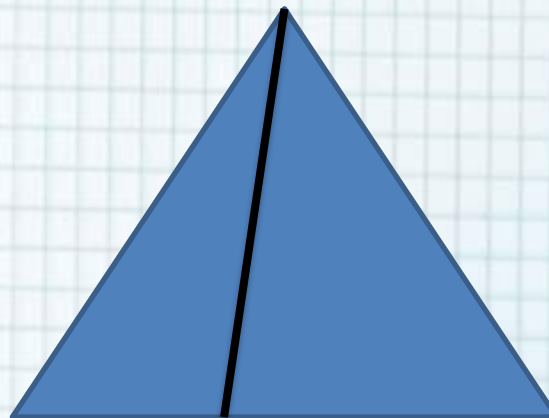

Автор : Гилева Наталия Владимировна
МКОУ Перегрёбинская СОШ №1»

2020



Устный счет


Сколько треугольников?



Ответ:
8,3,6




Состав числа 7 и 8



1	
2	
3	
4	

1	
2	
3	
4	
5	



Работа с учебником

С. 32





8	
7	1
6	2
3	5
4	4

$8 - 7 = 1$

$8 - 6 = \square$

$8 - 5 = \square$

$8 - 4 = \square$

9	
8	1
7	2
	6
4	

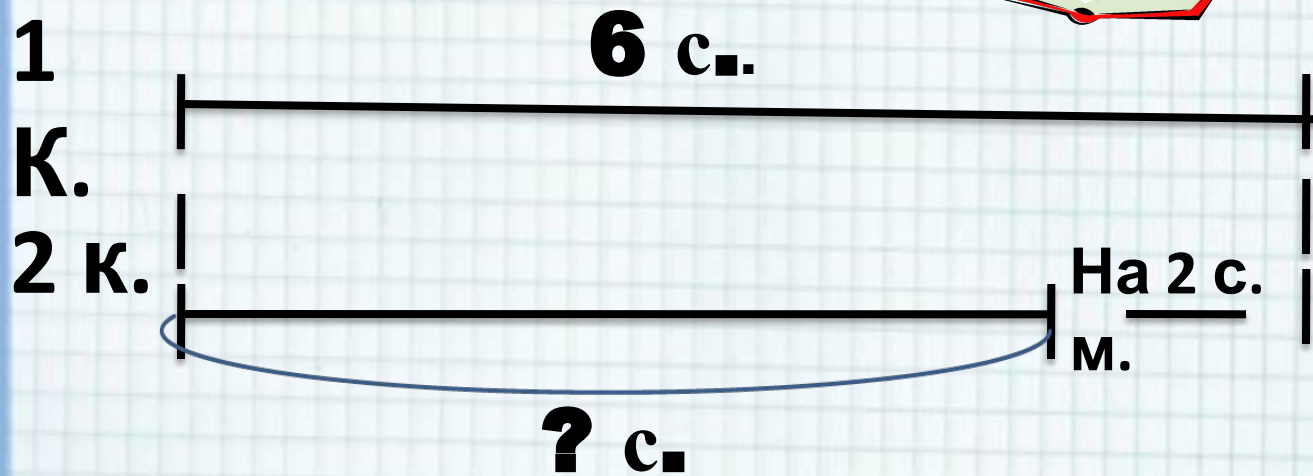
$9 - 8 = \square$

$9 - 7 = \square$

$9 - 6 = \square$

$9 - 5 = \square$



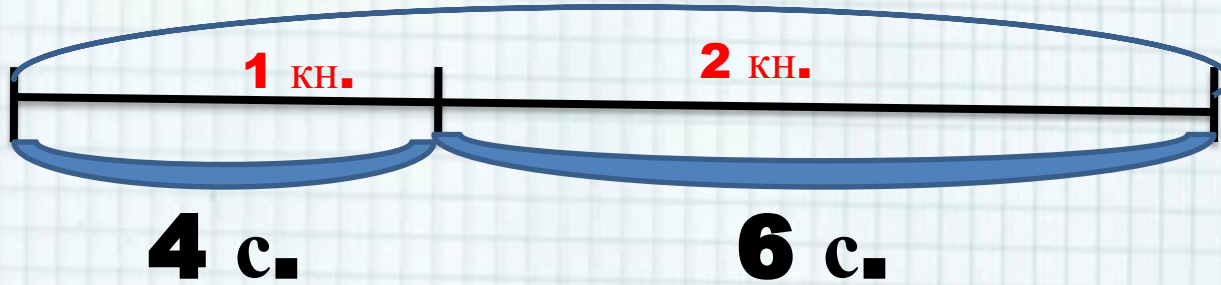


$6 - 2 = 4$ (с.) во 2 книге
Ответ : 4 сказки.





? С.



$$6 + 4 = 10 \text{ (с.) в } 2 \text{ книгах}$$

Ответ : 10 с. в двух книгах.



4. 1) У Васи было



Он купил 3 тетради.
Сколько тетрадей стало у Васи?

2) У Ани было



Она подарила 2 матрёшки.
Сколько матрёшек осталось у Ани?

$$7 + 3 = 10(\text{т.})$$

$$6 - 2 = 4(\text{м.})$$



Оцени себя



Учебные пособия:

Математика **1** класс **2** часть /М.И. Моро и др./М. Издательство
«Просвещение» **2015** г.

Автор шаблона Фокина Лидия Петровна
учитель начальных классов МКОУ «СОШ ст. Евсино»
Искитимского района Новосибирской области

Сайт <http://pedsovet.su/>

СПАСИБО АВТОРАМ ФОНОВ И КАРТИНОК

Интернет-ресурсы:

Школьный клипарт <http://s3.pic4you.ru/allimage/y2013/10-24/12216/3925122.png>

Линейки <http://s1.pic4you.ru/allimage/y2012/08-20/12216/2356205.png>

Лист в клеточку <http://s1.pic4you.ru/allimage/y2012/08-20/12216/2356208.png>

Скрепка http://img-fotki.yandex.ru/get/6610/134091466.1c/0_8f975_cc74af65_S

Циркуль http://img-fotki.yandex.ru/get/6521/108950446.113/0_cd1e6_7c1b8dea_S

