

Фрагмент урока математики  
4 класс

**ЗАКРЕПЛЕНИЕ ТЕМЫ  
«ДРОБИ. НАХОЖДЕНИЕ  
ЧАСТИ ЧИСЛА И  
НАХОЖДЕНИЕ ЧИСЛА  
ПО ЕГО ЧАСТИ»**

Учитель Кызьюрова И.А.



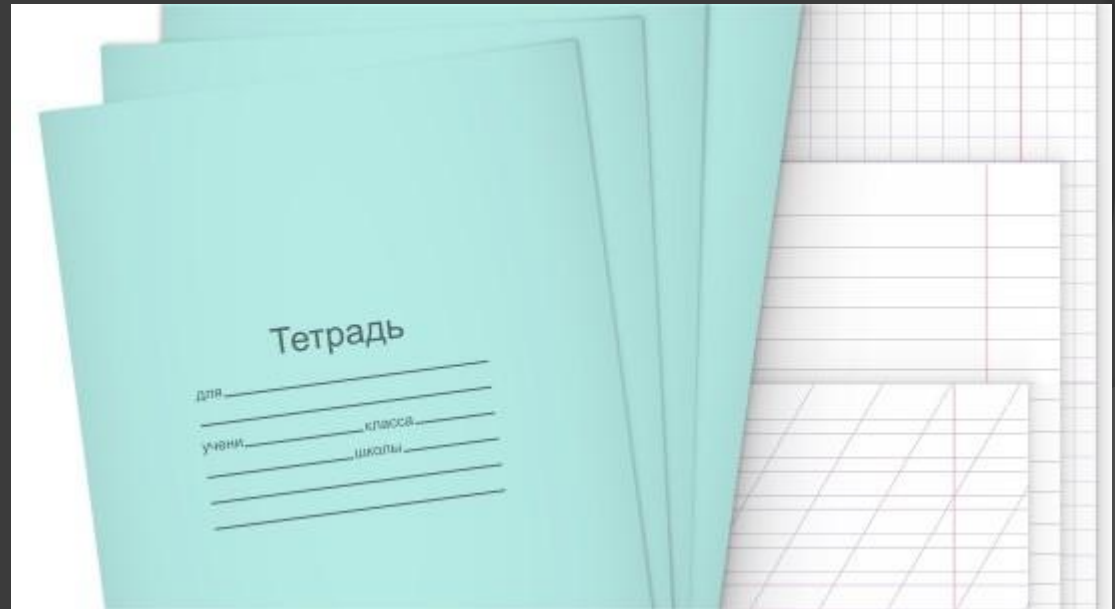
Решите задачи.

1. Вам с мамой нужно купить 20 тетрадей. На полке лежит только четыре пятых этого количества. Сколько тетрадей лежит на полке?

Выбери ответ:

а)  $20 : 4 \cdot 5$

б)  $20 : 5 \cdot 4$



2. Ученик четвертую часть суток проводит в школе.  
Сколько это часов?

Выбери ответ:

а) 96 ч

б) 6 ч

в) 5 ч




3. Сколько времени уходит у школьника на укладывание ранца, если четвертая часть этого времени (24 мин) была потрачена на поиски своего дневника?

Выбери ответ:

а) 96 мин

б) 6 мин

в) 5 мин



4. До обеда в школе осталось  $\frac{3}{4}$  часа причем  $\frac{2}{5}$  этого времени можно поиграть в прятки, а  $\frac{1}{5}$  – в догонялки. Сколько времени можно играть в прятки

Выбери ответ:

- а) 18 мин
- б) 27 мин
- в) 60 мин



После учебы идем в свой любимый детский сад поиграть с малышами.



Решите задачи.

1. С малышами надо поиграть  $\frac{5}{6}$  часа.  
Сколько это минут?

а) Выбери ответ:

72 мин

б) 59 мин

в) 50 мин

2. Шесть девочек хотят поиграть с куклой. Это  $\frac{2}{3}$  всех желающих поиграть. Сколько детей хотят играть?

Выбери ответ:

а) 4

б) 9

в) 5



3. Малыши просят вас прочитать им сказку. Всего в книжке 22 страницы, а в сказке про «Красную шапочку» – 10. Выбери выражение, с помощью которого можно узнать, какую часть 10 страниц составляют от общего числа страниц в книге.


Выбери ответ:

а)  $10 : 22$     б)  $22 : 10$     в)  $10 : 32$

4. В сказке 10 страниц. Вы успели прочитать  $\frac{2}{5}$  сказки. Сколько это страниц?

Выбери ответ:

а) 25    б) 4    в) 7



Проверь себя!

1. б)  $20 : 5 \cdot 4$

2. б) 6 ч

3. б) 96 мин

4. а) 18 мин

5. в) 50 мин

6. б) 9

7. а) 10 : 22

8. б) 4



**МОЛОДЦЫ!**