

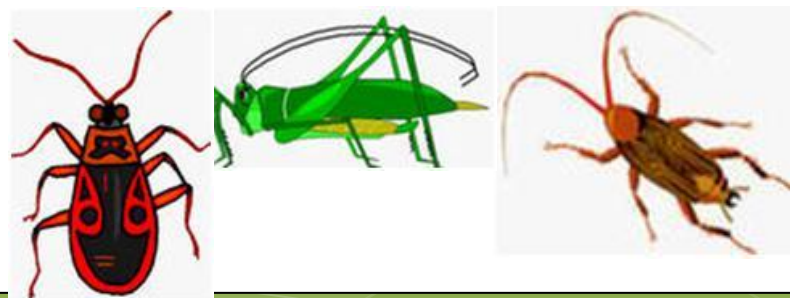

ФИКСИКИ В СТРАНЕ МАТЕМАТИКИ



ПОСЧИТАЙ ЦИФРЫ В ПРЯМОМ ПОРЯДКЕ.
ПОСЧИТАЙ В ОБРАТНОМ ПОРЯДКЕ.
НАЧНИ СЧИТАТЬ С НАЗВАННОГО ЧИСЛА.
НАЗОВИ СОСЕДЕЙ ЧИСЛА...



СОСТАВЬ РЕШИ ЗАДАЧУ НА СЛОЖЕНИЕ



СОСТАВЬ И РЕШИ ЗАДАЧУ НА ВЫЧИТАНИЕ




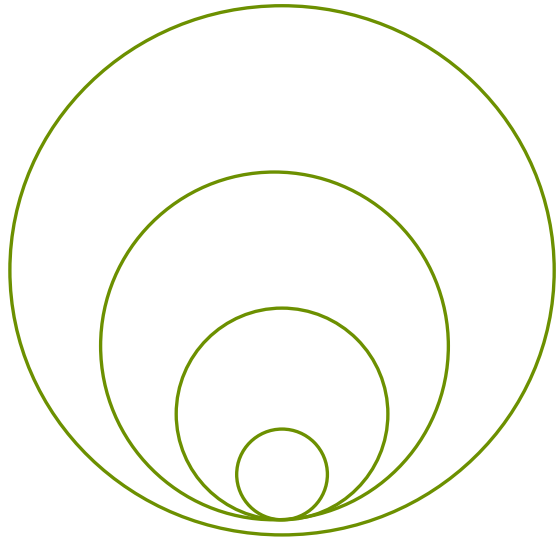
СОСТАВЬ И РЕШИ ЗАДАЧУ НА ВЫЧИТАНИЕ



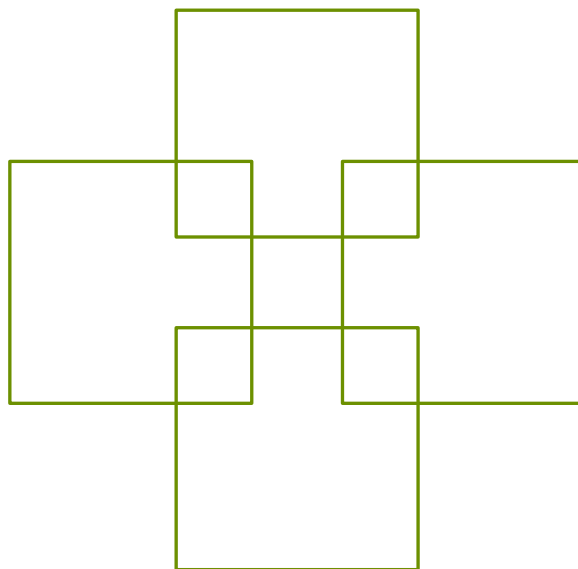
Зрительная гимнастика



Где кругов больше? СПРАВА ИЛИ СЛЕВА?



Сколько здесь квадратов?



Задачи на сообразительность.

Ответ покажите цифрой.

- ❖ Под кустами у реки
Живут майские жуки:
Дочка, сын, отец и мать
Ты их можешь сосчитать? ? ? ?

- ❖ Вот хромым идет жучок,
Он ранил ножку о сучок.
Прежде на своих шести
Очень быстро мог ползти.
На скольких ножках теперь ползет жучок? ? ? ?

- ❖ Вот медведица идет,
Медвежат двоих ведет.
Сколько здесь всего зверей?
Сосчитай-ка поскорей! ? ? ? ?

- ❖ Вот грибочки на лужайке
В жёлтых шапочках стоят.
2 грибочка, 3 грибочка.
Сколько вместе будет? ? ? ?





В землю репка села крепко, одному не справиться.

А за старым дедом следом хвост длиннющий тянется.

Все пришли до одного. Сколько было их всего ? ? ? ?

- Какой по счету стоит бабка?

- А дед?

- Кто стоит третьим?

- Кто стоит между внучкой и кошкой?

- А кто стоит последним?

- Чем похожи герои этой сказки и фиксики?



МОЛОДЦЫ

