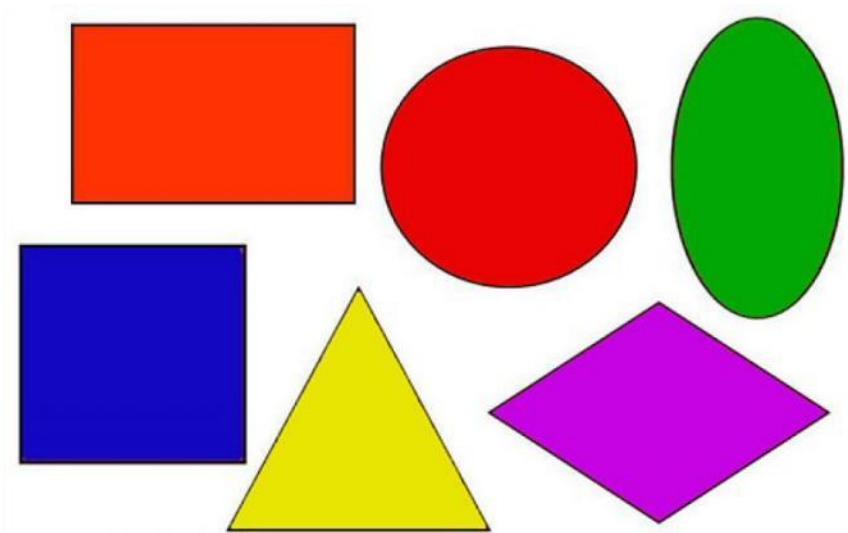


Геометрические фигуры



Выполнила
воспитатель ГБДОУ детский сад 141
Титова Наталья Павловна
Вторая младшая группа

Санкт-Петербург

Презентация "Геометрические фигуры"

Цель:

создать условия для совершенствования умения различать и называть геометрические фигуры (круг, квадрат, треугольник, овал, прямоугольник, ромб) .


Задачи:

- закрепить знание геометрических фигур,
- учить узнавать и называть цвета,
- искать в окружающей обстановке предметы, сходные по форме.


КРУГ

Посмотрите-ка вокруг!
Пальчиком рисуем круг.
Куклы были вместе в ряд,
А теперь в кругу сидят.

Наше солнышко в окне -
Золотой круг в вышине.
Круглый мячик здесь
лежит,
В ручки к вам он
поспешит.



Все эти картинки похожи на круг.
Назови их.



Какая картинка лишняя?



АПЕЛЬСИН



АРБУЗ



ТАРЕЛКА



ЯБЛОКО



МЯЧ



ТЕЛЕФОН



ОВАЛ

Вот овальный огуречик,
Из него и человечек
Получиться может ловко:
Ручки, ножки и головка.



Наш овал нам сделать просто:
Круг растянем – больше роста.
Нет углов и нет сторон,
Очень вытянутый он.



Все эти картинки похожи на овал.
Назови их.



Какая картинка лишняя?




КВАДРАТ

Познакомьтесь, вот квадрат!
Он знакомству очень рад!
В нём угла уже четыре,
Нет его ровнее в мире:

Стороны четыре в нём,
Две скрепляются углом.
Круг в нем может разместиться,
В куб он сможет превратиться.



Все эти картинки похожи на квадрат.
Назови их.



Какая картинка лишняя?

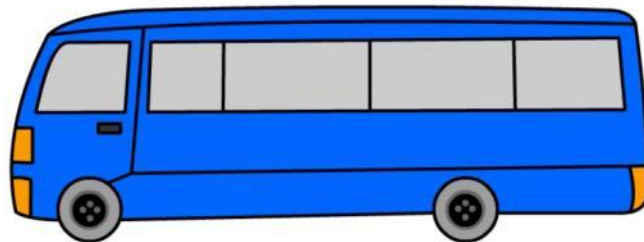


ПРЯМОУГОЛЬНИК

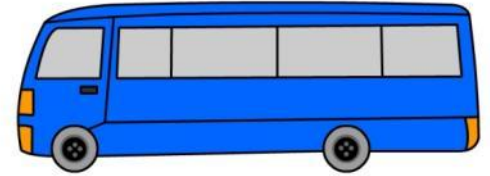
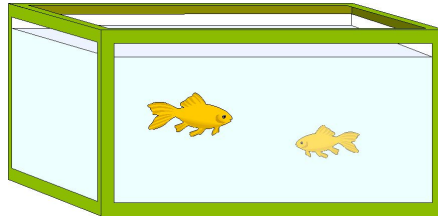
Растянули мы квадрат
И представили на взгляд,
На кого он стал похожим
Или с чем-то очень схожим?
Не кирпич, не треугольник -
Стал квадрат прямоугольник.



Все эти картинки похожи на
прямоугольник.
Назови их.




Какая картинка лишняя?




ТРЕУГОЛЬНИ К

Треугольник - три угла,
Посмотрите детвора:
Три вершины очень острых -
Треугольник – «остроносый».

Стороны в нем тоже три:
Раз, два, три – ты посмотри.
Треугольник мы рисуем,
Знать теперь его мы будем.



Все эти картинки похожи на треугольник.
Назови их.




Какая картинка лишняя?



РОМБ

Ромб - фигура непростая,
Две в себе объединяет:
Треугольник раз и два -
Фигура стала вдруг одна.

Четыре в ромбе стороны.
Между собой они равны.
Четыре в ромбе и угла,
Равны между собой по два.



Все эти картинки похожи на ромб.
Назови их.



Какая картинка лишняя?

