

$$4=4$$

**= - знак равенства**

# Равенство

74 Сколько желудей у кабанчика? Сколько морковок у ослика?



Сравни количество желудей у кабанчика и количество морковок у ослика. Используй слова больше, меньше, столько же.

С помощью математических знаков ответ записывается так:

$$4 = 4$$

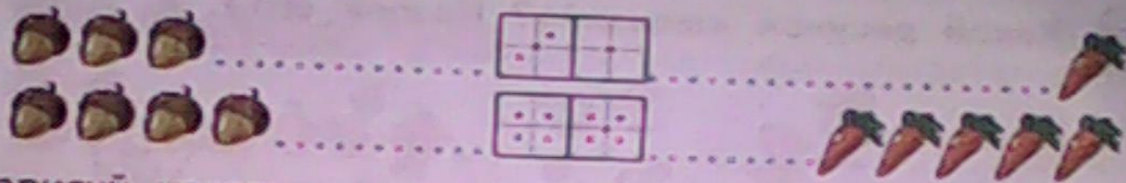
Такая запись называется равенство.

**=** – знак равенства.

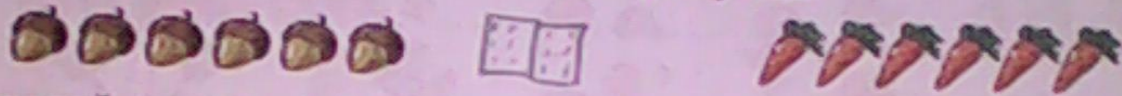
Читается запись так: четыре равно четырём.

- Сравни количество кабанчиков и количество осликов на рисунке. Запиши свой ответ с помощью математических знаков. Прочти своё равенство.
- Если ещё два жёлудя упадут на землю, сколько желудей станет у кабанчика? Запиши ответ. Если ослик принесёт с грядки ещё две морковки, сколько их станет у него? Запиши ответ цифрой. Что теперь можно сказать о количестве желудей и морковок?

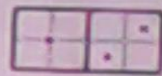
Посмотри, как связаны между собой рисунки с предметами и костяшки домино.



Нарисуй костяшку домино для рисунка:



Сделай рисунок в соответствии с данной костяшкой домино.



• По какому рисунку можно записать равенство? Запиши его.

К какой сказке сделаны рисунки?



Запиши ответы на вопросы:

Сколько героев сказки на этих рисунках?

Сколько рисунков с Дедом и Бабой?

• Рисунки расположены в правильном порядке? Какой рисунок должен быть первым? Какой – вторым? Третьим? Четвёртым? Пятым?

$$3=3$$

$$4=4$$

$$6=6$$