

# *Интересные загадки на логику*

*Подготовила  
учитель математики I категории  
МКОУ «Хотьковская СОШ»  
Думиничского района Калужской области  
Наталья Николаевна Коломина*



*Многие турецкие чистильщики обуви предлагают прохожим свои услуги совершенно бесплатно. Однако те, если решают воспользоваться их предложением, сами платят им деньги. Почему?*

*Мастера, изготавливающие сувениры, могут поместить внутрь бутылки кораблик. Можно ли придумать способ поместить в бутылку целый неразрезанный огурец и не повредить при этом сосуд?*

*Девушка уронила свое кольцо в чашку, полную кофе. Почему кольцо осталось сухим?*

*Чтобы увидеть ответ, кликните на стикер.*



*Где есть реки,  
но нет воды; есть  
города, но нет  
зданий; есть леса,  
но нет деревьев?*

*Когда человек  
находится дома без  
головы?*

*Один глаз, один рог,  
но не носорог. Что  
это?*

*5 станков за 5 минут  
производят 5 деталей. За  
только минут 100  
произведут 100  
ей?*



*Чтобы увидеть ответ, кликните на стикер.*



*Кирилл провел три дня в больнице. Он не был болен и не получил травму, но во время выписки его пришлось нести. Почему?*

*Что делать, если вы сели в машину и собрались ехать, а ноги не достают до педалей?*

*Что не является вопросом, но требует ответа?*

*У отца Мэри есть 5 дочерей: Чача, Чичи, Чече, Чочо. Как зовут 5 дочь?*



*Чтобы увидеть ответ, кликните на стикер.*








*В квартире живут домашние животные: собаки и кошки. Из всех животных только одно не является собакой, при этом все питомцы, кроме одного, — кошки. Сколько всего кошек и собак?*

*Дом имеет четыре стены, причём все они смотрят на юг. Вокруг дома ходит медведь. Какого он цвета?*

*Перед вами ряд слов: «сельдь», «кит», «акула», «тунец», «треска». Какое слово выпадает из этого ряда?*

*Какое слово начинается на три з, а заканчивается на три я?*

*Чтобы увидеть ответ, кликните на стикер.*





*Убийца приговорен к смертной казни. Он должен выбрать одну из трех комнат: в первой бушуют пожары, вторая — полна убийц с заряженными ружьями, а в третьей — много львов, которые не ели три года. Какая комната будет самой безопасной?*

*Средневековье, вы прислуживаете при королевском дворе. В один из дней король обвиняет вас в шпионаже и велит казнить. Но, предлагает выбрать способ смерти. Какой смерти попросить, чтобы выжить?*

*Дано слово из 4 букв, но еще оно может быть записано 3 буквами. Обычно можно записать 6 буквами, а затем 5 буквами. Отродясь содержало 8 букв, а изредка состоит из 7 букв.*

*Чтобы увидеть ответ, кликните на стикер.*



*Король сказал своим трём незамужним дочерям поставить на плиту одновременно три одинаковых чайника с одинаковым количеством воды. У кого чайник закипит быстрее, у той муж и будет наследником короля. Быстрее закипел у младшей дочери, которая вообще не хотела замуж. Почему?*

*Теннисные ракетка и мяч вместе стоят 1 евро и 10 центов. Теннисная ракетка на 1 евро дороже мяча. Сколько стоит мяч?*

*Определите, какая буква скрывается под знаком вопроса: И, И, А, С, О, Н, Д, Я, Ф, М, А, ?*

*Чтобы увидеть ответ, кликните на стикер.*





Что должно стоять на месте пропуска? 100, 97, 84, 67, 53, 41, 32, 21, ...

Продолжите последовательность: 5, 5, 6, 10, 9, 11, ...

..., ..., 3, 6, 4, 5, 4, 6, 6, 6, 11, 10. Какие два числа должны стоять в начале ряда?



Чтобы увидеть ответ, кликните на стикер





## *Интернет - источники:*

<https://bbf.ru/riddles/?page=2&tag=426>

[https://ds05.infourok.ru/uploads/ex/02a4/00011413-284941ea/hello\\_html\\_5edac6d1.png](https://ds05.infourok.ru/uploads/ex/02a4/00011413-284941ea/hello_html_5edac6d1.png)

[https://www.shilak.com/root/upload/up\\_product/1518616660412.png](https://www.shilak.com/root/upload/up_product/1518616660412.png)

[https://img-fotki.yandex.ru/get/15592/200418627.d3/0\\_14abac\\_fa6a6e8a\\_orig.png](https://img-fotki.yandex.ru/get/15592/200418627.d3/0_14abac_fa6a6e8a_orig.png)

[https://www.ejin.ru/wp-content/uploads/2018/10/ant\\_parade\\_by\\_yuuram.jpg](https://www.ejin.ru/wp-content/uploads/2018/10/ant_parade_by_yuuram.jpg)

<https://image.shutterstock.com/image-photo/ballpoint-pen-isolated-on-white-250nw-201958153.jpg>

[https://cdn.pixabay.com/photo/2013/07/12/18/15/sticker-153145\\_640.png](https://cdn.pixabay.com/photo/2013/07/12/18/15/sticker-153145_640.png)

<https://clipart-best.com/img/sticky-note/sticky-note-clip-art-10.png>

<https://cdn-0.imagemolde.com.br/wp-content/uploads/2020/10/Tiras-Post-it-PNG-1024x650.png>

<https://berserkon.com/images/clipart-designs-clipart-butterfly-6.png>

