




# «Счет до 10»



Воспитатель: Медведева Я.В.



## Помоги Зайчихе сосчитать своих зайчат

- 1. У Зайчихи было 10 зайчат. Сосчитай их всех от 1 до 10 и обратно.*
- 2. От 9 до 3*

1

2

3

4

5

6

7

8

9

10




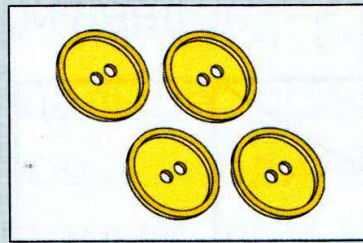
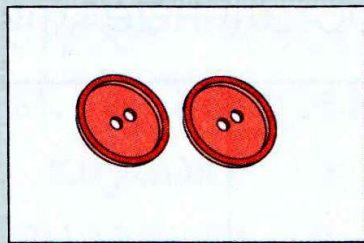



*Какое число стоит ПОСЛЕ*





*Разложи цифры на соответствующие ей  
картинки*



2

6

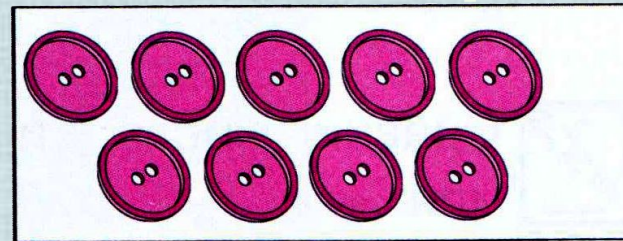
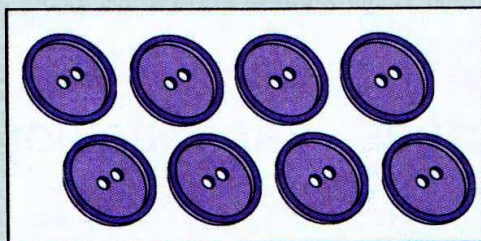

8

3

1

4




9





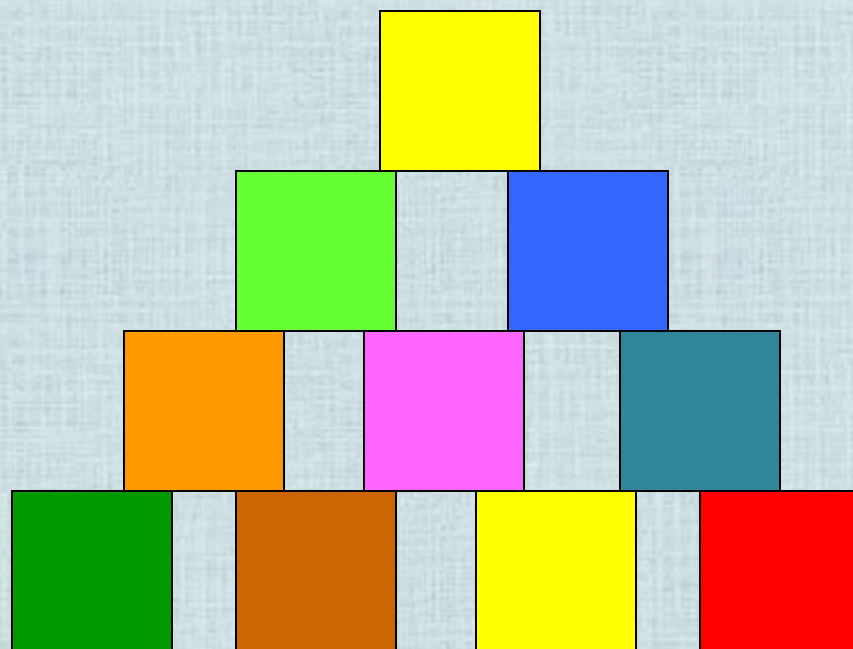


*Положи карточки с цифрами БОЛЬШЕ 5 на **красный** стол,  
а карточки с цифрами МЕНЬШЕ 5 на **зеленый** стол*



Сколько понадобилось зайцу кубиков для башни?

10







5



Сколько зайцев в корзине?




3





*У крышки стола 4 угла. Сколько  
останется углов, если 1 угол  
отпилить?*

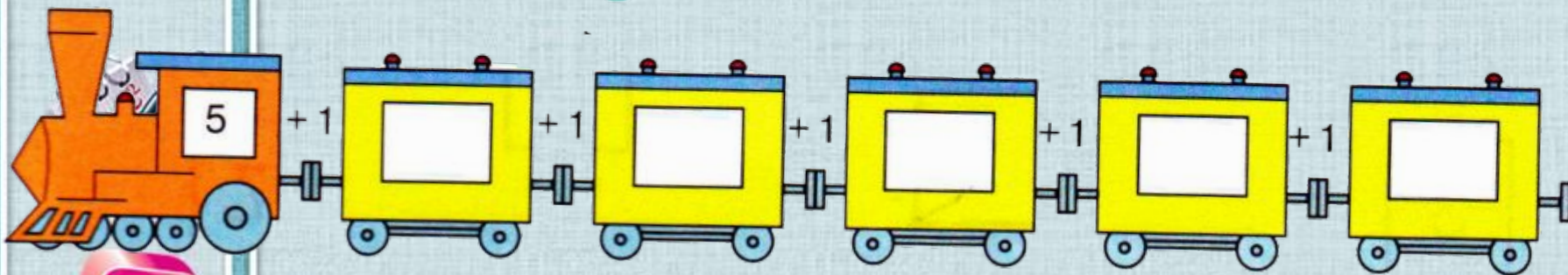
**5 углов**







Реши примеры, прибавляя 1 к следующему числу




- 1
- 2
- 3
- 4
- 5
- 6
- 7
- 8
- 9
- 10





*Реши примеры, убавляя 1 от числа*







$$5 + 5 = 10$$

Раз к зайчонку на обед  
Прискакал дружок-сосед.

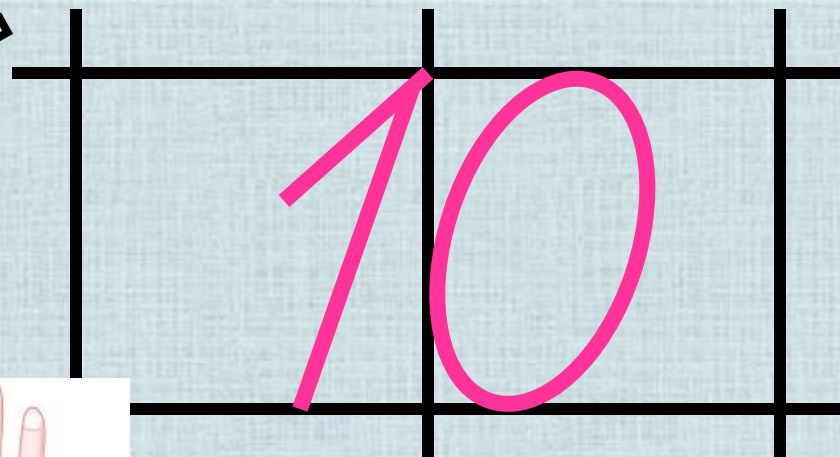
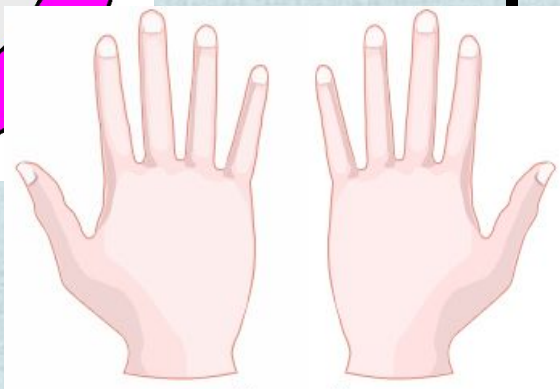
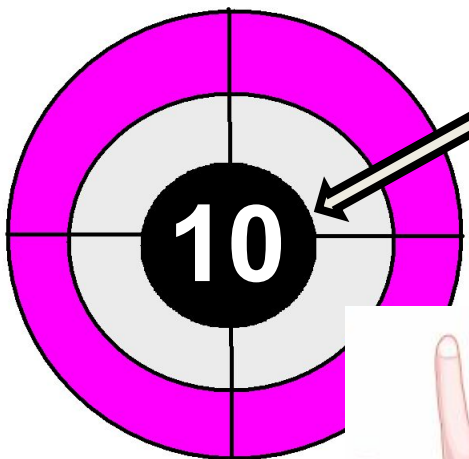
На пенёк зайчата сели

И по **ПЯТЬ** морковок съели.

Кто считать, ребята, ловок?

Сколько съедено морковок?





За девятью идет **ДЕСЯТКА.**

Ты это знаешь? Молодец!

Сочи все пальцы по порядку –

И счету нашему конец.





*Спасибо*

*за внимание!*



## *Используемые ресурсы:*

1. Годовой курс подготовки к школе: для детей 6-7 лет/ Липская Н.М. , И.М. Мальцева, С.В. Пятак и др. – М.: Эксмо, 2014.- 320 с.: ил. - (Ломоносовская школа).
2. Кубики с цифрами  
[http://img-fotki.yandex.ru/get/6510/134091466.a/0\\_8eade\\_b145a1ba\\_S](http://img-fotki.yandex.ru/get/6510/134091466.a/0_8eade_b145a1ba_S)
3. Сова [http://img-fotki.yandex.ru/get/6520/108950446.113/0\\_cd1fc\\_4b1c61ad\\_S](http://img-fotki.yandex.ru/get/6520/108950446.113/0_cd1fc_4b1c61ad_S)
4. Циркуль [http://img-fotki.yandex.ru/get/6423/108950446.113/0\\_cd1e7\\_4caa1851\\_S](http://img-fotki.yandex.ru/get/6423/108950446.113/0_cd1e7_4caa1851_S)
5. Цифра 5 [http://img-fotki.yandex.ru/get/9511/134091466.ce/0\\_cb245\\_e401dbc8\\_S](http://img-fotki.yandex.ru/get/9511/134091466.ce/0_cb245_e401dbc8_S)
6. Блокнот с ручкой [http://img-fotki.yandex.ru/get/19/108950446.6d/0\\_b4102\\_1793a431\\_S](http://img-fotki.yandex.ru/get/19/108950446.6d/0_b4102_1793a431_S)
7. Шаблон <http://pedsovet.su/load/412-1-0-43027>





## Инструкция:

**1. У Зайчихи было 10 зайчат. Сосчитай их всех от 1 до 10 и обратно.**

При нажатии на задание - запускается «Счет от 1 до 10 и обратно»

**2. От 9 до 3**

При нажатии на задание - запускается «Счет от 9 до 3»

Другие слайды выполняются по такому же принципу.