

Назовите только те числа, которые равны сумме двух других чисел в этой группе.

350, 730, 480

240, 270, 510

370, 280, 650

380, 630, 260







Минутка для любознательных.

Взяли геометрические фигуры: отрезок, круг, треугольник, звезда и квадрат. В каком порядке они нарисованы, если известно, что:

1. Отрезок не рядом с треугольником,
2. Треугольник не рядом с кругом,
3. Круг не рядом со звездой,
4. Звезда не рядом с отрезком,
5. Треугольник не рядом с квадратом,
6. Квадрат не рядом с кругом,
7. Звезда располагается рядом с квадратом и находится справа от него?

Проверка:



Алгоритм вычитания многозначных чисел.

Найди ошибки.

$$\begin{array}{r} 768 \\ - 360 \\ \hline 408 \end{array}$$

$$\begin{array}{r} 584 \\ - 42 \\ \hline \del{164} \\ 542 \end{array}$$

$$\begin{array}{r} \overset{\bullet}{4}94 \\ - 248 \\ \hline \del{256} \\ 246 \end{array}$$

$$\begin{array}{r} 675 \\ - 213 \\ \hline \del{6543} \\ 462 \end{array}$$

$$\begin{array}{r} \overset{\bullet}{7}\overset{\bullet}{0}1 \\ - 385 \\ \hline \del{326} \\ 316 \end{array}$$

$$\begin{array}{r} \overset{\bullet}{8}\overset{\bullet}{0}\overset{\bullet}{0} \\ - 367 \\ \hline \del{442} \\ 432 \end{array}$$

Запомни!

Алгоритм вычитания:

1. Единицы подписываются под единицами, десятки - под десятками, сотни - под сотнями ! И т.д.
2. Счёт в столбиках начинается с единиц!
3. Помни: каждой цифре своя клетка!



КОПРА МАЛЕНЧЕНКО РЕАКЕ
47
WILLIAMS ОВЧЕНИН СКРИПОЧКА



Задача.

I – 5 т 602 кг

II - ⁵²¹⁸?, на 3 ц 84 кг меньше

III ⁵¹⁵³?, на 65 кг меньше



$$\begin{array}{r} 1). \quad 5602 \\ \quad \underline{\quad} \\ \quad \quad 384 \\ \quad \underline{\quad} \\ \quad 5218 \text{ (кг) - II} \end{array}$$

$$\begin{array}{r} 2). \quad \underline{\quad} 5218 \\ \quad \quad \quad 65 \\ \quad \underline{\quad} \\ \quad 5153 \text{ (кг) - III} \end{array}$$

