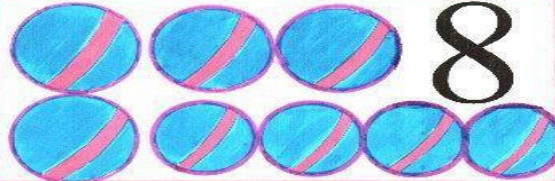


9

1



8

2




7

3



6

4



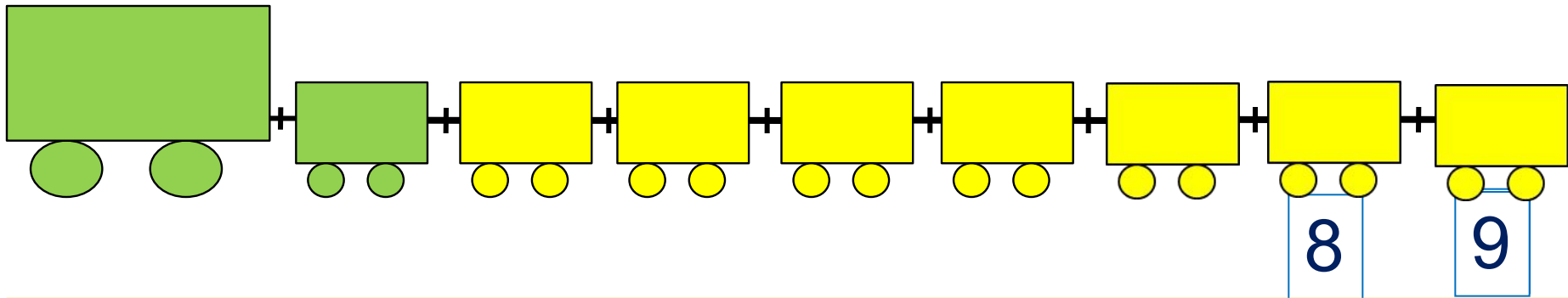
5

Число девять. Цифра 9

1. Помоги Пете ответить на вопросы.

Сколько вагонов было?

Сколько стало?

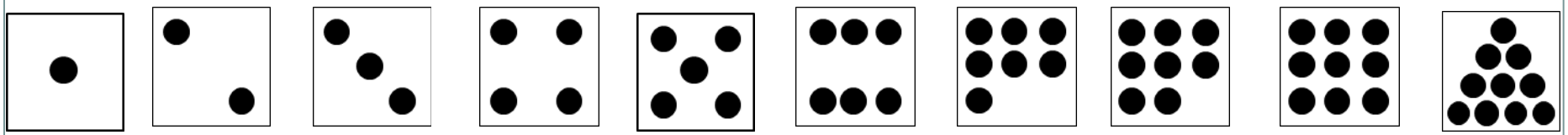
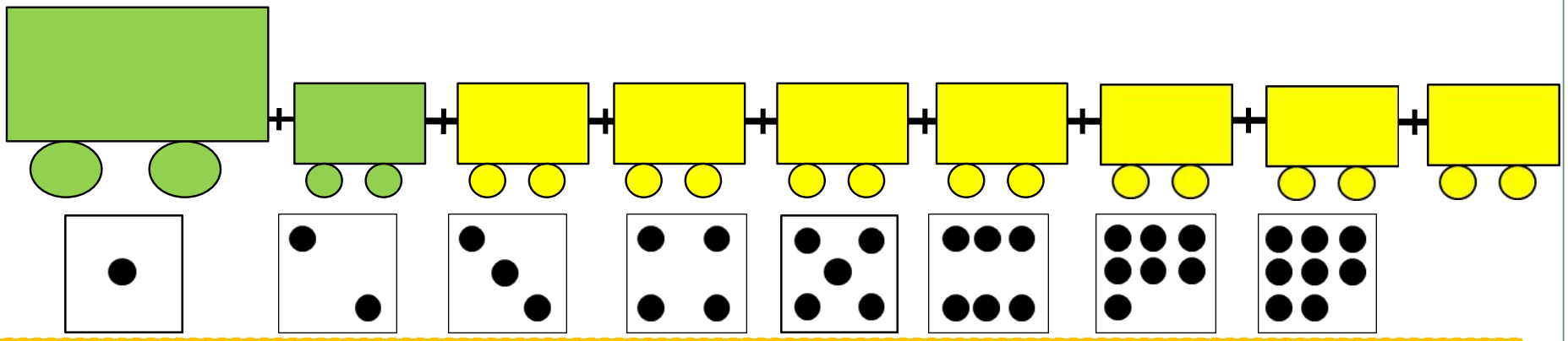


Составьте выражение к рисунку: $8 + \square =$

- 1
- 2
- 3
- 4
- 5
- 6
- 7
- 8
- 9

Число девять. Цифра 9

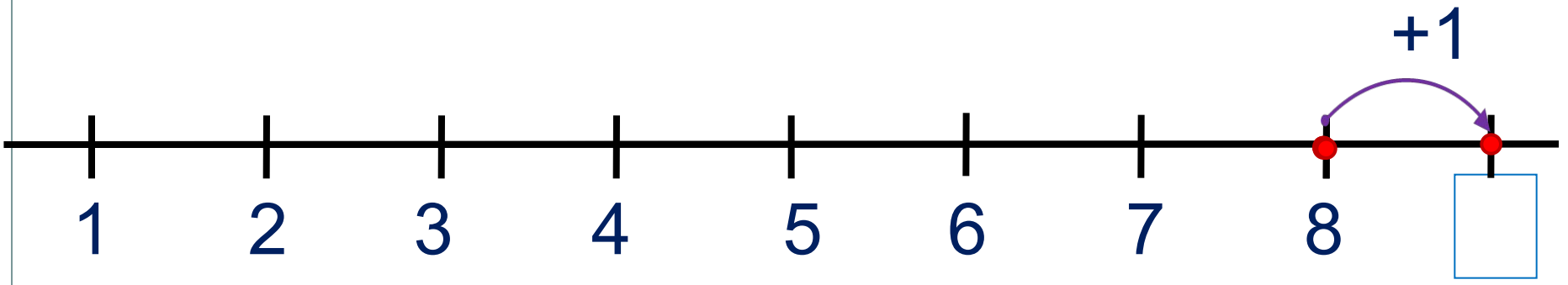
2. Сколько точек надо нарисовать Пете на последней карточке?
? Сколько всего вагонов? Какой по счёту последний?



Число девять. Цифра 9

5. Какие равенства можно записать к рисункам?

Вправо - плюс

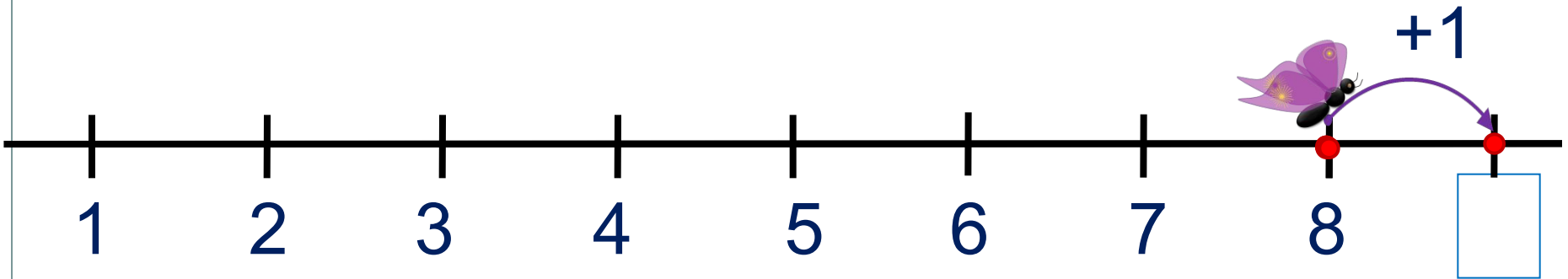


1	2	3	4	5	6	7	8	9	+	-	=
---	---	---	---	---	---	---	---	---	---	---	---

Число девять. Цифра 9

5. Какие равенства можно записать к рисункам?

Вправо - плюс



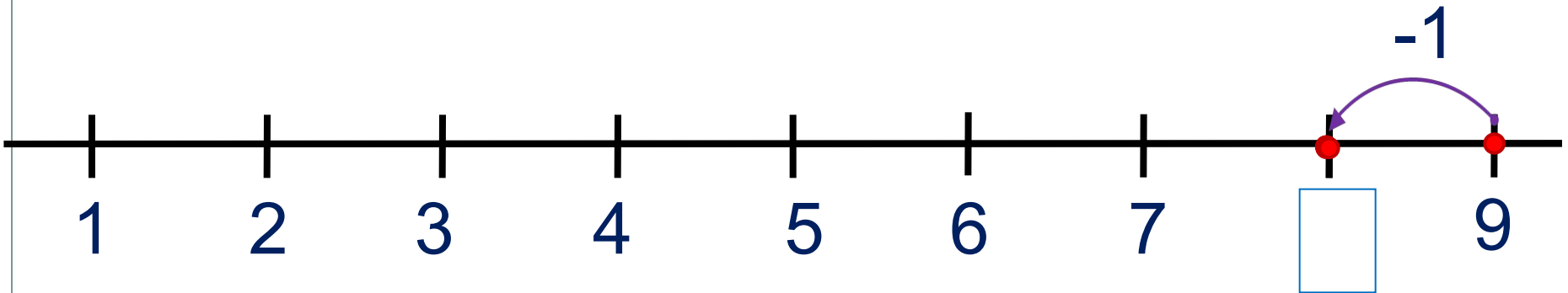
ПРОВЕРЬ!

1	2	3	4	5	6	7	8	9	+	-	=
---	---	---	---	---	---	---	---	---	---	---	---

Число девять. Цифра 9

5. Какие равенства можно записать к рисункам?

Влево - минус

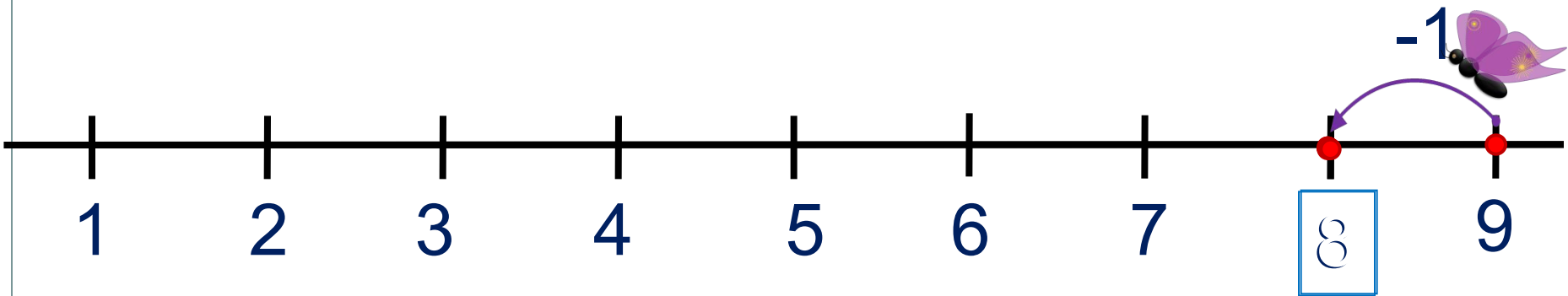


1	2	3	4	5	6	7	8	9	-	+	=
---	---	---	---	---	---	---	---	---	---	---	---

Число девять. Цифра 9

5. Какие равенства можно записать к рисункам?

Влево - минус

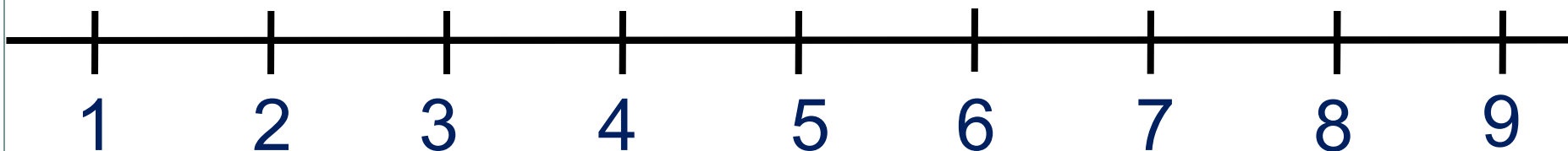


ПРОВЕРЬ!

1 2 3 4 5 6 7 8 9 - + =

Число девять. Цифра 9

6. Сравни числа (>, <, =)



$1 \square 9$

$9 \square 8$

$2 \square 9$

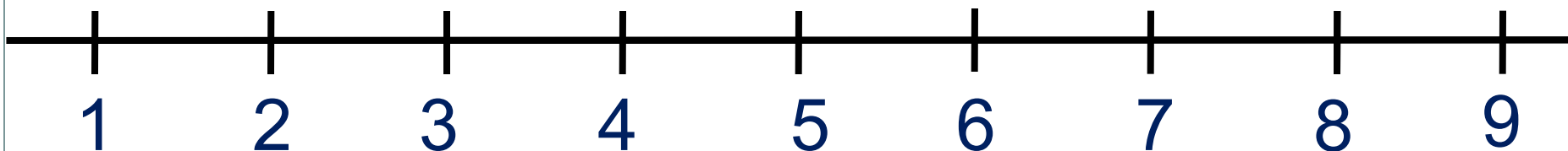
$3 \square 9$

$9 \square 6$



Число девять. Цифра 9

6. Сравни числа (>, <, =)



$1 \square 9$

$9 \square 8$

$2 \square 9$

$3 \square 9$

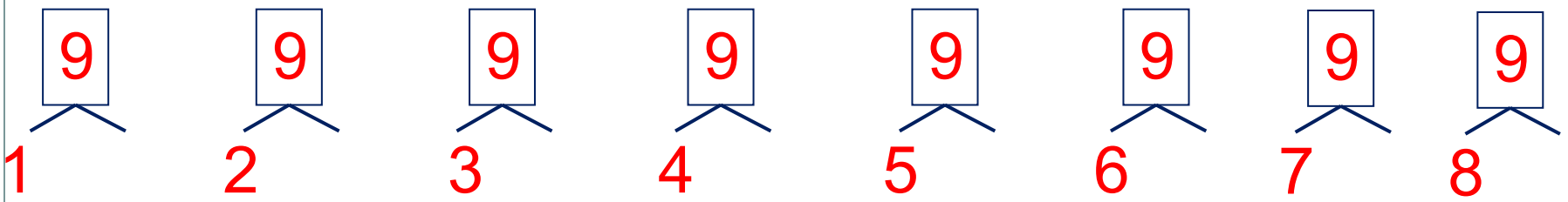
$9 \square 6$



ПРОВЕРЬ!

Число девять. Цифра 9

7. Расскажите о числе девять:



· Какие числа можно записать в «окошках»?

9	1	2	3	4	5	6	7	8
			6					1

Внимание!

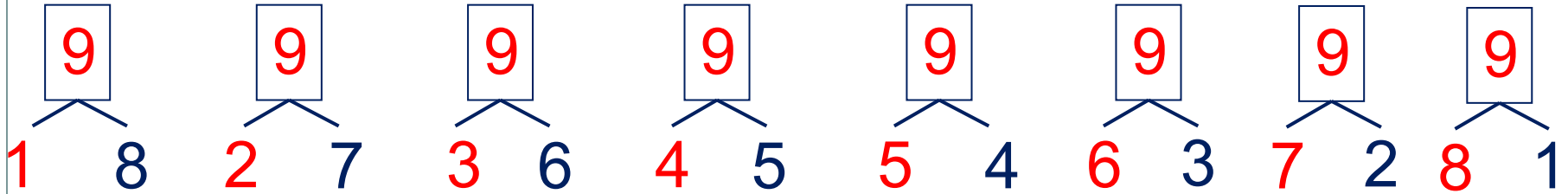
Данное задание можно выполнить интерактивно.

Для этого презентацию надо перевести в режим редактирования.


1 2 3 4 5 6 7 8 9

Урок 47. Число девять. Цифра 9

7. Расскажите о числе девять:



· Какие числа можно записать в «окошках»?



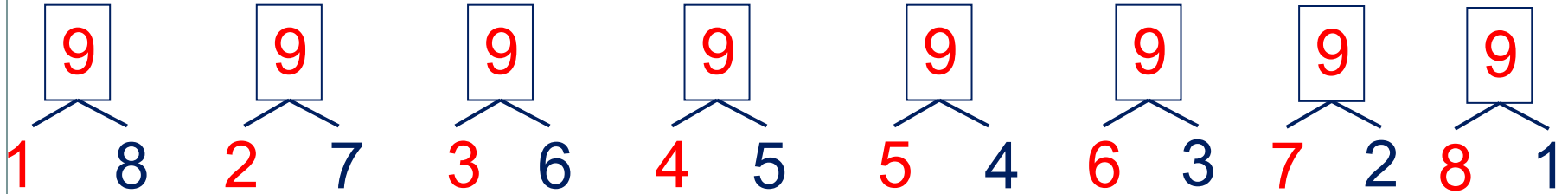
9	1	2	3	4	5	6	7	8
			6					1

1 2 3 4 5 6 7 8 9


ПРОВЕРЬ!

Урок 47. Число девять. Цифра 9

7. Расскажите о числе девять:



· Какие числа можно записать в «окошках»?



9	1	2	3	4	5	6	7	8
	8	7	6	5	4	3	2	1

1

6

9

ПРОВЕРЬ!

РЕФЛЕКСИЯ



**Мне на уроке было все
понятно**



**На уроке мне было
интересно**



**Я почувствовал, что смогу
выполнить домашнее
задание самостоятельно**



**Мне сегодня было трудно
и не все понятно**

Спасибо!