

Муниципальное бюджетное общеобразовательное учреждение  
средняя общеобразовательная школа №2  
Карасукского района  
г.Карасук

# Число и цифра

# 4

Составила: Сваткова Олеся Юрьевна  
учитель начальных классов  
МБОУ СОШ № 2

г. Карасук  
2019 г.

**В садике гулял павлин  
Словно важный господин.  
И три павлина за кустами.  
Сколько их? Считайте сами.**



Три пушистых кошечки улеглись в  
лукошечке,  
Тут одна к ним прибежала -  
Сколько вместе кошек стало?



**Выложи из счётных палочек  
квадрат**

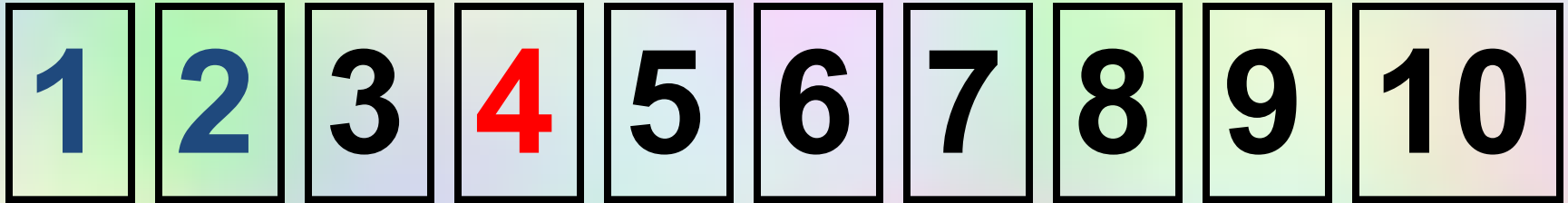


**Посчитай, сколько углов получилось?**

Тема урока:

# ЧИСЛО И ЦИФРА





предыдущее

последующее



Сегодня на уроке:

Мы познакомимся...

Мы узнаем....

Мы научимся писать...




Мы познакомимся, с числом  
и цифрой 4

Мы узнаем, как получить  
число 4

Научимся писать цифру 4



Сколько кругов было?



3

Сколько стало?



4

Сколько кругов было?




2

Сколько стало?



4



1



4

# Состав числа 4

дом № 4

назовём  
жителей  
этого дома

4

3

1

2

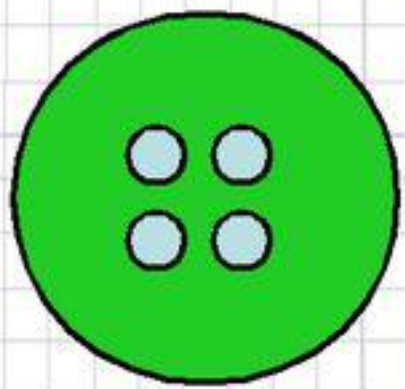
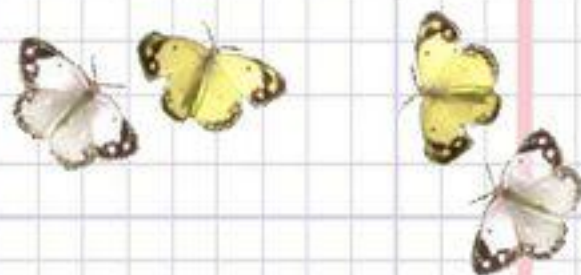
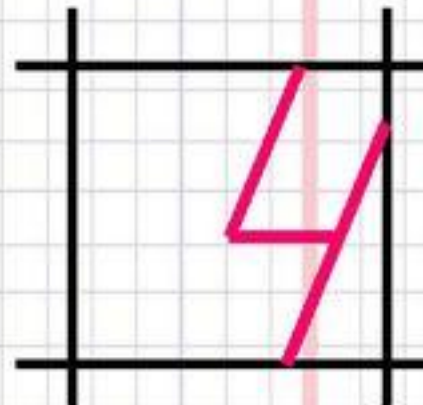
2

1


3



Цифра новая – **четыре**. Стол  
стоит у нас в квартире,  
Сколько ножек у него –  
У стола у твоего?



# 4



Четыре лапы у кошки и у собаки.


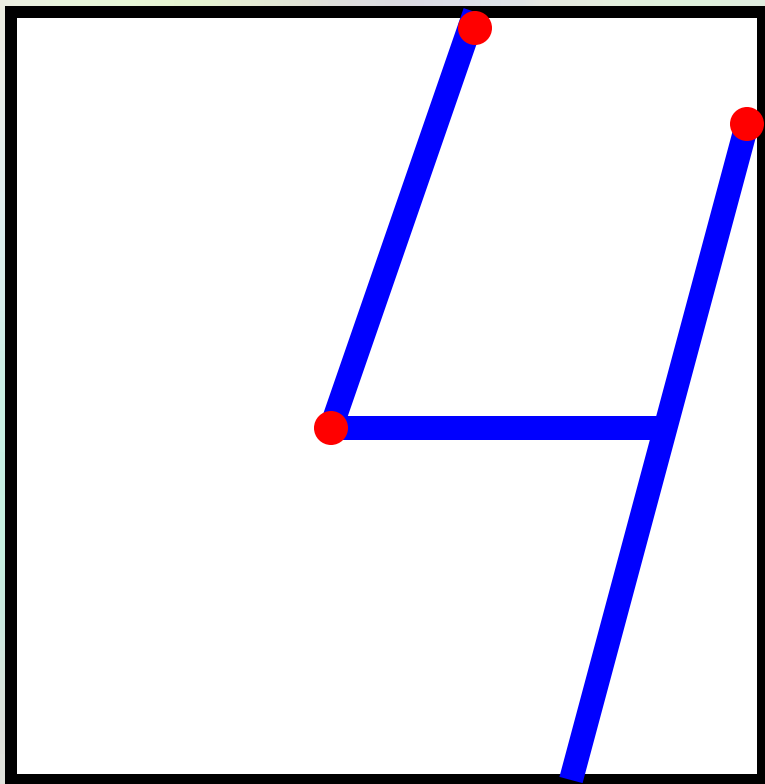
Четыре колеса у машины.


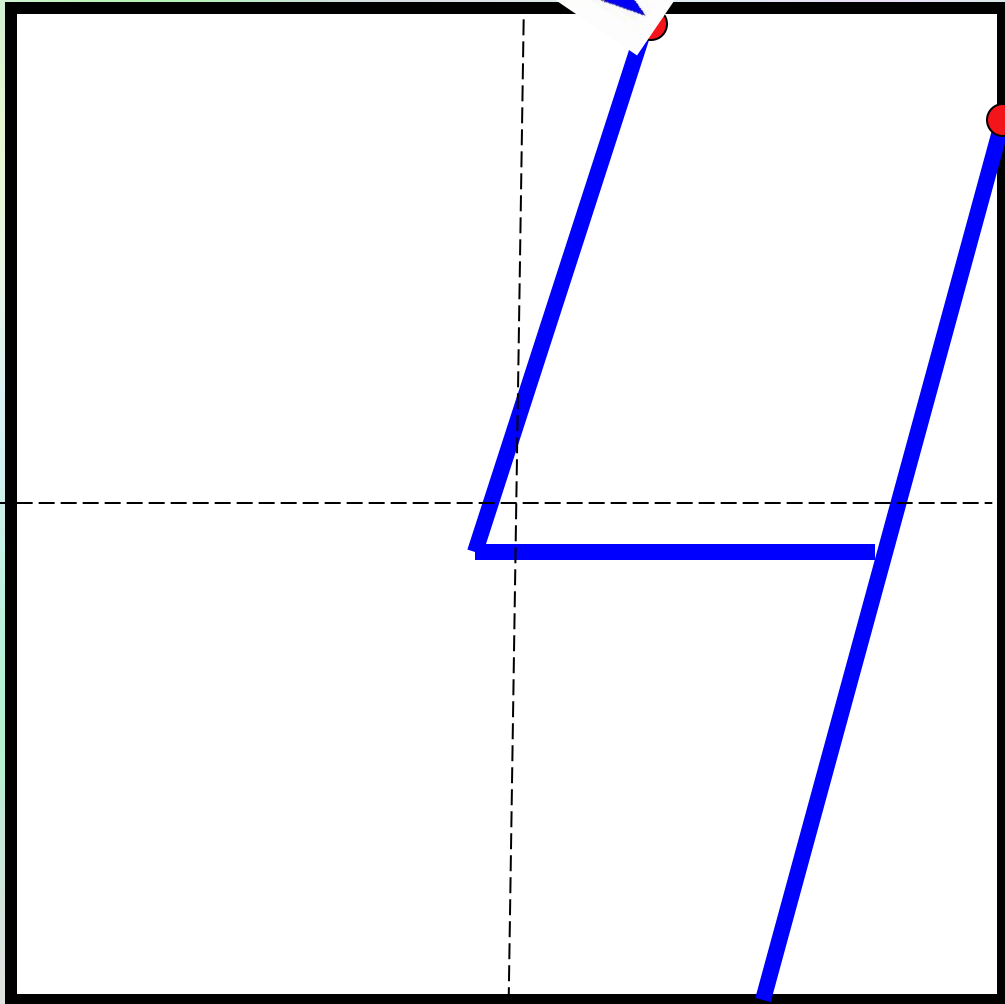
Четыре времени года.

Четыре ножки у стула и у стола.



За тремя идут четыре,  
Острый локоть  
оттопыря.







**На ветке сидели три воробья,  
Прилетел еще один воробей .  
Сколько стало птиц на ветке?**



$$3 + 1 = 4$$

**Кот поймал четыре мышки.  
Две мышки он отдал котёнку.  
Сколько мышек осталось у кота?**



**ЗАПИШИ С ПОМОЩЬЮ МАТЕМАТИЧЕСКИХ ЗНАКОВ:**

$$4 - 2 = 2$$

В аквариуме плавало **две синих** и **одна красная** рыбка.  
Мальчик купил ещё жёлтую рыбку.  
Сколько рыбок стало у мальчика в аквариуме?

