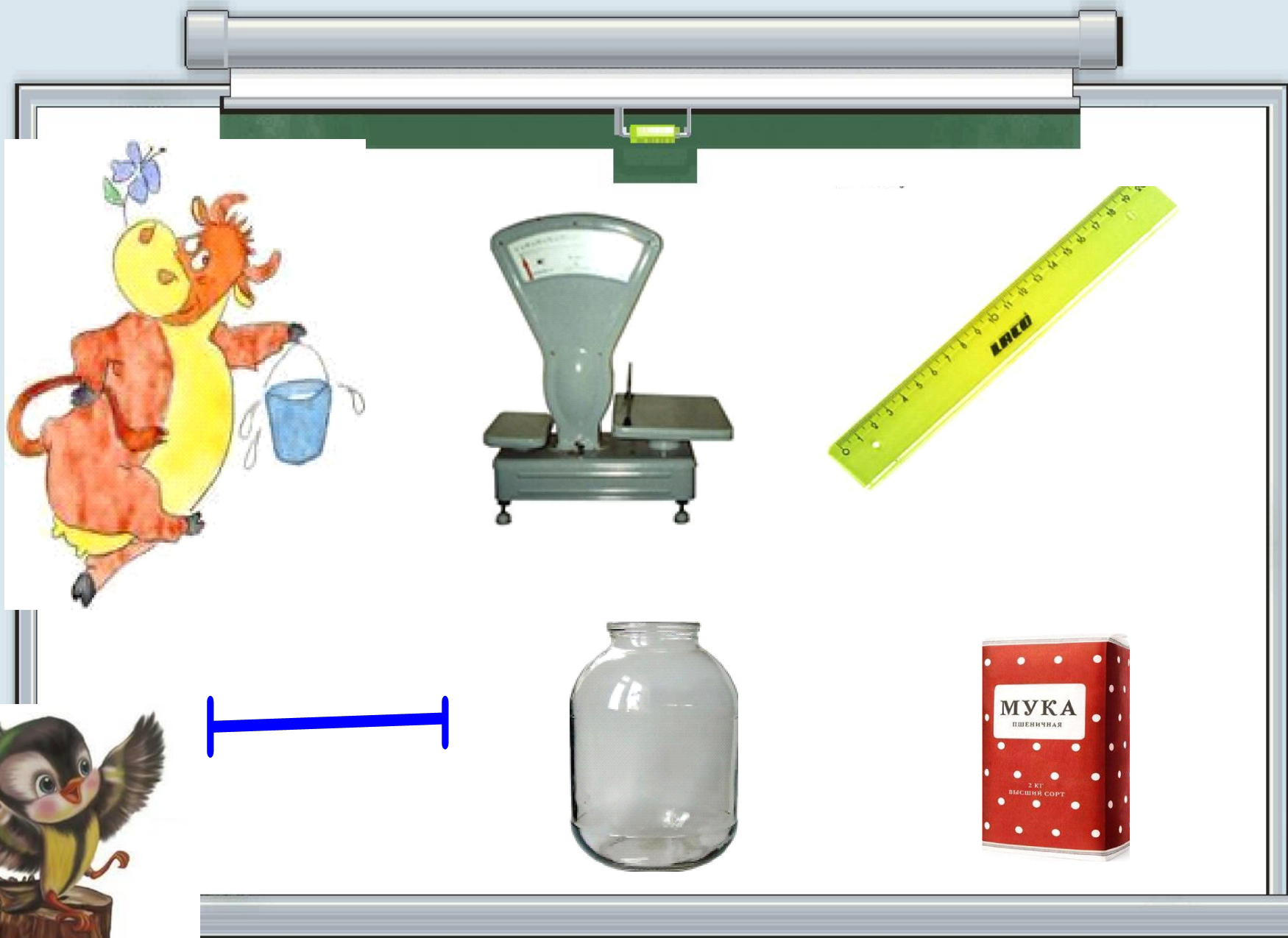


115 12 13 14 15








объем



масса



длина



*Л*

*см*

*кг*



# Практическая работа

1. С помощью мерки (1 см) измерьте длину счетной палочки.



2. С помощью мерки (1 см) измерьте длину парты.





*1 см*

*1 дм = 10 см*



*дециметр*






Дециметр - единица измерения длины

# Практическая работа

2. С помощью мерки (1 дм) измерьте длину парты.





- Какую новую единицу длины вы узнали?
- Сколько СМ в 1 ДМ?
- Какую работу вам понравилось выполнять?
- Длину каких предметов можно измерить моделью СМ? моделью ДМ?
- Почему нужны разные мерки?

