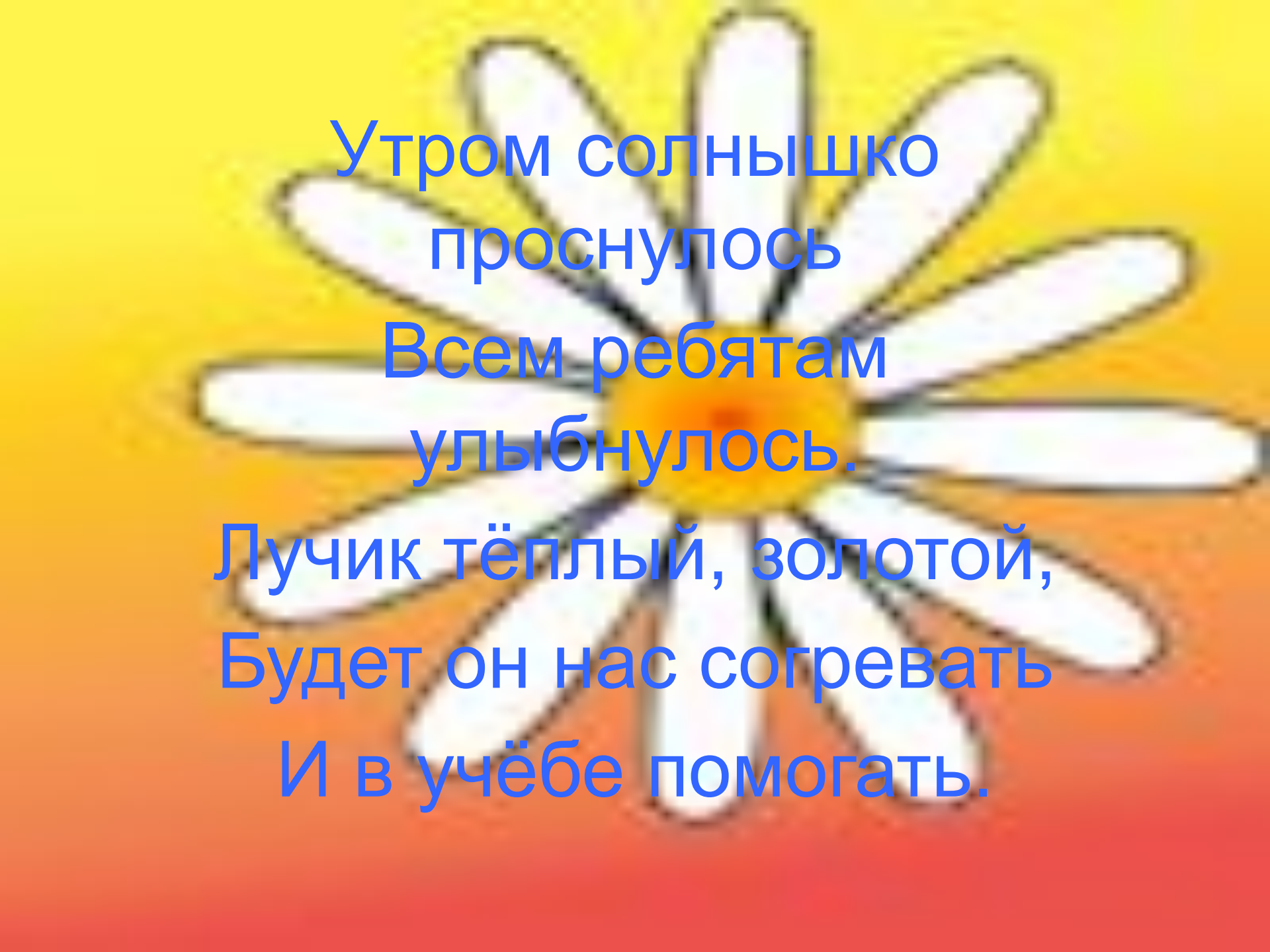


Тема:

Сантиметр и миллиметр

Цель

- **Знать соотношения между единицами длины**
- **Уметь измерять и вычислять, используя изученные единицы длины**




Утром солнышко
проснулось

Всем ребятам
улыбнулось.

Лучик тёплый, золотой,
Будет он нас согревать
И в учёбе помогать.

Загадка

- С неба звёзды падают,
Лягут на поля.
Пусть под ними скроется
Чёрная земля.
Много, много звёздочек,
Тонких, как стекло;
Звёздочки холодные,
А земле тепло!



Устный счёт

- Лотерея «Спринт» (задание № 7)
- Снежинки (самостоятельная раб.)
- «Посчитай-ка»

$37+18=$

$74-43=$

$71+28=$

$64+26=$


$89-67=$

$64-38=$

$124+303=$

$650-230=$


$726+250=$



Практическая работа

- Измерение отрезков
- Учебник стр.102 № 343

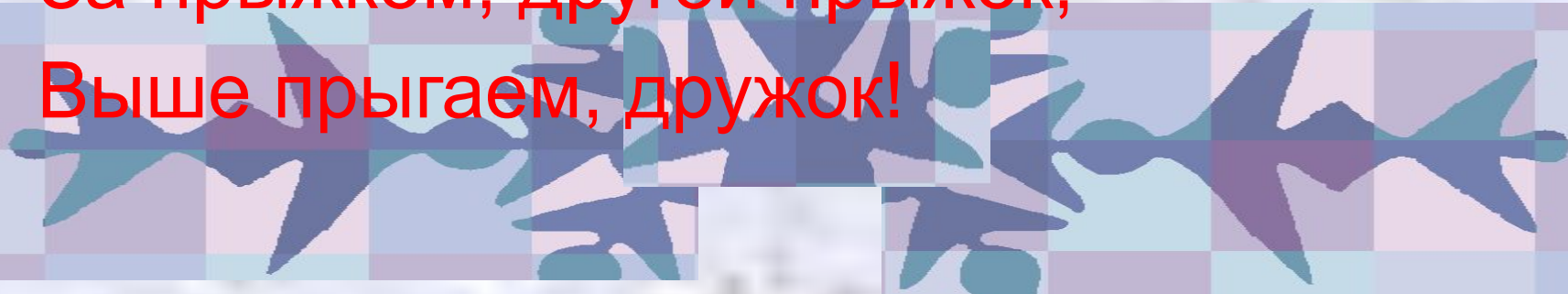
ВЫВОД



1 см = 10 мм

Физминутка

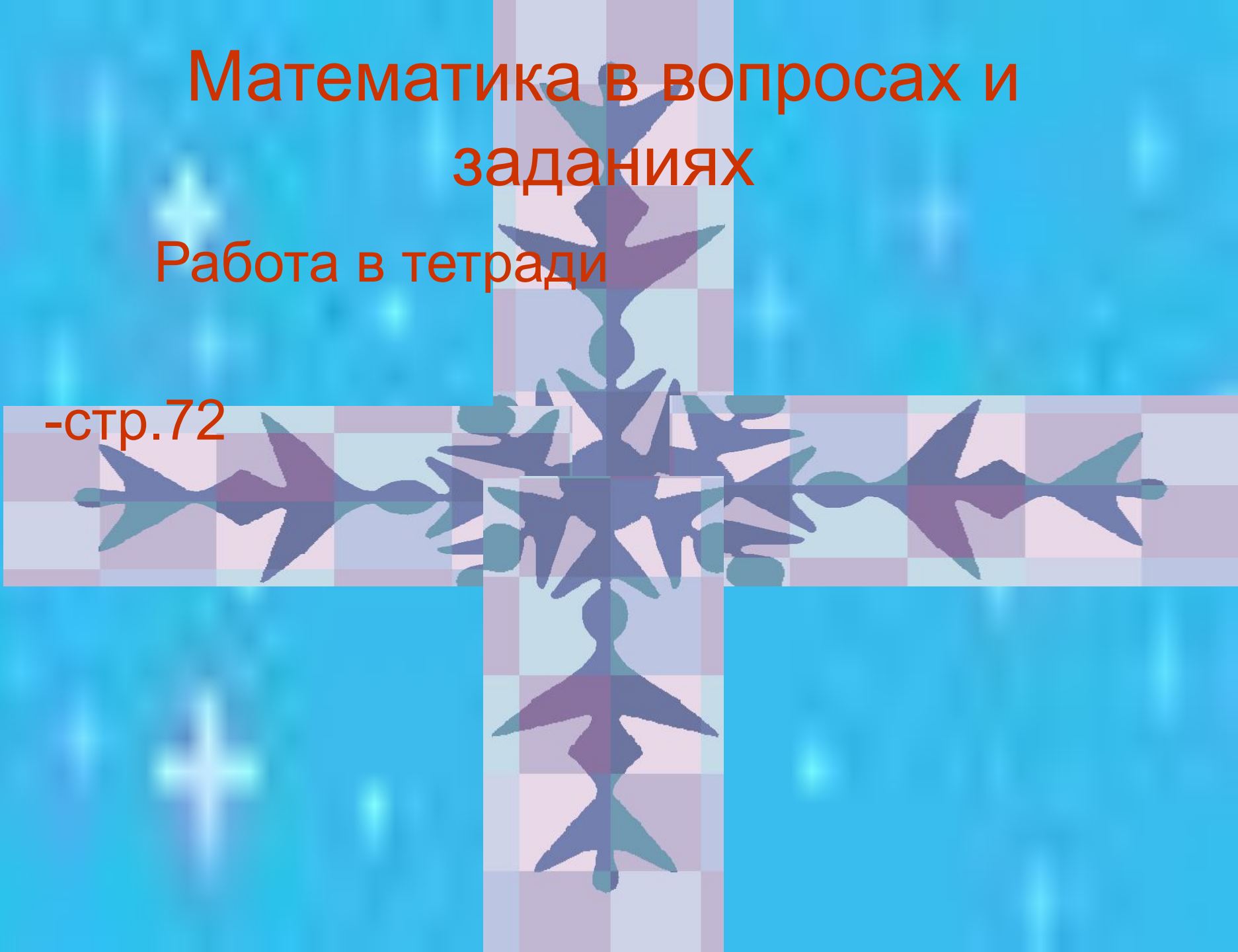
- Будем прыгать, как лягушка,
Чемпионка- попрыгушка!
За прыжком, другой прыжок,
Выше прыгаем, дружок!



Математика в вопросах и заданиях

Работа в тетради

-стр.72



Задачи



Задачи

- Наташа посадила 4 ряда луковиц, по 9 луковиц в ряду, а Толя посадил 2 ряда по 15 луковиц. На сколько луковиц Наташа посадила больше, чем Толя?
- В цветочный киоск привезли 30 букетов гвоздик по 3 цветка в каждом и 2 букета роз по 5 цветов в каждом букете. Во сколько раз гвоздик привезли больше, чем роз?


Итог урока

- Чему учились на уроке?
- Что нового узнали?
- Самооценка.



ПОМНИ

- 1 см = 10 мм



Домашнее задание

- Тетрадь – стр.72 № 150
- Резерв- № 149 (в)

