

*МКОУ «Хомутовская средняя
общеобразовательная школа
с углублённым изучением английского языка»*

Урок математики в 4 классе

Учитель: Леухина Светлана
Михайловна

АДЯ + БС



*16 марта.
Классная работа.*

Девиз урока:

«Расскажи - и я забуду,
Покажи – и я запомню,
Дай попробовать - и я пойму»



Задача.

В посёлке Хомутовка выделили место для спортивного комплекса.

Одну часть территории будет занимать спортивный стадион, другую – тренажёрная площадка, третью – детский городок.


Какую площадь необходимо приготовить для данного проекта, если ширина площадок 156 м, а длина 76 м, 100 м, 58 м?

- Какие знания вам необходимы для решения этой задачи?





156 м



76 м

100 м

58 м






156 м



76 м

100 м

58 м




?





156 m



76 m

100 m

58 m

234 m

$$S = a * b$$

$$S = 156 * 234$$





$$\begin{array}{r} 156 \\ * 234 \\ \hline 624 \\ + 468 \\ 312 \\ \hline 36504 \end{array}$$





Тема урока :

*Письменное умножение
на трёхзначное число.*

Цели урока :

- Отработать алгоритм умножения на трёхзначное число.
- Учиться умножать многозначные числа на трёхзначные, используя данный алгоритм.





Сразу могу применить	
Совсем не понятно	Хорошо понятно
Никогда не смогу применить	

