

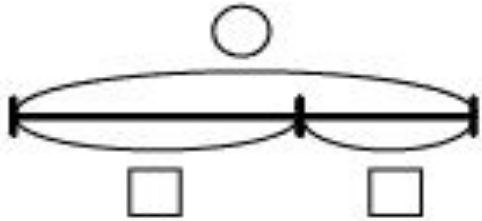
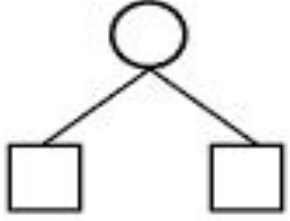
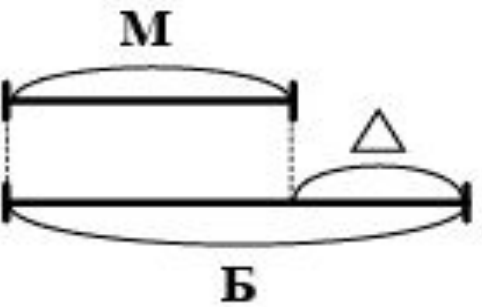
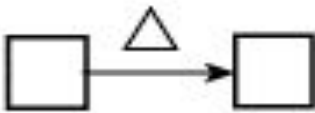
**Сколько килограммов может съесть каждое животное в день? Кто ест меньше всех? Кто ест больше всех?**

**На сколько килограммов заяц съедает меньше, чем лось?**



$5 - 1 = 4 \text{ (кг)}$   
Ответ: масса соли 4 кг.

## Выбери чертёж и схему к задаче

Тип задачи	Чертёж	Схема	Формулы
Задачи на целое и части			$\bigcirc = \square + \square$ $\bigcirc = \square - \square$
Задачи на разностное сравнение			$\mathbf{Б = М + \Delta}$ $\mathbf{М = Б - \Delta}$ $\mathbf{\Delta = Б - М}$