


# Решаем задачи

## Математика

### 1 класс



## Реши задачу

Пока Миша с мамой ждали свой поезд, прошло 3 товарных и 2 скорых поезда. Сколько всего поездов прошло?



$$3 + 2 = 5 \text{ (п.)}$$

**Ответ: 5 поездов.**



## Реши задачу

В пруду купались  взрослых человека и  ребенка. Сколько всего людей купалось в пруду?




$$4 + 2 = 6 \text{ (ч.)}$$

**Ответ: 6 человек.**


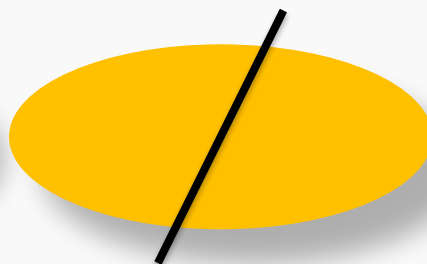



**Реши задачу**

У Вали было



Она съела 2 конфеты. Сколько конфет  
осталось у Вали?




$$3 - 2 = 1 \text{ (к.)}$$

**Ответ: 1 конфета.**



**Реши задачу**



$$4 - 1 = 3 \text{ (ш.)}$$

**Ответ: 3 шарика.**



## Реши задачу

У Васи было 6 книг. Ему подарили ещё 2 книги. Сколько книг стало у Васи?



$$6 + 2 = 8 \text{ (к.)}$$

Ответ: 8 книг.



## Реши задачу

У Васи было 6 марок. Ему подарили ещё 2 марки. Сколько марок стало у Васи?



$$4 + 2 = 6(\text{м.})$$

Ответ: 6 марок.



## Реши задачу

У Лены было 3 собачки. Она подарила подруге 1 собачку. Сколько собачек осталось у Вали?



$$3 - 1 = 2 \text{ (с.)}$$

Ответ: 2 собачки.





# Реши задачу

*Утят – 8 пт.*

*Гусят – ? пт., на 2 пт. больше*

**? пт.**

$$8 + 2 = 10 \text{ (пт.)}$$

**Ответ: 10 птиц гусят.**

1)  $8 + 2 = 10 \text{ (пт.)} - \text{гусят.}$

2)  $8 + 10 = 18 \text{ (пт.)} - \text{всего.}$

**Ответ: 18 птиц утят и гусят вместе.**



# Запиши вопрос

*Муки – 8 кг*

*Крупы – 2 кг*

} **Ответ? кг**

**Сколько всего купили крупы и муки?**

$$8 + 2 = 10 \text{ (кг)}$$

**Ответ: 10 кг купили всего**

**На сколько кг больше муки, чем крупы?**

$$8 - 2 = 6 \text{ (кг)}$$

**Ответ: на 6 кг больше муки, чем крупы**



## Поставь вопрос и реши задачу

*Ласточки – 6 пт.*

*Стрижи – 4 пт.*

на ? пт.  
пт.  
больше

**Сколько всего птиц ?**

$$6 + 4 = 10 \text{ (пт.)}$$

**Ответ: 10 птиц всего.**

**На сколько птиц больше ласточек, чем стрижей?**

$$6 - 4 = 2 \text{ (пт.)}$$

**Ответ: на 2 птицы больше ласточек.**



# Запиши вопрос

*Ласточки – 6 пт.*

*Стрижи – 12 пт.*

**на? пт.**

$$6 + 12 = 18 \text{ (пт.)}$$

**Октябрь двенадцать**

$$12 - 6 = 6 \text{ (пт.)}$$

**На сколько меньше месяцев, чем в году, четверг?**

