

ЧТО УЗНАЛИ?

ЧЕМУ НАУЧИЛИСЬ?

ЗАКРЕПИМ ЗНАНИЕ ТАБЛИЦЫ УМНОЖЕНИЯ
И ДЕЛЕНИЯ;

ЗАКРЕПИМ УМЕНИЕ РЕШАТЬ УРАВНЕНИЯ;

ЗАКРЕПИМ УМЕНИЕ РЕШАТЬ
ВНЕТАБЛИЧНЫЕ СЛУЧАИ УМНОЖЕНИЯ И
ДЕЛЕНИЯ;

ЗАКРЕПИМ УМЕНИЕ ДЕЛИТЬ С ОСТАТКОМ И
ВЫПОЛНЯТЬ ПРОВЕРКУ;

ПРОДОЛЖИМ УЧИТЬСЯ РЕШАТЬ ЗАДАЧИ.

**СТАНЦИЯ
«РЕШАЕМ
УРАВНЕНИЯ»**

$$6 * X = 54$$


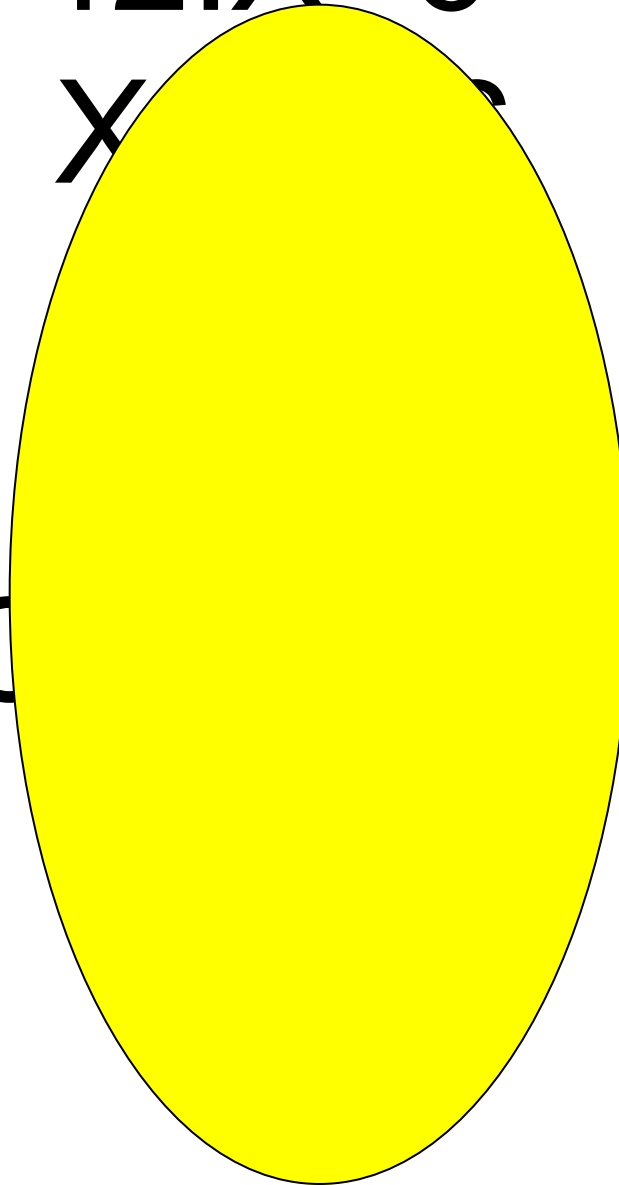

X =

$$42 : X = 6$$

X =

$$X : 8 = 7$$

X =



ПРОКОММЕНТИРУЙ!

$$18 * 4 =$$

$$96 : 3 =$$

$$42 : 3 =$$

$$45 : 15 =$$

СТАНЦИЯ

«ДЕЛИМ И
УМНОЖАЕМ»

$13*2=$

$12*4=$

$16*5=$

$99:9=$

$69:3=$

$55:5=$

$72:4=$

$91:7=$

$78:2=$

$64:16=$

$51:17=$

$80:16=$

НАЙДИ ЛИШНИЙ

30:5

72:8

35:4

42:6

СТАНЦИЯ



«ДЕЛИМ С ОСТАТКОМ»

СТАНЦИЯ

«ЗАДАЧКИНО»

В ЦВЕТОЧНОМ МАГАЗИНЕ
СОБРАЛИ БУКЕТ ИЗ
ТЮЛЬПАНОВ И ГВОЗДИК.
ИЗ 75 ТЮЛЬПАНОВ
СОБРАЛИ 25 БУКЕТОВ.
СКОЛЬКО ПОЛУЧИТСЯ
ТАКИХ ЖЕ БУКЕТОВ ИЗ 90
ГВОЗДИК?

?

Название цветов	Общее количество цветов	Количес тво букетов	Количество цветов в букете
Тюльпаны 	75	25	Одина- ковое
Гвоздики 	90	?	

РЕШЕНИЕ

1) $75:25=3$ (Ц) В ОДНОМ БУКЕТЕ

2) $90:3=30$ (Б) ИЗ ГВОЗДИКИ

ОТВЕТ: 30 БУКЕТОВ.

**СПАСИБО ЗА
ПУТЕШЕСТВИЕ!**

