


Урок математики
3 класс
Задачи на деление
на равные части

Учитель начальных классов
МБОУ СОШ № 92 г.Воронеж
Лебедева Надежда Ивановна



В магазин привезли 6 ящиков бананов по 3 кг в каждом. Сколько килограммов бананов привезли в магазин???



$$3 \cdot 6 = 18 \text{ (кг)}$$

Ответ: 18 кг.


Купили 3 порции мороженого по 8 рублей. Сколько стоит покупка?



$$8 \cdot 3 = 24 \text{ (р.)}$$

Ответ: 24 р.

6 тюльпанов поставили в вазы по 3 тюльпана. Сколько ваз потребовалось?




адежда Ивановна МБОУ СОЦ



**6 тюльпанов поставили в 2
вазы . Сколько тюльпанов в
одной вазе ?**

6 : 2 = 3 (т.)
Ответ: 3 тюльпана в одной вазе .




дежда Ивановна МБОУ СС



ж

18 яблок разложили в 3 коробки поровну. Сколько яблок в одной коробке?



8 огурцов разложили в 2 банки поровну. Сколько огурцов в одной банке?

8 : 2 = 4 (ог.)

Ответ: 4 огурца в одной банке .



Лебе

ановна МБОУ СОЛ



с

6 конфет раздали 3 детям поровну.
Сколько конфет получил каждый
ребёнок?



Ответ: 2 конфеты.

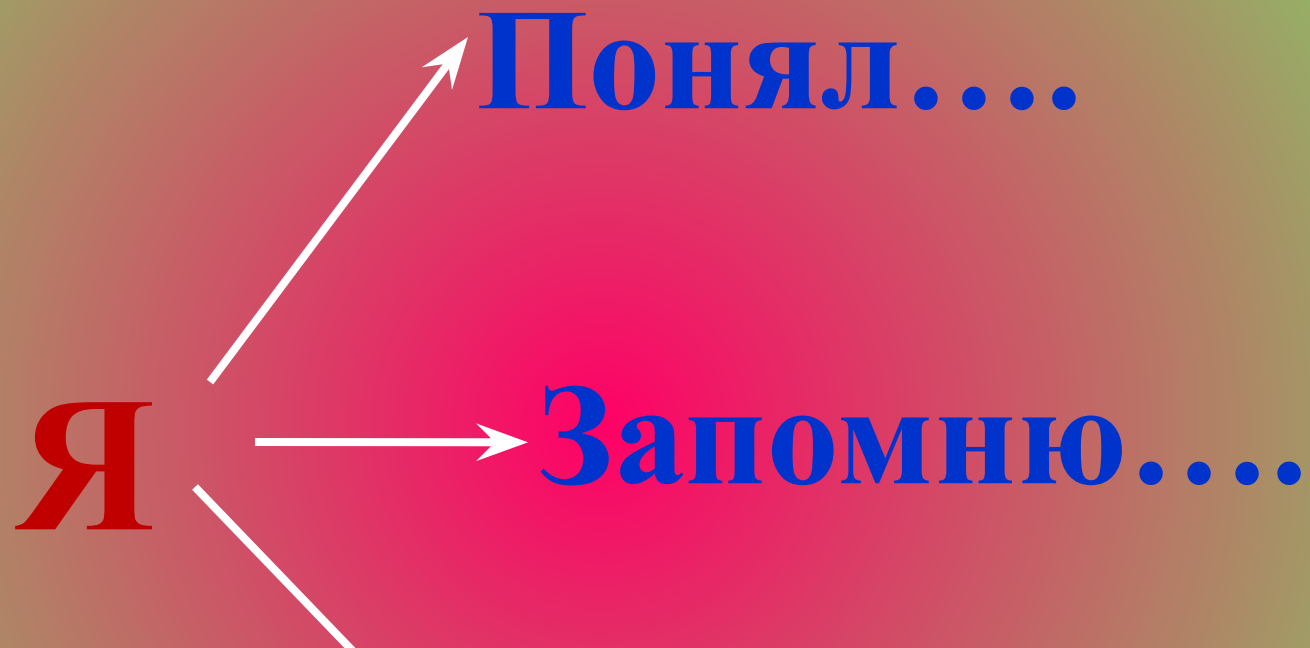


Лебедева Надежда Ил



Ш № 92 г. Воронеж







Лебедева Надежда Ивановна МБОУ СОШ № 92 г. Воронеж