



17 28 56 60 102 204 500 14 308

?



XVI

I XIV Увеличить в два  
LX раза

СII

XXXIV СХХ

ССIV ХХVIII



Стр.2



Он не тучка, а медведь.  
Очень любит песни петь.  
И еще, как говорится,  
Рад он медом  
подкре



Под соснами, под  
елками  
Лежит мешок с  
иголками.

Серый, да не волк,  
Длинноухий, да не заяц,  
С копытами, да не  
лошадь.



	скорост ь	врем я	расстояни е
П	30 м\мин	9 мин	? ]
С	40 м\мин	9 мин	? ] ?

# Проверим ответ в задаче

540

м

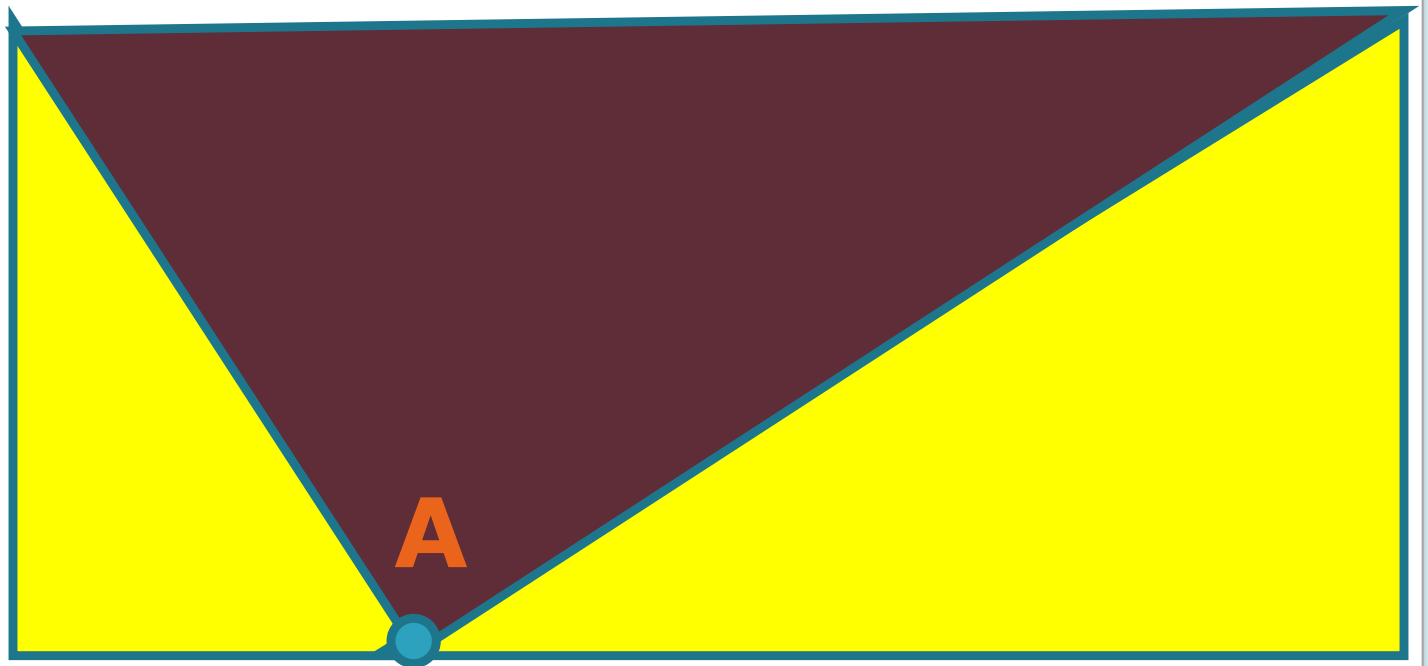
**630**

**м**

730

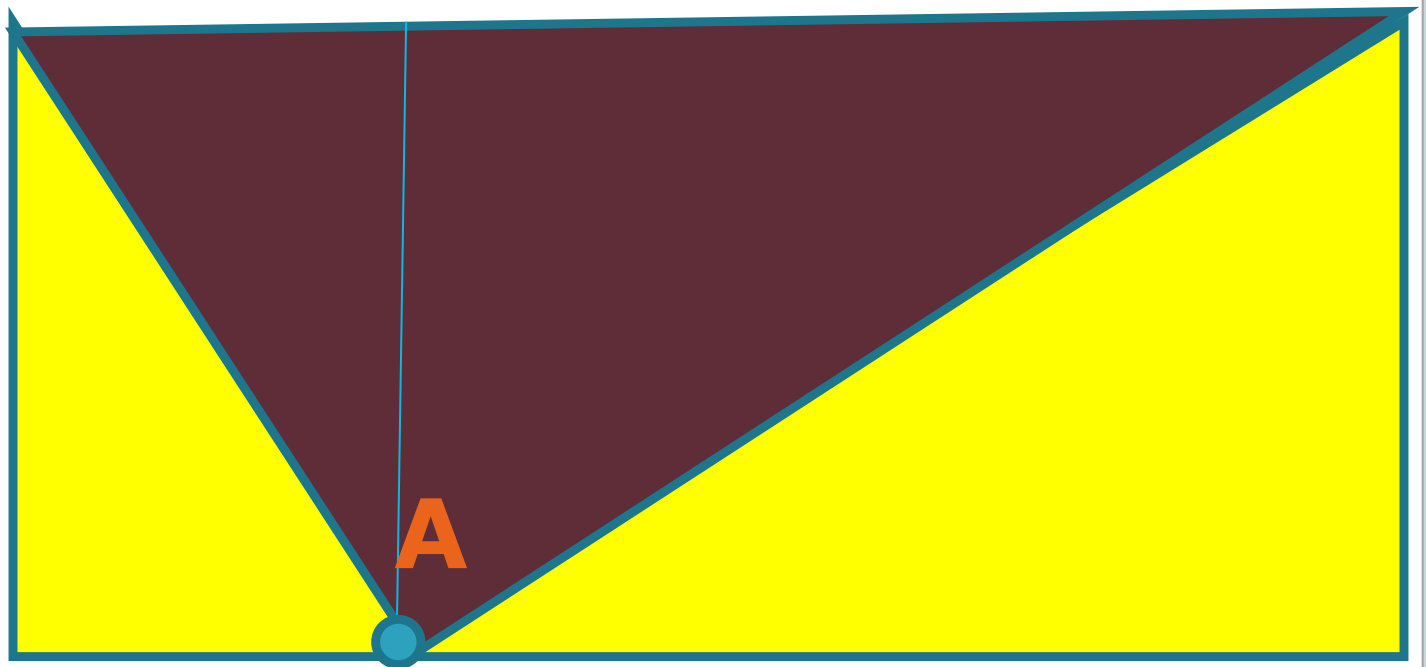
м

Проведём линию внутри фигуры  
через точку **A** и разделим её  
на два прямоу...(?)



Сколько получилось треугольников?

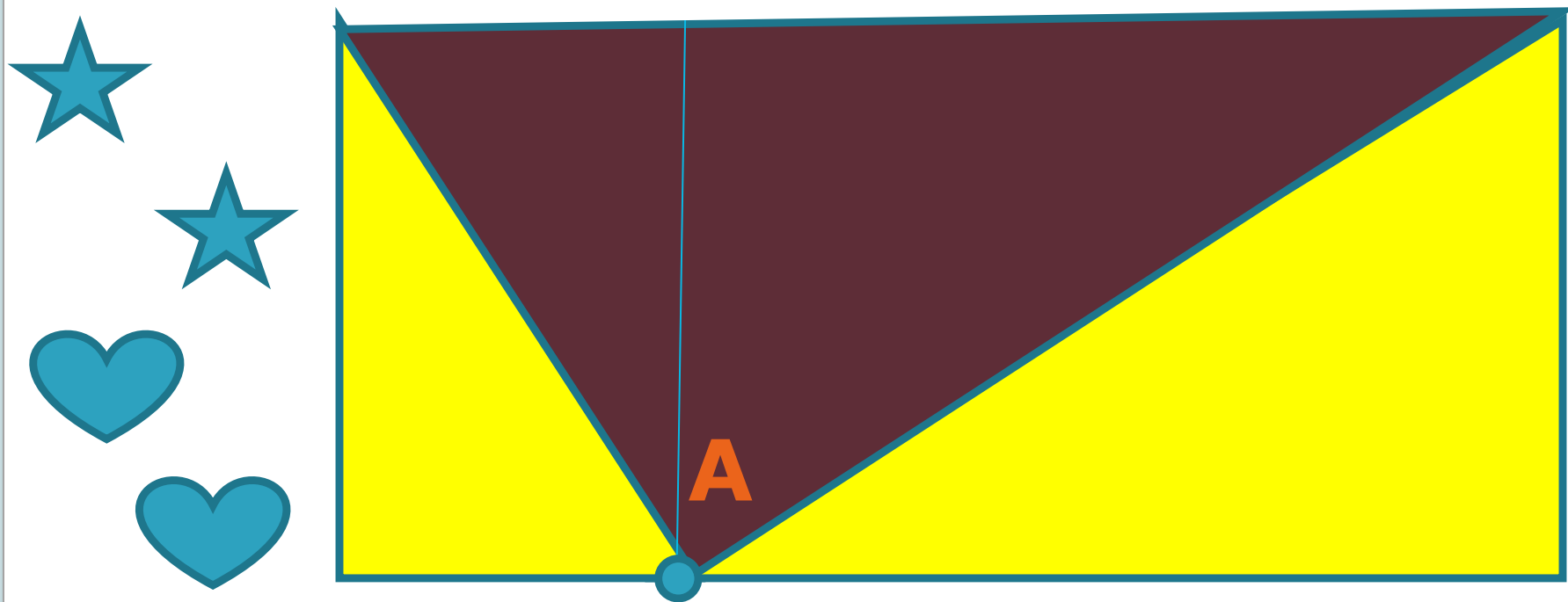
Есть среди них одинаковые по **размеру**?





Пометим одинаковыми значками фигуры, одинаковые по **РАЗМЕРУ**.

Жёлтые цветы занимают площадь 5 кв.м



Какую площадь занимают фиолетовые цветы ?

**Какую площадь занимает вся клумба?**

**Спасибо за  
внимание!**

