

$$\text{H } 300 \cdot 60 =$$

$$\text{A } 480 : 8 =$$

$$\text{P } 25400 : 100 =$$

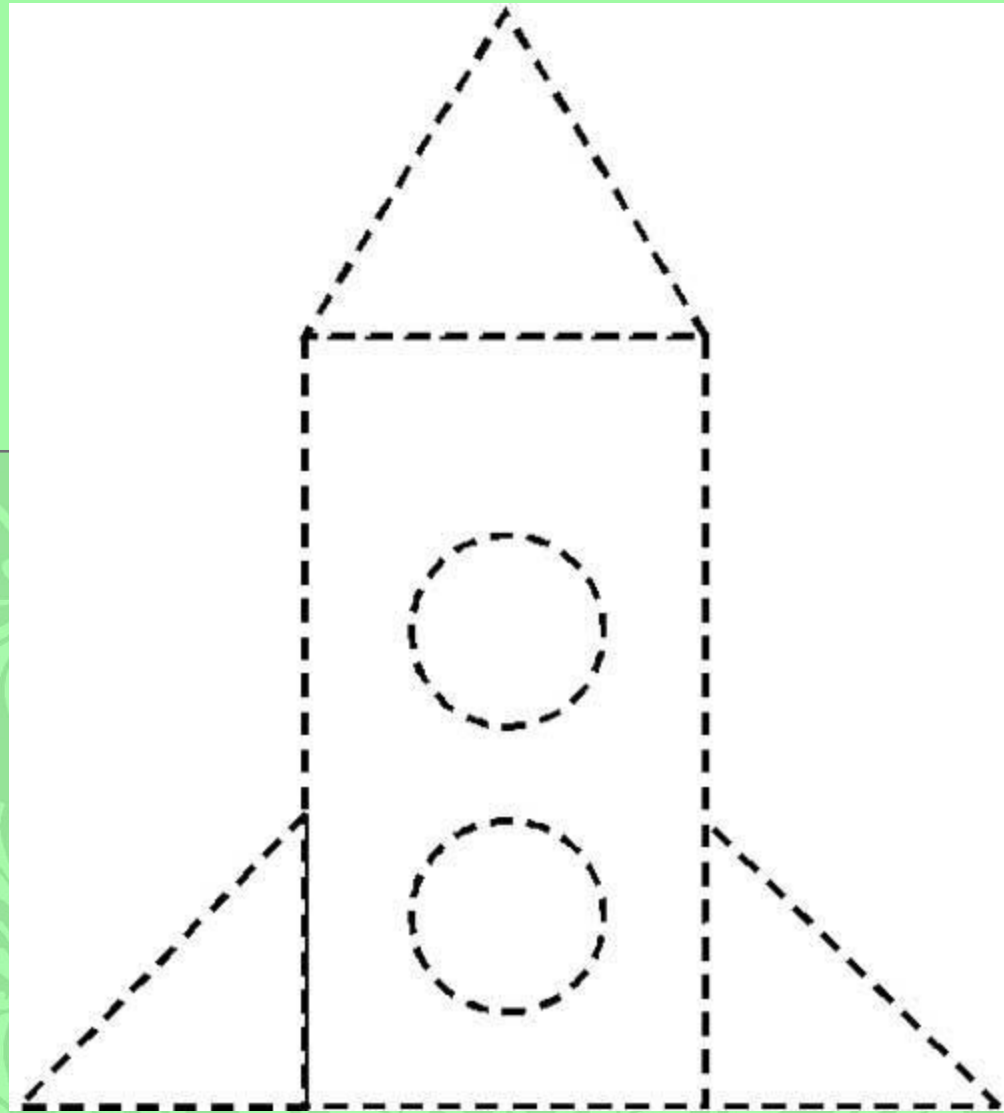
$$\text{Г } 1600 : 40 =$$

$$\text{A } 720 : 6 =$$

$$\text{Г } 81000 : 100 : 9 =$$

$$\text{И } 35 \cdot 2 \cdot 10 =$$





*12 апреля 1961 года- первый полёт в
космос*

*Записать арифметические
выражения с этими числами*

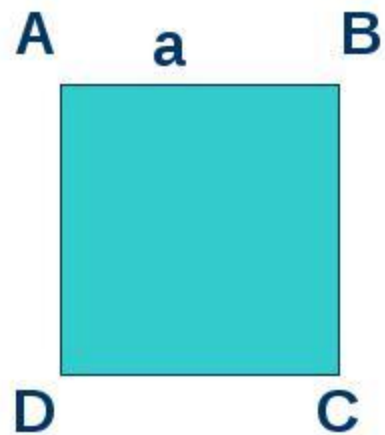
Полёт продолжался 108 минут

108 мин = 1 ч 48 мин

Начерти квадрат со стороной
4 см 5 мм. Найди его
периметр и площадь.

Квадрат.


- Чертеж.



- Формулы.

- $P = 4a$

- $S = a a = a^2$


$$X \cdot 8 = 784$$

$$648 - x = 529$$

Сравни:

5430 дм 543 м

109 кг 1ц10кг

20т 7 ц 20 т 070 кг

Велосипедист проехал 78 км. Из них 48 км. по шоссе, остальной путь-по лесной дороге со скоростью 10 км/ч. Сколько времени ехал велосипедист по лесной дороге?



Навстречу друг другу из двух городов, расстояние между которыми 600 км, вышли 2 поезда и встретились через 3 часа. Чему равна скорость второго поезда, если скорость первого поезда 90 км/ч?



ст.р. 25 задача 2

1. (шт) всего тюков и ящиков
2. (п) в одном тюке и в одном ящике
3. (д)

ответ: денег заплатили купцы артельщикам.



Учебник с.23 примеры 6

Дом. задание : линейка , карандаш,
черновик. Карточка!