

ВСЁ

В ТВОИХ РУКАХ

КАЛЕЙДОСКОП



Задача

Мы летели на самолёте 3 часа со скоростью 900км/ч. Какое расстояние мы пролетели



v

t

s

4 ч

? км/ч

360 км

v

t

s

? км/ч

4 ч

360 км

Работа в паре

- **1 и 2 задача – 1 жетон**
- **3 – 2 жетона**
- **4 – 3 жетона**



Работа с учебником


• Стр. 54 № 11

11. Составь по задачам уравнения и реши их.

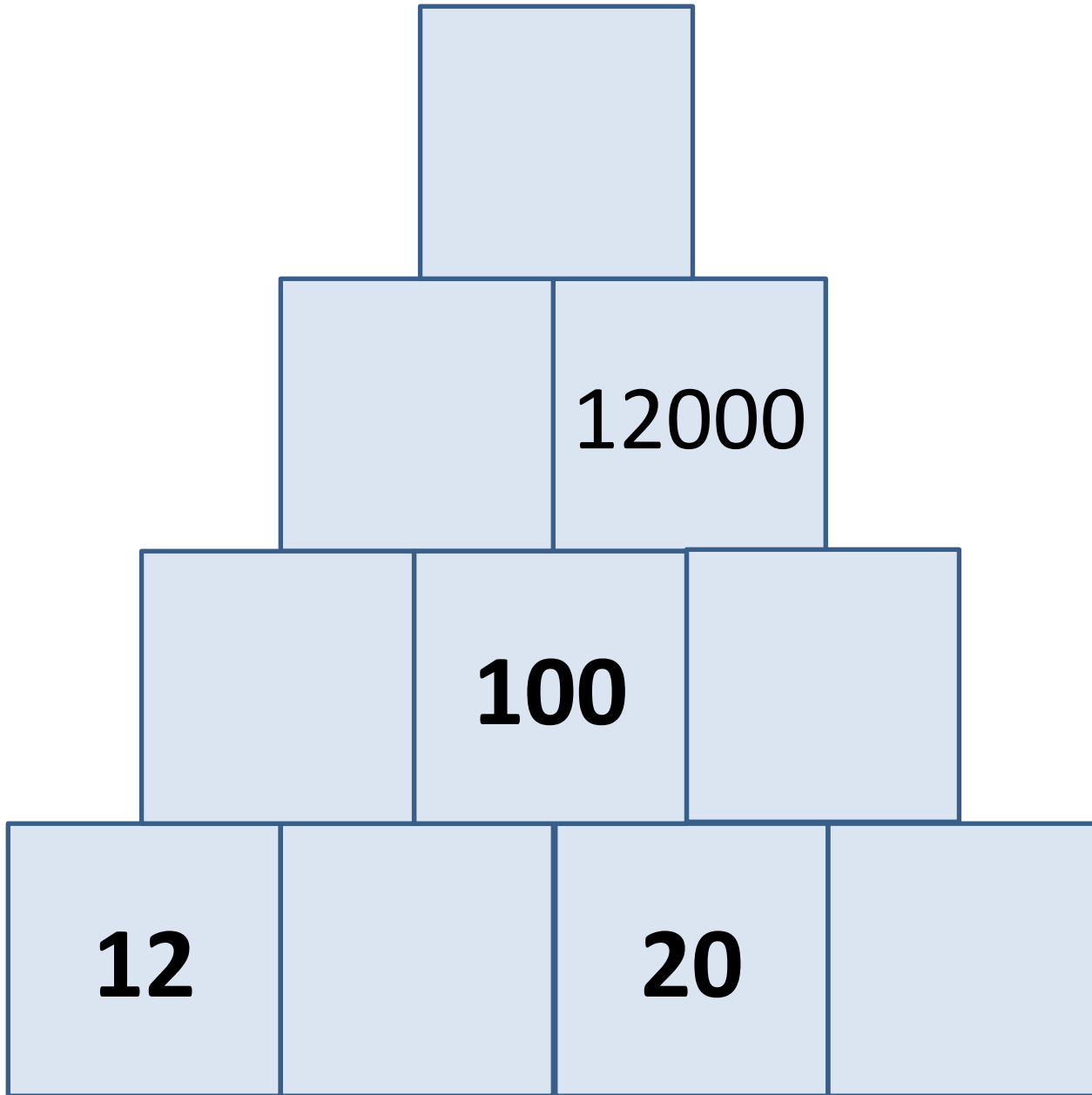
1) Какое число надо умножить на 4, чтобы получить разность чисел 350 и 70?

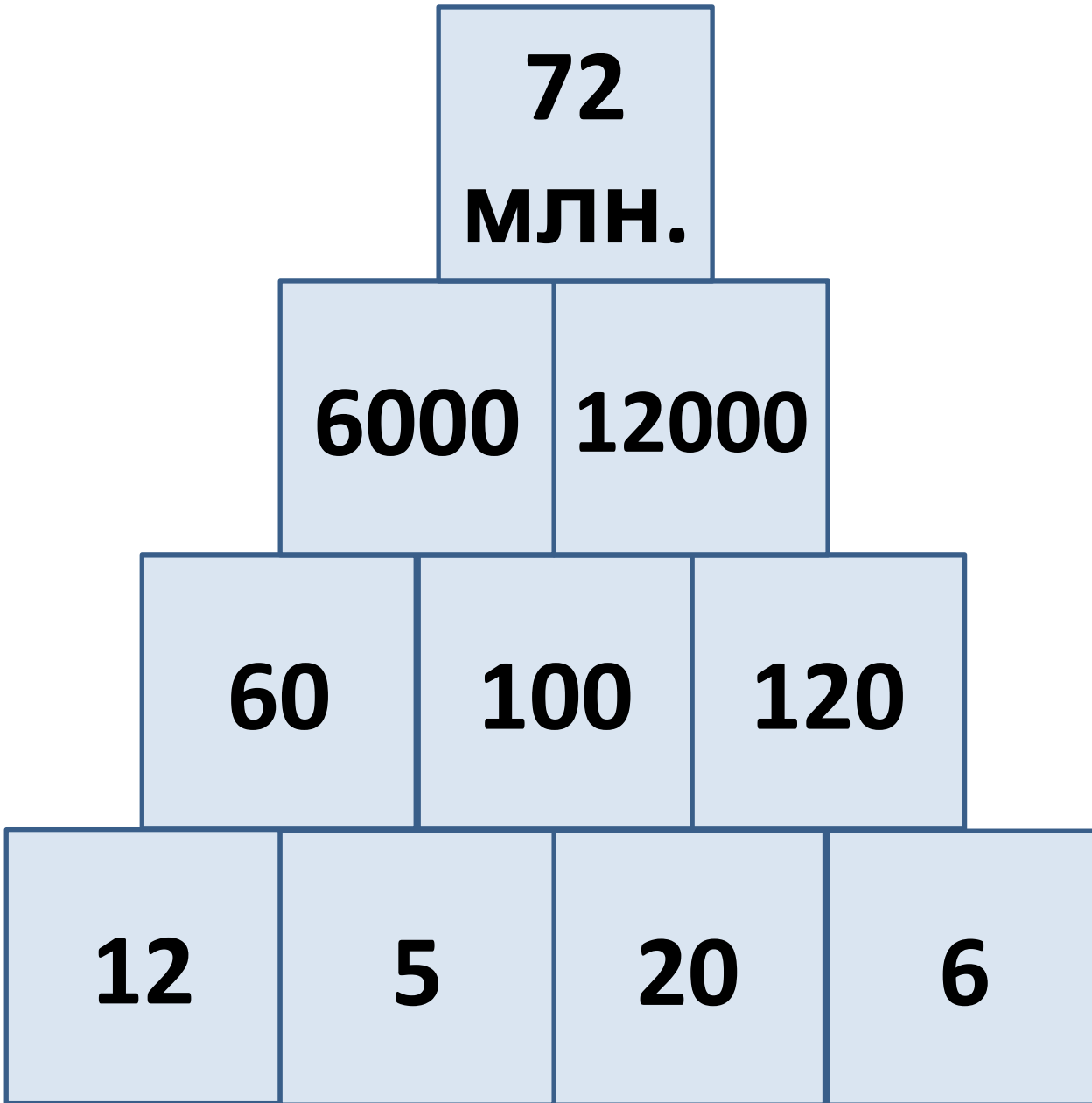
2) На какое число надо разделить 750, чтобы получить сумму чисел 32 и 18?

Сколько прямоугольников на чертеже?



Представьте, что площадь этого прямоугольника 120 кв.см . Какую площадь будет иметь $\frac{5}{6}$ части этого прямоугольника?





Закончи предложение:

- На уроке я узнал ...
- На уроке я повторил ...
- На уроке я еще раз
вспомнил ...
- На уроке я научился...

Домашнее задание

- **стр. 55 № 16;**
- **по выбору 2 задачи – «4»,
3 задачи – «5»**
- **Задачи составные!!!**

МОЛОДЦЫ

