

# Урок математики



Школа России  
Математика 2 класс





**Прозвенел звонок  
и смолк  
Начинается урок.  
Слушаем,  
запоминаем  
Ни минутки  
теряем!**




1	2	3	4	5	6



# Проверь себя

Сигнальные карточки



- 1. на 30  нет ошибок
- 2. 48, 28  1-2 ошибки
- 3. 26  больше 2 ошибок
- 4. 20
- 5. 20
- 6. 50

# Расставь числа в порядке возрастания и разгадай

## СЛОВО

<b>П</b>	<b>Р</b>	<b>О</b>	<b>Я</b>	<b>В</b>	<b>Е</b>	<b>Т</b>	<b>М</b>	<b>О</b>
17	59	24	64	36	85	42	99	57



# Проверь себя



<b>П</b>	<b>О</b>	<b>В</b>	<b>Т</b>	<b>О</b>	<b>Р</b>	<b>Я</b>	<b>Е</b>	<b>М</b>
17	24	36	42	57	59	64	85	99





Подчеркните **суммы**  
**красным** цветом, **разности** –  
**синим** цветом

$$\underline{d + 0}$$

$$\underline{57 + 3}$$

$$\underline{50 + a}$$

$$\underline{70 - 7}$$

$$\underline{72 - c}$$

$$\underline{k + 30}$$



# Цель: повторить.....







# Заполни таблицу

<b>d</b>	6	7	8	9	10
<b>d - 4</b>					
<b>d + 10</b>					



Сигнальные карточки






# Проверь себя

<b>d</b>	6	7	8	9	10
<b>d - 4</b>	2	3	4	5	6
<b>d + 10</b>	16	17	18	19	20



Сигнальные карточки



# Найди значения выражений

•  $b = 70,$

$c = 11$

•  $b + 20$

$16 + c$



Сигнальные карточки





# Соедини задачи и их решения

- 1. В тарелке было **a** яблок, а груш на 3 меньше. Сколько груш было в тарелке?
- 2. В поход пошли 9 девочек и **b** мальчиков. На сколько больше девочек, чем мальчиков?
- 3. Во 2Е классе **a** девочек и **c** мальчиков. Сколько всего учеников во 2Е классе?


•  $9 - b$

•  $a + c$

•  $a - 3$




Сигнальные карточки



# Рефлексия

- **На уроке мы учились.....**
- **У меня хорошо  
получилось.....**
- **Мне нужно  
повторить.....**

Конец



Мне было  
Мне трудно!  
пора  
Я всё  
понял!



# Оцени себя (посчитай плюсы)

- **5** – 6 ПЛЮСОВ

- **4** – 4-5

ПЛЮСОВ

- **3** – 2-3 плюса