

Урок математики в 1 классе

0 1 2 3 4 5 6 7 8 9 10 11 12 13 14 15 16 17 18 19 20




3



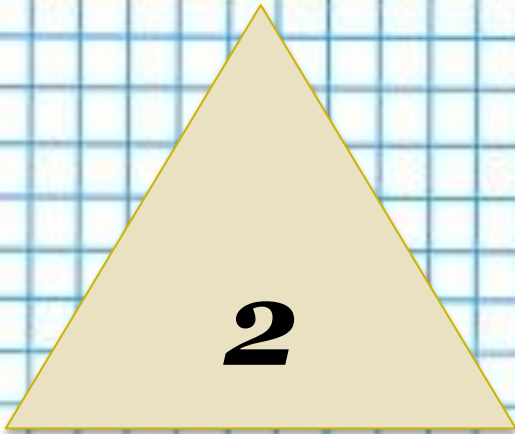
10



4




1 2 3 4 5 6 7 8 9 10 11 12 13 14 15 16 17 18 19 20



Тема

Число и

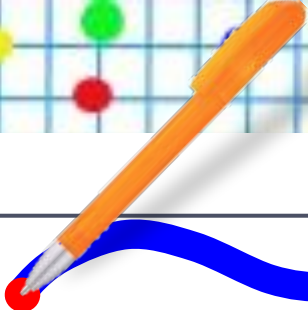
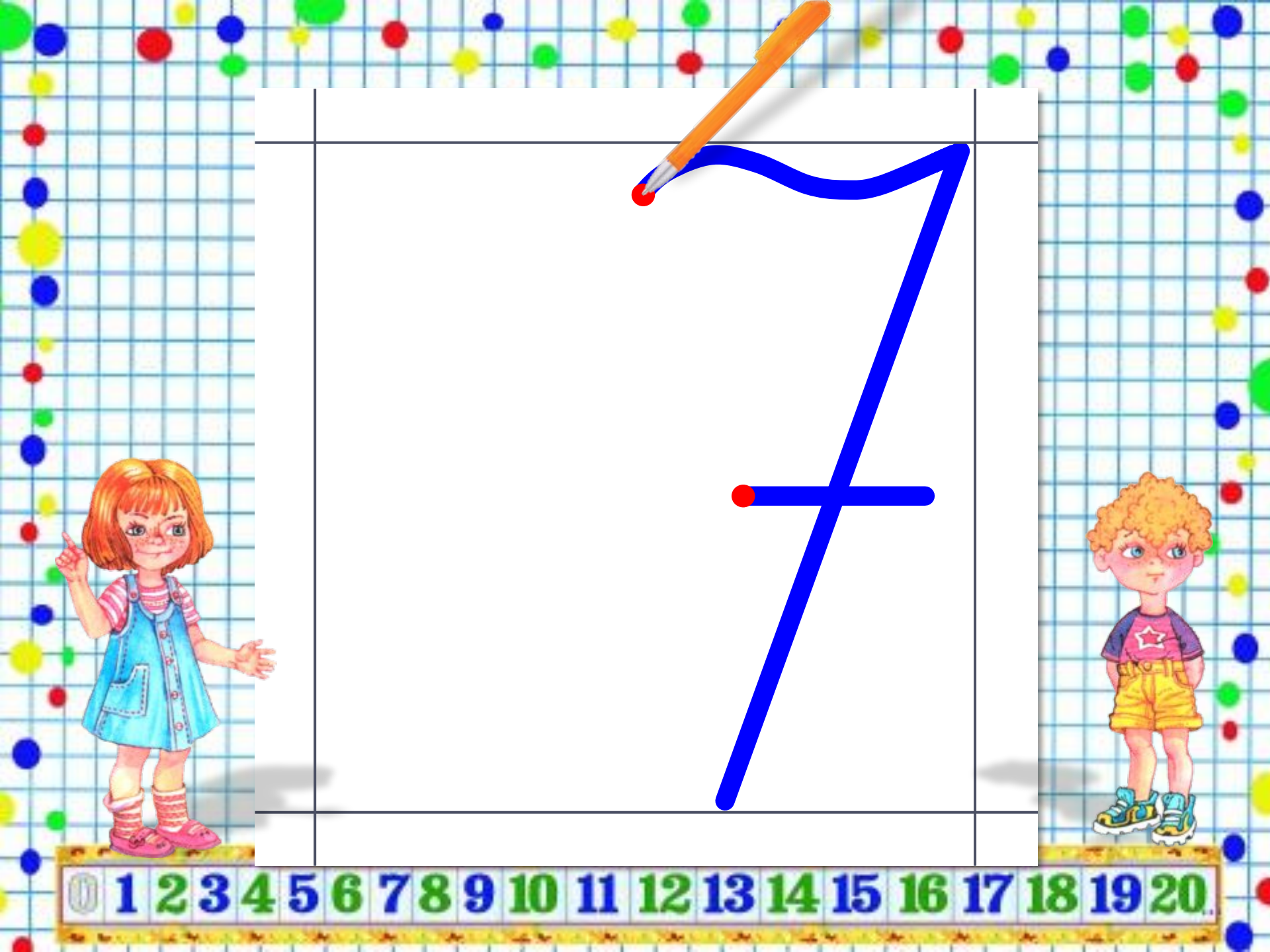
цифра



0 1 2 3 4 5 6 7 8 9 10 11 12 13 14 15 16 17 18 19 20

1. **Учиться писать цифру 7.**
2. **Учиться определять место на числовом отрезке.**
3. **Учиться сравнивать число 7 с другими числами.**
4. **Учиться определять состав числа 7.**

0 1 2 3 4 5 6 7 8 9 10 11 12 13 14 15 16 17 18 19 20



7



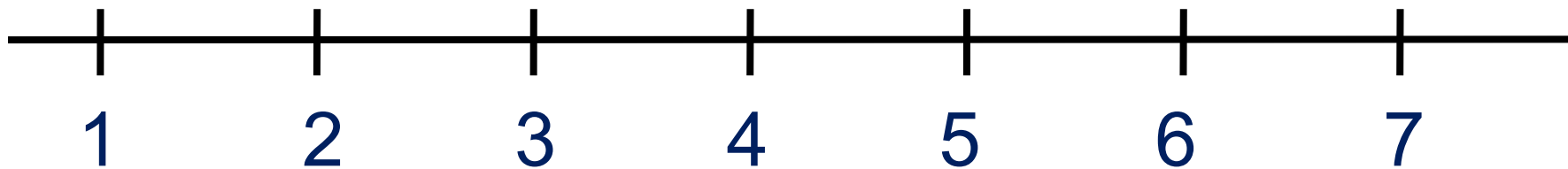
0 1 2 3 4 5 6 7 8 9 10 11 12 13 14 15 16 17 18 19 20

Физминутка



1 2 3 4 5 6 7 8 9 10 11 12 13 14 15 16 17 18 19 20

6. Прочитай неравенства, которые составил Вова.
Помоги ему исправить ошибки.



$1 < 7$

$2 < 7$

$7 > 3$

$7 < 6$

$7 > 5$



ПРОВЕРЬ!

7. Помоги ребятам записать к их рисункам числовые равенства.

7



$$1 + 6 = 7$$

$$6 + 1 = 7$$

$$7 - 1 = 6$$

$$7 - 6 = 1$$

7



$$2 + 5 = 7$$

$$5 + 2 = 7$$

$$7 - 2 = 5$$

$$7 - 5 = 2$$

7



$$3 + 4 = 7$$

$$4 + 3 = 7$$

$$7 - 3 = 4$$

$$7 - 4 = 3$$

ПРОВЕРЬ!

7. Помоги ребятам записать к их рисункам числовые равенства.



$$1 + 6 = 7$$

$$6 + 1 = 7$$

$$7 - 1 = 6$$

$$7 - 6 = 1$$



$$2 + 5 = 7$$

$$5 + 2 = 7$$

$$7 - 2 = 5$$

$$7 - 5 = 2$$



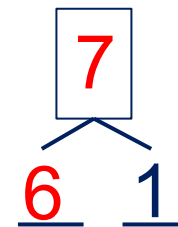
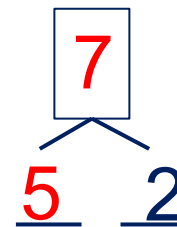
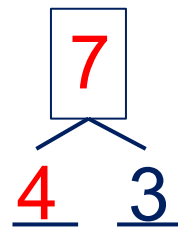
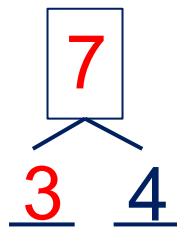
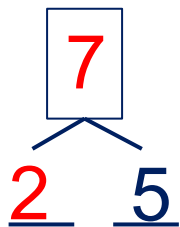
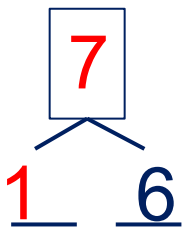
$$3 + 4 = 7$$

$$4 + 3 = 7$$

$$7 - 3 = 4$$

$$7 - 4 = 3$$

• Расскажи о числе семь:



1. **Учиться писать цифру 7.**
2. **Учиться определять место на числовом отрезке.**
3. **Учиться сравнивать число 7 с другими числами.**
4. **Учиться определять состав числа 7.**



Спасибо!



1 2 3 4 5 6 7 8 9 10 11 12 13 14 15 16 17 18 19 20