



ИЗУЧАЕМ ЕДИНИЦЫ ПЛОЩАДИ



**МАТЕМАТИКА, 3
КЛАСС
УМК «ГАРМОНИЯ»
ПАНФИЛОВА Э.Н.**



УСТНЫЙ СЧЁТ



РЕШИ ПРИМЕРЫ:

$$25:5-(3\cdot 1)$$

$$6\cdot 6+8\cdot 8$$

$$24:6-4:1$$

$$10\cdot 10-10\cdot 9$$

$$(60+20):10+20$$

ПРОВЕРЬ

СЕБЯ:


2 100 0 10 20

РЕШИ ЗАДАЧИ:

1. К РЕКЕ ПОДОШЛИ 48 ТУРИСТОВ. ЛОДКА ВМЕЩАЕТ 6 ЧЕЛОВЕК. СКОЛЬКО ПОТРЕБУЕТСЯ ЛОДОК, ЧТОБЫ ПЕРЕВЕЗТИ ТУРИСТОВ? СКОЛЬКО РЕЙСОВ ДОЛЖНА СДЕЛАТЬ ОДНА ЛОДКА?

2. ИЗ 24 М СИТЦА МОЖНО СШИТЬ 8 НАВОЛОЧЕК. СКОЛЬКО ТАКИХ НАВОЛОЧЕК МОЖНО СШИТЬ ИЗ 15М СИТЦА?

ВО СКОЛЬКО РАЗ ПЛОЩАДЬ
ЛЕВОГО ПРЯМОУГОЛЬНИКА
БОЛЬШЕ ПЛОЩАДИ
ПРАВОГО МНОГОУГОЛЬНИКА?



ВЫБЕРИ ВЕРНОЕ
РАВНСТВО:

$$6:2=3$$

$$12:4=3$$

ЧЕМУ РАВНА ПЛОЩАДЬ

ФИГУРЫ:

12 МЕРОК

24 МЕРКИ



**ОТ ЧЕГО ЗАВИСИТ ПЛОЩАДЬ
ФИГУРЫ?**

ДЛЯ ИЗМЕРЕНИЯ
ПЛОЩАДИ

ИСПОЛЬЗУЮТ МЕРКИ: **СМ**

КВАДРАТНЫЙ
САНТИМЕТР- **ДМ²**

КВАДРАТНЫЙ **М²**

ДЕЦИМЕТР-

КВАДРАТНЫЙ МЕТР-

ЭТО КВАДРАТ, ЕГО ПЛОЩАДЬ
РАВНА 1

СМ²



ЗАПОМНИ!

$$1\text{М} = 10\text{ДМ}$$

$$1\text{ДМ} = 10\text{С}$$

М

$$1\text{М}^2 = 100\text{ДМ}^2$$

$$1\text{ДМ}^2 = 100\text{СМ}^2$$