

***ДОЛИ.
ОБРАЗОВАНИЕ И СРАВНЕНИЕ ДОЛЕЙ***

***ДУБАКОВА Н.А.
МОУ «ЗАДОРСКАЯ ООШ
СОНКОВСКОГО РАЙОНА ТВЕРСКОЙ ОБЛАСТИ»***

16 **28** $\frac{1}{9}$ **65** $\frac{1}{6}$ **34** $\frac{1}{3}$ **15**

Проблема:

$$\frac{1}{9} \quad \frac{1}{6} \quad \frac{1}{3}$$

**Что такое доли?
Как сравнивать
доли?**


$$8 \cdot 4 =$$
$$46 + 54 =$$
$$42 : 6 =$$


$$15 : 5 =$$
$$82 - 35 =$$
$$3 \cdot 7 =$$

$$9 \cdot 7 =$$
$$39 + 28 =$$

7	21	3	47	32	67	63	100
п	е	а	ь	л	и	с	н

Апельсин.








Половинка

$$\frac{1}{2}$$


Половинка




Какая это доля?




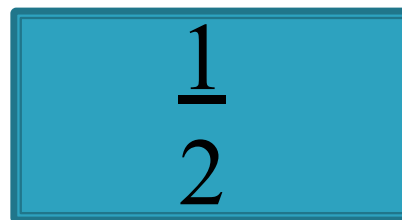
$$\frac{1}{3}$$



$$\frac{1}{4}$$



!!! Чем больше частей, тем доля меньше!



$$\frac{1}{2} > \frac{1}{4}$$

$$\frac{1}{4} > \frac{1}{8}$$

$$\frac{1}{8} < \frac{1}{2}$$

Работа с учебником. стр. 93, № 3

- 3.** Масса одного ящика с мандаринами 8 кг. Найди массу 9 коробок с бананами, если одна коробка с бананами на 3 кг легче одного ящика с мандаринами.

Проверь себя:

1) $8 - 3 = 5$ (кг) – масса коробки с бананами.

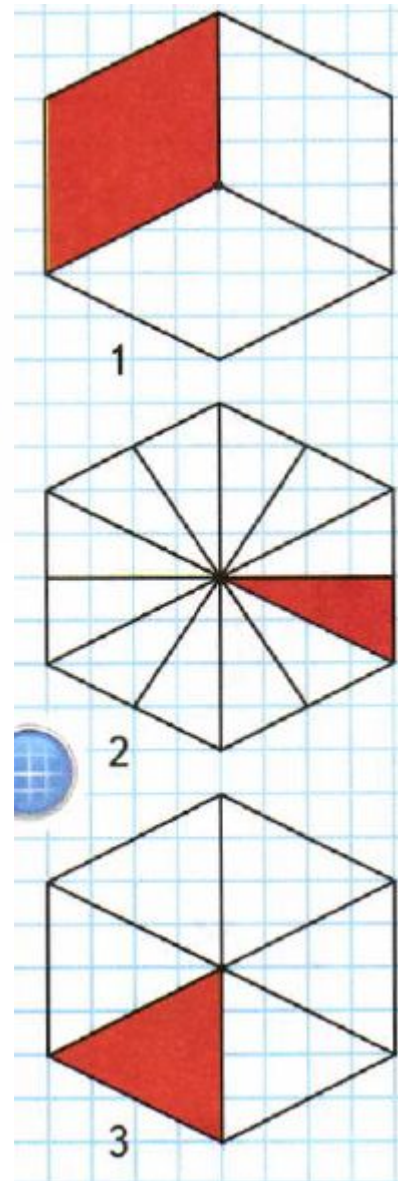
2) $5 \cdot 9 = 45$ (кг) – масса 9 коробок с бананами.

Ответ: 9 коробок с бананами весят 45 килограммов.

Работа с учебником. стр. 93, № 8

8. Рассмотрите рисунок и определите, кто из девочек какую долю закрасил, если Таня закрасила бóльшую долю, чем Оля, а Лена закрасила бóльшую долю, чем Таня.

$$\frac{1}{4} \quad \frac{1}{12} \quad \frac{1}{6}$$



Итог урока

1.Особенно хорошо мне удалось

2.В следующий раз надо ещё лучше

3.Свой результат могу оценить как
