

УМК «Перспективная начальная
школа»
1 класс

Меньше на некоторое число



Подготовила
учитель начальных классов
ЮУ «Ракитянская СОШ №1»
Ракитное Белгородской обл.
Латышева
Татьяна Анатольевна









Миша говорит, что если у Вити на 2 солдатика больше, чем у него,
значит, у него на 2 солдатика меньше, чем у Вити.

Как ты думаешь, Миша прав?

Объясни, что означает «на 2 меньше».

Сравни своё объяснение с таким: «Это столько же, но без 2».





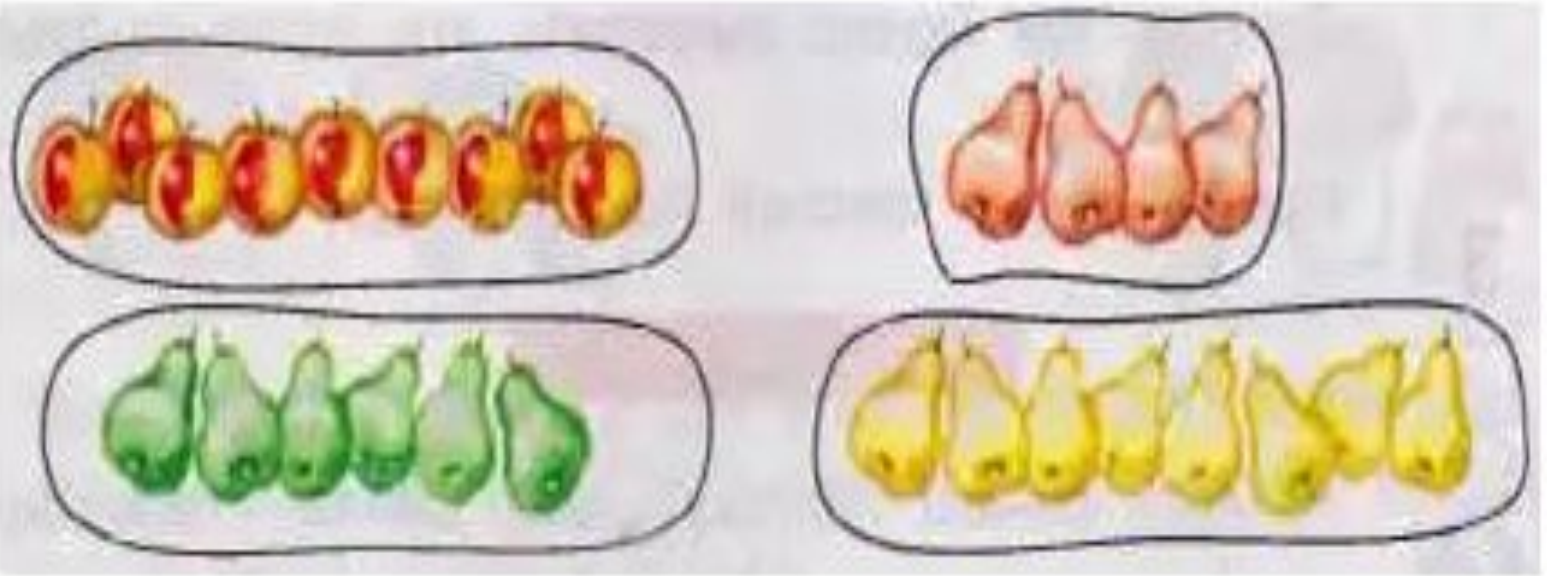
)
2



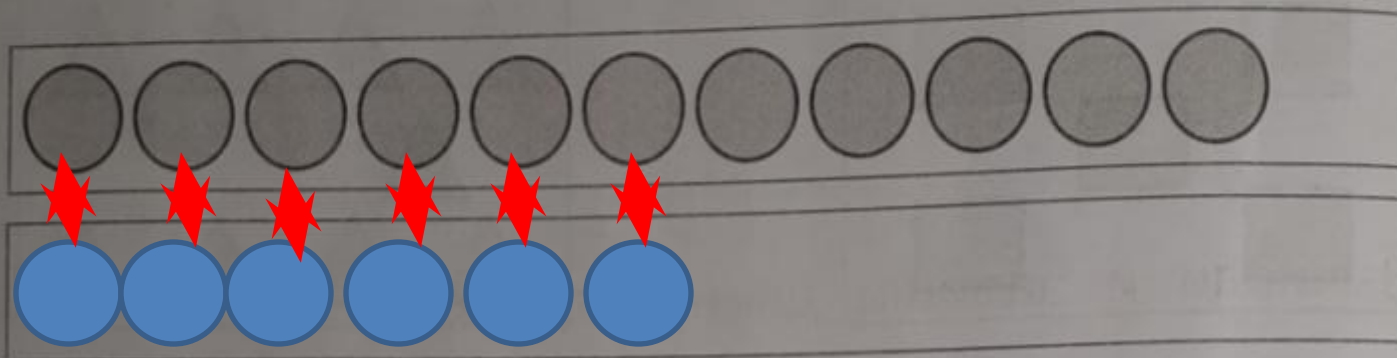
Сколько лошадок нужно отделить,
Положи их на доску по порядку, а
уберите 4 палочки.
Сколько палочек больше чем
лошадок на

Закончите предложение:

Число лошадок больше числа



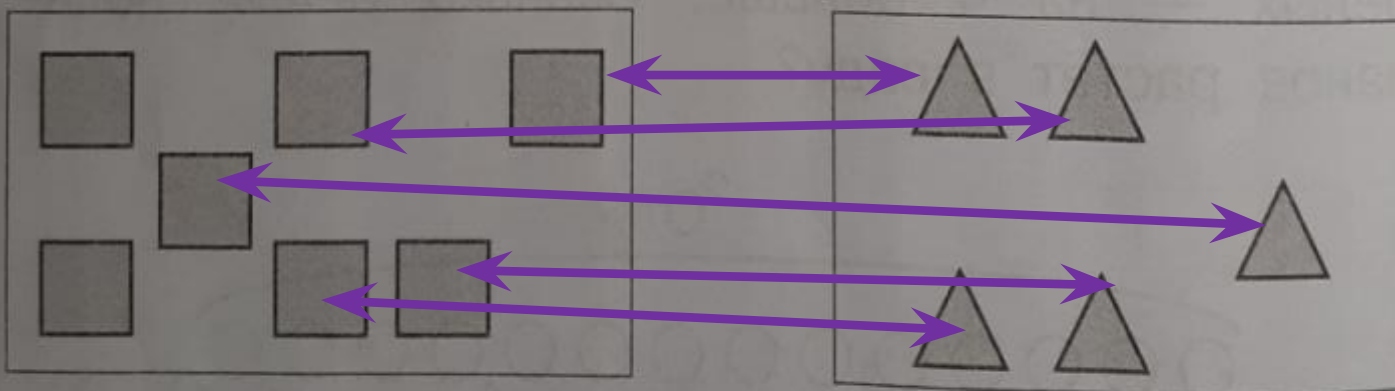
1) Нарисуй на нижней полоске столько кругов, чтобы их было на 5 меньше, чем на верхней.



Составь пары: один круг из верхней полоски, другой — из нижней. Дополни математическую запись к рисунку.

$$\boxed{11} > \boxed{6} \text{ на } 5 \quad \boxed{6} = \boxed{11} - 5$$

② Сравни количество фигур в рамках, составив пары.



Закрась фигуры, которые остались без пары.
Дополни математическую запись к рисунку.

$5 < 7$ на
2

$5 = 7 - 2$

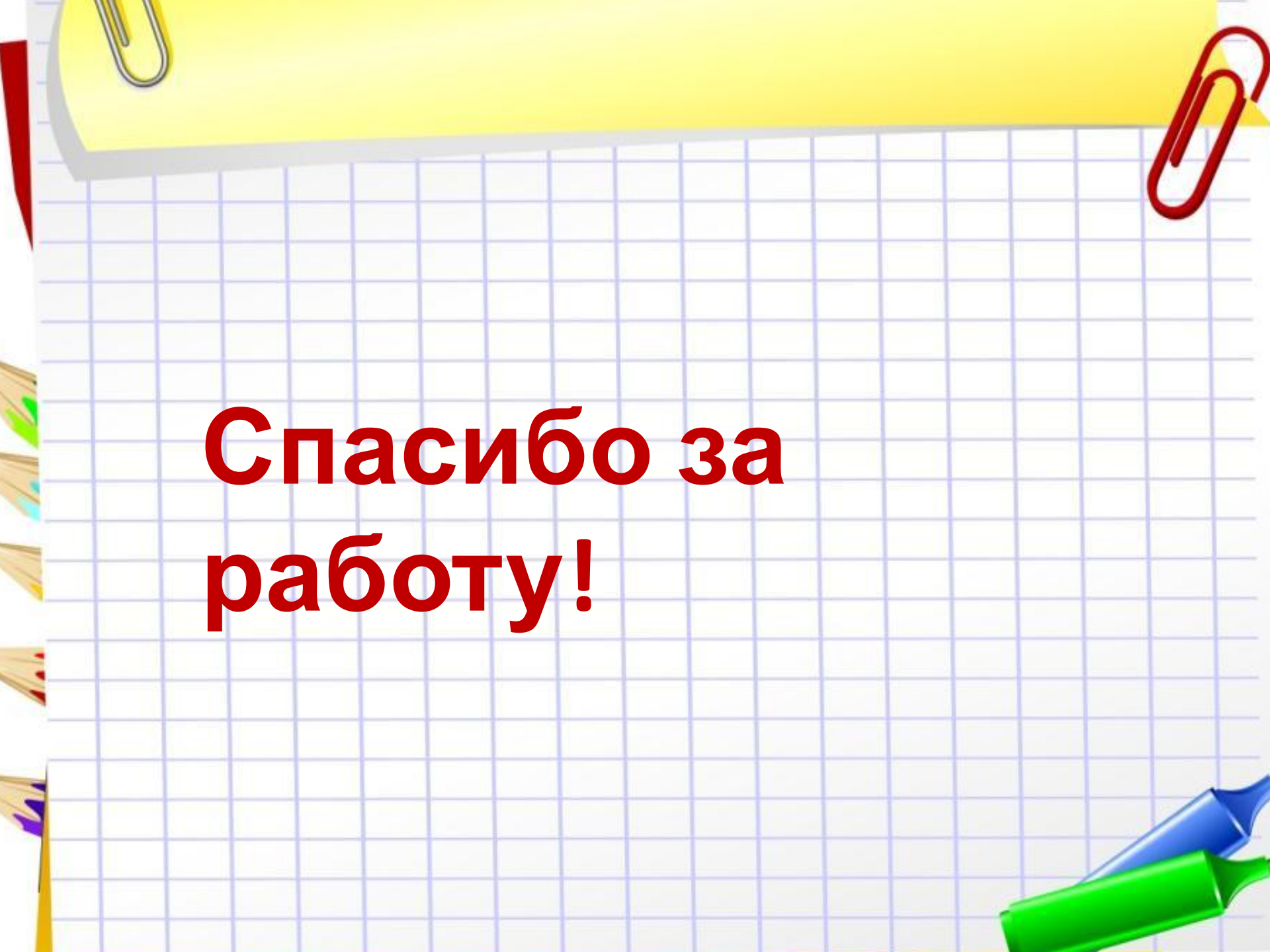
3) Построй отрезок, длина которого на 5 см меньше, чем длина данного отрезка.



Вычисли и запиши длину отрезка.

$$\square\square - \square = \square \text{ (см)}$$

$$11 - 5 = 6 \text{ (см)}$$



**Спасибо за
работу!**

Источник

И:

https://ds03.infourok.ru/uploads/ex/0e8f/0002f4be-37b4a066/hello_html_2badf79b.jpg

<https://fs01.vseosvita.ua/0100cel6-f790/008.jpg>

Захарова О. А., Юдина Е. П. «Рабочая тетрадь для самостоятельной работы по математике 1 класс, часть2»

Чекин А.Л. «Математика 1 класс, часть2»