



Морское
путешествие



1, 9, 4, 14, 6, 2

15, 11, 18, 14, 35

17, 35, 56, 44, 62





остров
Полыгаев



$$38 \neq 4 \neq 10 = 32$$

$$56 \neq 6 \neq 40 = 90$$

$$63 \neq 7 \neq 23 = 47$$



15 шт.

на 7 шт. больше



?

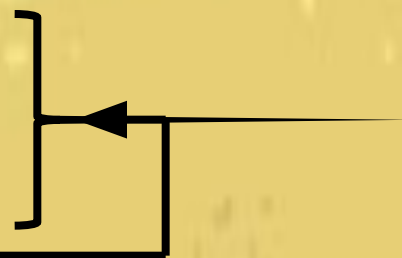


Проверка:

К. - 15 шт.

А. - ? на 7шт. б.


Б. - ? _____



1) $15+7 = 22$ (шт.) -
апельсинов.

2) $22+15 = 37$ (шт.) - бананов.

Ответ: 37 бананов.



СЕТЬ
БУКВООПИСАНИЕ



№3 стр.19

Проверка:

$91 \text{ см} >$

$9 \text{ дм} < 1 \text{ м}$


9 дм

$1 \text{ ч} > 10 \text{ мин}$

$1 \text{ м} > 99 \text{ см}$

$53 - 20 - 3 = 30$

$97 - 50 - 7 > 35$





№ 19 стр. 21

Проверка:

90 73 40 51





ОСТРОВ РОБИНСОНА



№ 8 стр.20

Проверка:

1ст. 7, 8, 8

2ст. 9, 8, 6

3ст. 14, 13, 14

ОСТРОВ РОБИНЗОНА



У лестницы 13 ступенек.
На какую ступеньку
должен встать Робинзон,
чтобы оказаться ровно
посередине?

Ответ:
на 7



Ссылки:

Фон: <http://fotki.yandex.ru/users/tais-ja/view/473260?page=0>

Слонёнок <http://www.stihi.ru/pics/2011/05/15/6071.jpg>

Попугай http://t2.gstatic.com/images?q=tbn:ANd9GcS5Q8U2g7iCA6BY7JxhH_YTPRL1CPiRy0CG7lprVKZZXefvBGbIOF9aZEXJQ

Обезьянки <http://img.babyblog.ru/7/a/9/7a94ab0abcf9bb118eebb48a019b1e36.jpg>

Бананы <http://www.polza-fruktoy.ru/wp-content/uploads/2011/06/590.jpg>

Апельсины <http://allapelsin.ru/img/oranges.jpg>

Кокосы <http://zkhanaKhazana.files.wordpress.com/2012/01/zkk-blog.jpg>

Дикари <http://ru.wikigamia.net/images/thumb/2/29/111020413303401131105427951.jpg/cropped-300225.jpg>

Робинзон <http://www.prazdnik-az.ru/files/images/prog37.jpg>

Лестница <http://selena-stroy mash.ru/media/lestnica.jpg>