



Начинается урок.
Он пойдёт ребятам впрок.
Постарайтесь всё понять.
Будем правильно считать.

Устный счет



Вычисли

$$: \quad 50$$

$$5 * 10 = \quad 12$$

$$2 * 6 = \quad 32$$

$$8 * 4 = \quad 49$$


$$7 * 7 = \quad 45$$

$$15 * 3 = \quad 36$$


$$9 * 4 =$$

Дополни равенства и вычисли:


$$5 * \boxed{4} = \boxed{20}$$



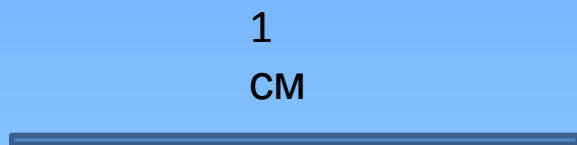
$$4 \boxed{4} \dots \boxed{16}$$



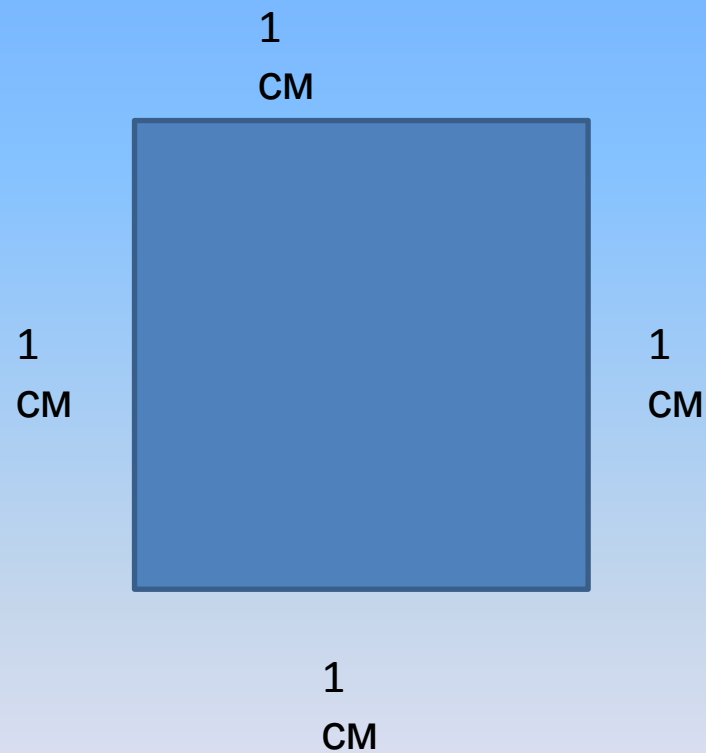
$$\boxed{6} \dots \boxed{18} \dots$$



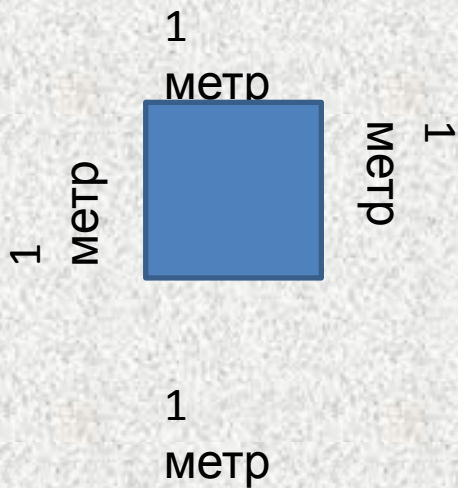
1 сантиметр



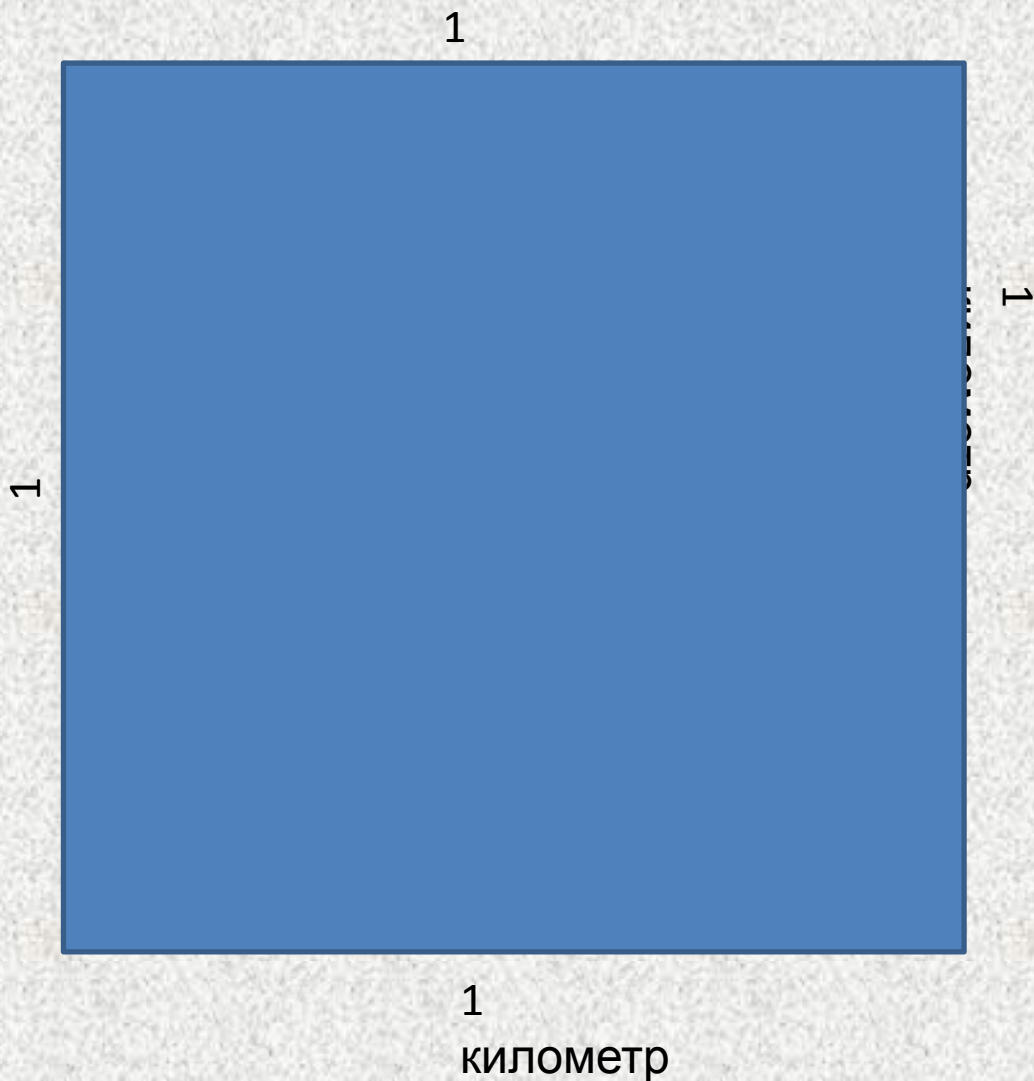
1 квадратный сантиметр
(КВ.СМ.)



Квадратный метр (кв.м.)



Квадратный километр (кв.км.)



$$S = a * b$$

**Чтобы вычислить площадь
прямоугольника, нужно его длину
умножить на ширину.**

S – площадь

a - длина

b- ширина

Задача №1

Площадь огорода 40 кв.м.. Половину огорода занимают грядки с клубникой. Какую площадь они занимают?





Раз - подняться,
подтянуться
Два - согнуться,
разогнуться
Три - в ладоши три
хлопка, головою тр
кивка.
На четыре - ноги
шире.
Пять - руками
помахать
Шесть - за стол
тихонько сесть.



Оцените урок:



— все понравилось, все понял,
все задания решил сам.



— с некоторыми заданиями не
справился, что-то не понял.



— не понравилось, все непонятно.