


Игра «Весёлый счет»

- **Задача 1.** Цена одной чашки 60 руб. Сколько нужно заплатить за 6 таких чашек?
- **Задача 2.** Цена одной чашки 60 руб. Сколько нужно заплатить за 7 таких чашек?



Конкурс капитанов

- Перевести из одной единицы в другую, помня правило **1руб.=100коп.**
-
- 3 руб. =:...к. 8 р. 1 к. = ::к.
- 521 к. = ::р. ::к. 92 р. = :::...к.
- 7 р. 10 к.=:...к. 600к.= ::р.

Заполни таблицу

	ЦЕНА	КОЛИЧЕСТВО	СТОИМОСТЬ
ТЕТРАДЬ	4 р. 12к.	6 шт.	?
ЦИРКУЛЬ	80р.	3 шт.	?

Вывод

- **Стоимость = Цена * Количество**




Физминутка

- Поднимает руки класс-
- Это «раз».
- Повернулась голова-
- Это «два».
- Руки вниз, вперед смотри –
- Это «три».
- Руки в стороны пошире
- Развернули на «четыре».
- С силой их к плечам прижать –
- Это «пять».
- Всем ребятам тихо сесть –
- Это «шесть».



Мы отправляемся в магазин



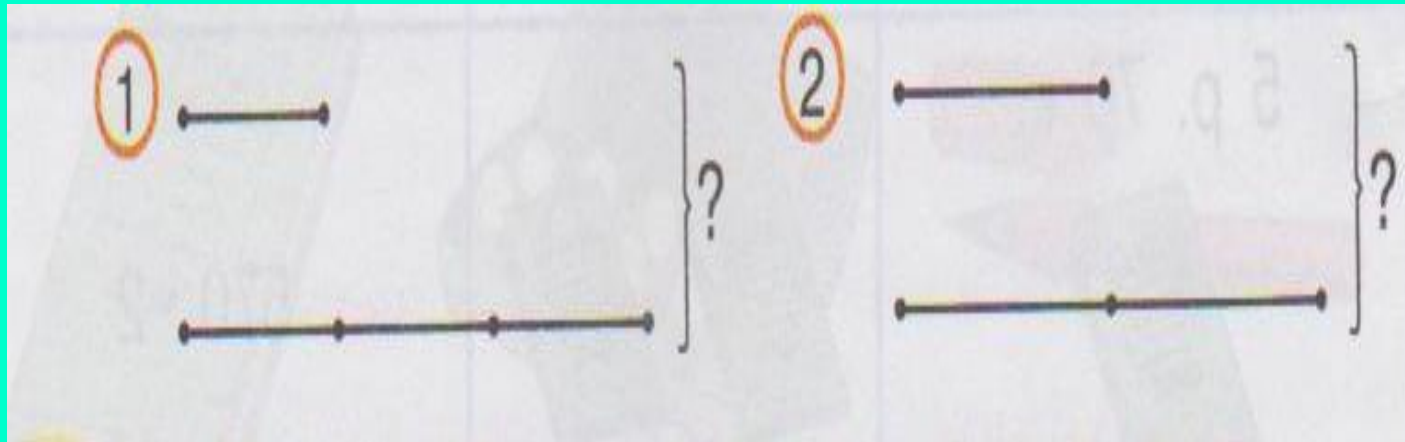


Задача

- Лена купила две ручки. Цена одной ручки 3р. 20 к., другая в 2 раза дороже. Сколько всего денег израсходовала Лена . Выбери схему, которая соответствует этой задаче.



Работа по учебнику



Работа в парах

- **Задача № 124. В кошельке у Тамары 5 купюр по 10р. И 4 монеты по 5 р. Сможет ли она купить 3 ручки по 8 р. И 2 альбома по 20р.? Можно ли ответить на вопрос задачи, не выполняя арифметических действий?**



Найди цену

Цена.	Количество.	Стоимость
? одной коробки конфет	10 	720 рублей

Вывод

- С : К = Ц
- С : Ц = К



Рефлексия

