


Правила работы на уроке





Урок математики

Наш девиз: Не унывать! Всѐ
пройти и всѐ узнать!



Работа в

паре:

Понапрасну не болтай,
Убеждая: Рассуждай!



- Работать должны **оба**.
- Один говорит, другой **слушает**.
- Своё несогласие высказывай **вежливо**.
- Если не понял **переспроси**.

**Разбейте эти слова на группы.
Объясните свой выбор.**



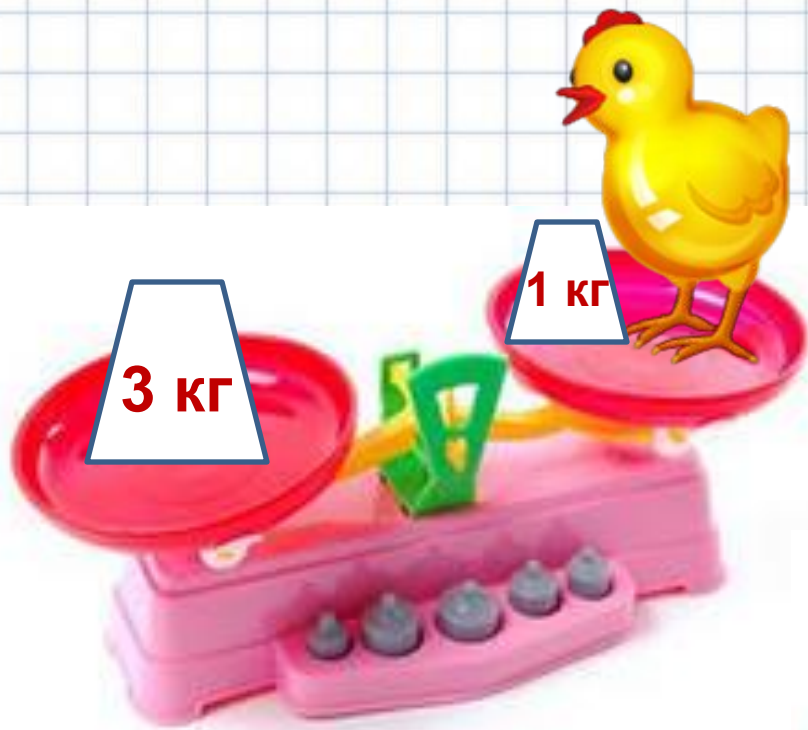
длина
сантиметр
весы
линейка
масса
килограмм



- длина
- сантиметр
- линейка

- масса
- килограмм
- весы



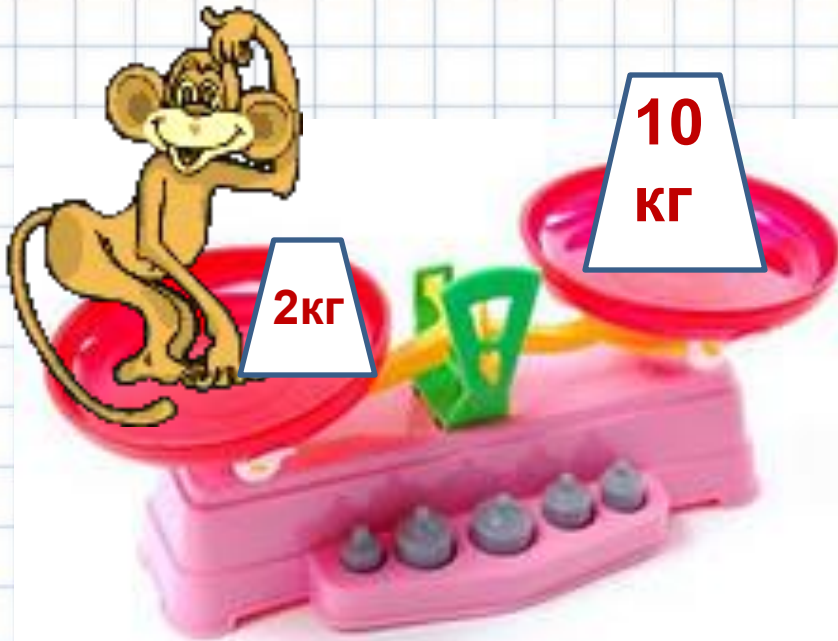


$$3 - 1 = 2(\text{кг})$$

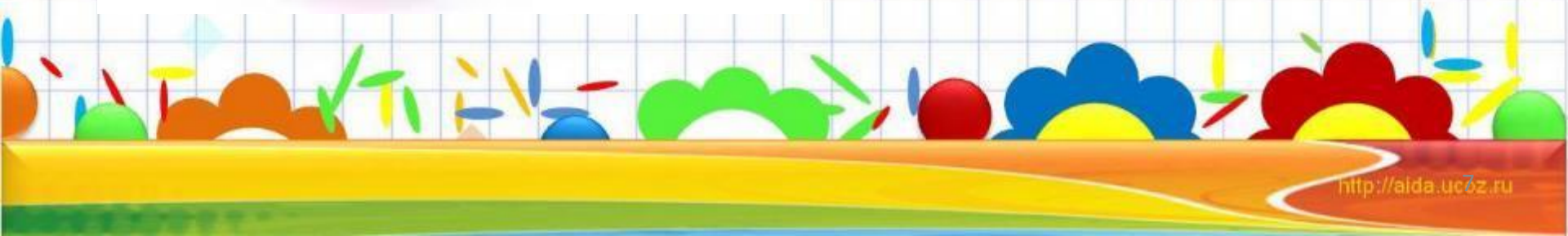
$$5 - 1 = 4(\text{кг})$$




$$10 - 2 = 8 \text{ (кг)}$$



$$1 + 1 = 2 \text{ (кг)}$$



Кроссворд



Тема урока

				л	е	й	к	а
ч	а	й	н	и	к			
			с	т	а	к	а	н
	в	е	д	р	о			

Рассмотри рисунок и ответь на вопрос .

- Сколько вёдер воды помещается в бочонке?



1 ведро

Рассмотри рисунок и ответь на вопрос.

- Сколько вёдер воды помещается в бочонке?



2 ведра

Рассмотри рисунок и ответь на вопрос.

- Сколько ведер воды помещается в бочонке?



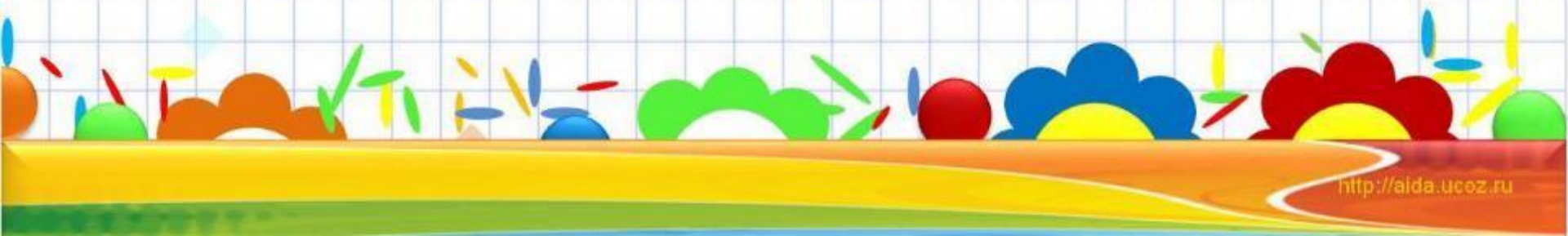
3 ведра

Рассмотри рисунок и ответь на вопрос .

- Сколько вёдер воды помещается в бочонке?



4 ведра



Рассмотри рисунок и ответь на вопрос .

- Сколько вёдер воды помещается в бочонке?




1 бочонок = 5 вёдер

Вместимость этого бочонка измерили банкой. Сколько банок воды помещается в бочонке?




1 бочонок = 5 вёдер



Объём этого бочонка измерили банкой. Сколько банок воды помещается в бочонке?




1 бочонок = 10 банок
1 бочонок = 5 вёдер




Объём этого бочонка измерили банкой. Сколько банок воды помещается в бочонке?



1 бочонок = 10 банок
1 бочонок = 5 вёдер






Единица(мерка) измерения
объема (вместимости)
жидкости в сосуде- **литр**.



1л

В одну банку входит 1 литр воды, а в другую – 3 литра. У какой банки больше объём?

! Одна из мерок объёма - 1 литр (л).



1 л 3 л

> = <

**Вычисли (1 столбик-с
комментированием, 2- самостоятельно)**

$$2\text{л} + 5\text{л} = \boxed{} \text{л}$$

$$4\text{л} - 1\text{л} = \boxed{} \text{л}$$

$$8\text{л} - 8\text{л} = \boxed{} \text{л}$$

$$9\text{л} - 2\text{л} = \boxed{} \text{л}$$

$$6\text{л} + 4\text{л} = \boxed{} \text{л}$$

$$3\text{л} + 7\text{л} = \boxed{} \text{л}$$

Как проверить свою работу по образцу (эталону)

Проверяю свой ответ



Смотрю
образец



Сравнива
ю



Проверь себя



$$4\text{л} + 5\text{л} = \boxed{7} \text{ л}$$

$$4\text{л} - 1\text{л} = \boxed{3} \text{ л}$$

$$8\text{л} - 8\text{л} = \boxed{0} \text{ л}$$

$$9\text{л} - 2\text{л} = \boxed{} \text{ л}$$

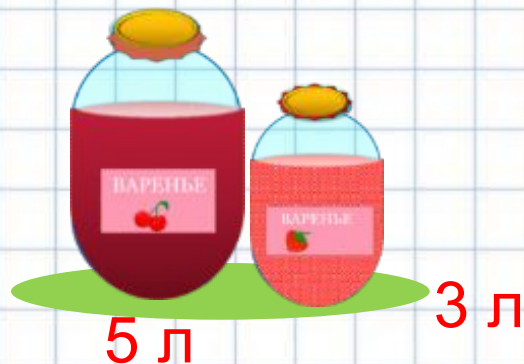
$$6\text{л} + 4\text{л} = \boxed{10} \text{ л}$$

$$3\text{л} + 7\text{л} = \boxed{10} \text{ л}$$

Мама сварила 5 л вишнёвого варенья и 3 л клубничного.

Сколько всего литров варенья сварила мама?

На сколько литров больше вишнёвого варенья, чем клубничного?



СЕГОДНЯ НА УРОКЕ:



СЕГОДНЯ НА УРОКЕ:



www.feon.ru



- Мне больше всего удалось...
- Я могу себя похвалить...
- Мне было интересно....
- Мне было трудно...
- Я не понял...
- Я хочу сказать спасибо...

