

# Устный счет в пределах 10. Состав чисел 7,8

Безденежных Марина Николаевна  
МБОУ «СОШ № 25» города Абакана,  
республики Хакасия



Расставь числа в порядке возрастания.

1 3 5 7 8 9

3 9 7 1 5 8

Какое число лишнее?  
Почему?

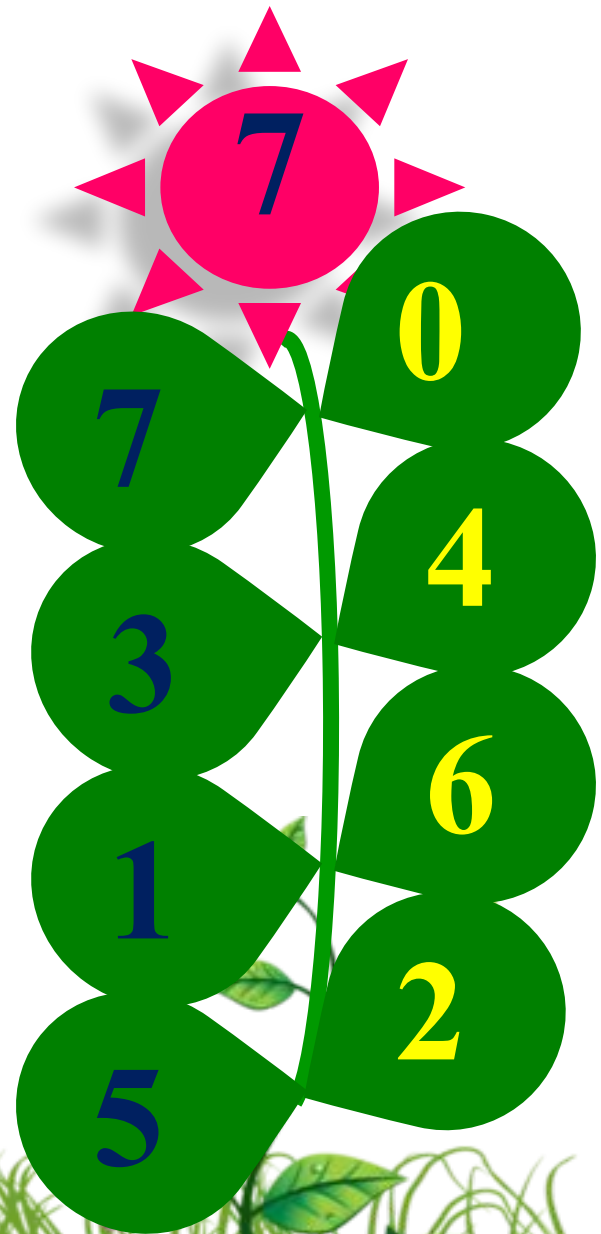

Расставь числа в порядке убывания.

10 8 6 4 3 2

3 2 4 10 6 8

**Какое число лишнее?  
Почему?**





$8 - 2 = 6$

$2 + 2 = 4$

$5 - 2 = 3$

$5 - 3 = 2$

$3 + 3 = 6$

$6 + 2 = 8$

$9 - 2 = 7$

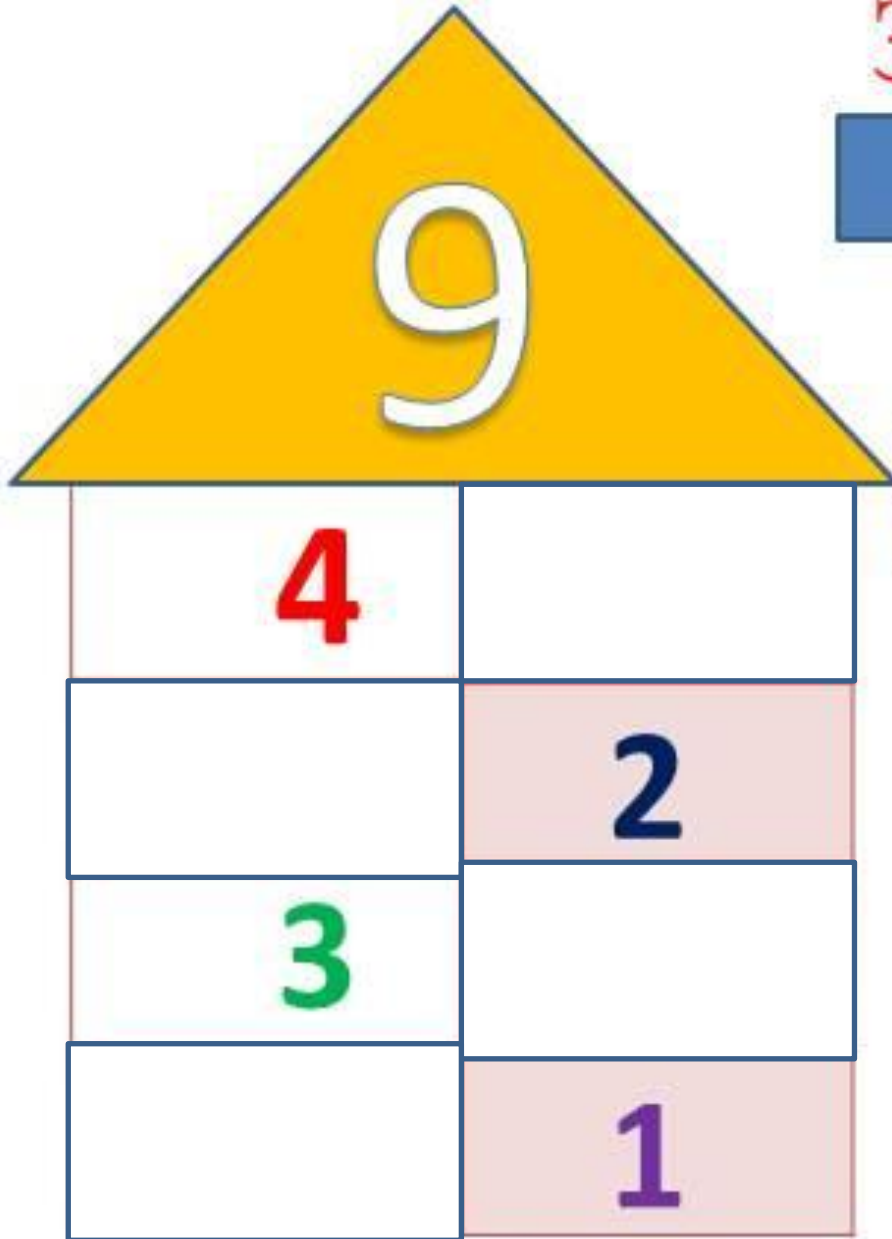
$7 + 2 = 9$

$7 + 3 = 10$

$9 - 3 = 6$



# Засели домик




$9-7=2$

$9-5=4$

$9-8=1$

$9-6=3$





$$\text{cloud} + 3 = 7$$

$$2 + \text{cloud} = 5$$


$$\text{cloud} + 2 + 3 = 10$$

$$8 - \text{cloud} + 3 = 9$$


$$\text{cloud} + 3 = 6$$

$$3 + \text{cloud} = 4$$

$$3 + \text{cloud} - 1 = 5$$


$$\text{cloud} - 2 - 3 = 4$$


На дороге лежит пятикопеечная монета. По дороге идут два мальчика. Сколько монет найдут дети?





На полянке летало 9 бабочек.  
3 бабочки улетело. Сколько бабочек  
осталось?

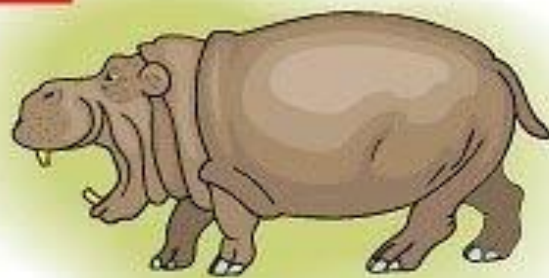


$$9-3=6 \text{ (б.)}$$

**Ответ: 6 бабочек осталось.**



Жираф, крокодил и бегемот жили в разных домиках. Жираф жил не в красном и не в синем домике. Крокодил жил не в красном и не в оранжевом домике. Догадайся, кто из зверей в каком домике жил?



Ж.  -  +  -

К.  -  -  +

Б.  +



Посчитай!

$8+2=$

10

$7=$

$10-4$

3

6

$10-6=$

4

$8=$

$10-2$

2

8

$7+3=$

10

$5=$

$1+9$

5

10

$10-9=$

1

$4=$

$10-3$

10

7

<https://m.fotostrana.ru/public/post/234154/1517609983/>

[https://klv-oboi.ru/img/gallery/3/thumbs/thumb\\_l\\_31974.jpg](https://klv-oboi.ru/img/gallery/3/thumbs/thumb_l_31974.jpg)

[http://fotooboi-na-steny.ru/wp-content/uploads/2017/09/thumb\\_l\\_5031.jpg](http://fotooboi-na-steny.ru/wp-content/uploads/2017/09/thumb_l_5031.jpg)

<https://i.pinimg.com/originals/1e/39/18/1e39188bc69042b5d79b99448a1c9be3.png>