

МАТЕМАТИКА



**Составьте из полученных букв
слово:**



Тема урока:

Величины


Какие величины вы знаете?

ДЛИНА

1 дм



5 см




РАБОТАЕМ В ТЕТРАДИ

Какой отрезок больше? На сколько 1 дм больше 5 см? Начерти отрезок равный 2 см.


Какие еще вам знакомы единицы длины?
Какими пользовались в давние-давние времена?



ЛОКОТЬ




Косая
сажень



Пядь

Какая еще величина к нам приходила в гости?

МАССА



?

**Какой предмет самый легкий?
Какой самый тяжелый?**

РАБОТАЕМ В ТЕТРАДИ

Преврати записи в верные равенства и неравенства.

На какие группы их можно разделить?


$$4 \text{ см} + 3 \text{ см} - 5 \text{ см} = \boxed{2} \text{ см}$$

$$6 \text{ дм} \boxed{<} 1 \text{ дм} + 7 \text{ дм}$$

$$9 \text{ кг} - 6 \text{ кг} + 2 \text{ кг} = \boxed{5} \text{ кг}$$

$$10 \text{ кг} \boxed{>} 9 \text{ кг} - 4 \text{ кг}$$

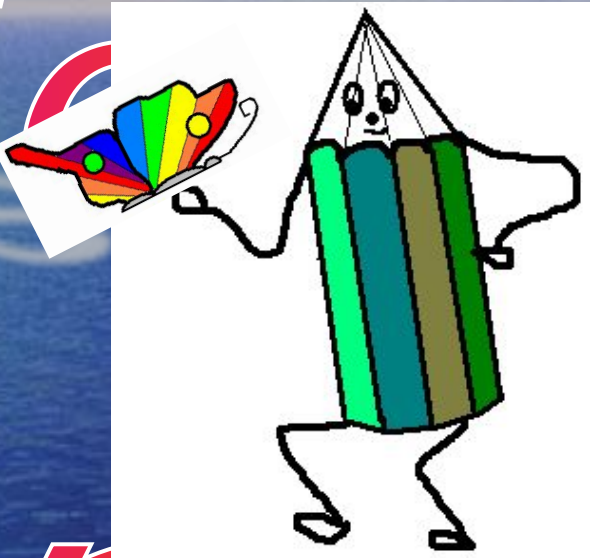
**Пришло
время
отдохнуть!**







Беззубит



Зрение

РАБОТАЕМ С УЧЕБНИКОМ И В ТЕТРАДИ

Урок 79 с. 2 Задание 3, 4

ЛОВИ ОШИБКУ!

$$2 + 2 = 4$$

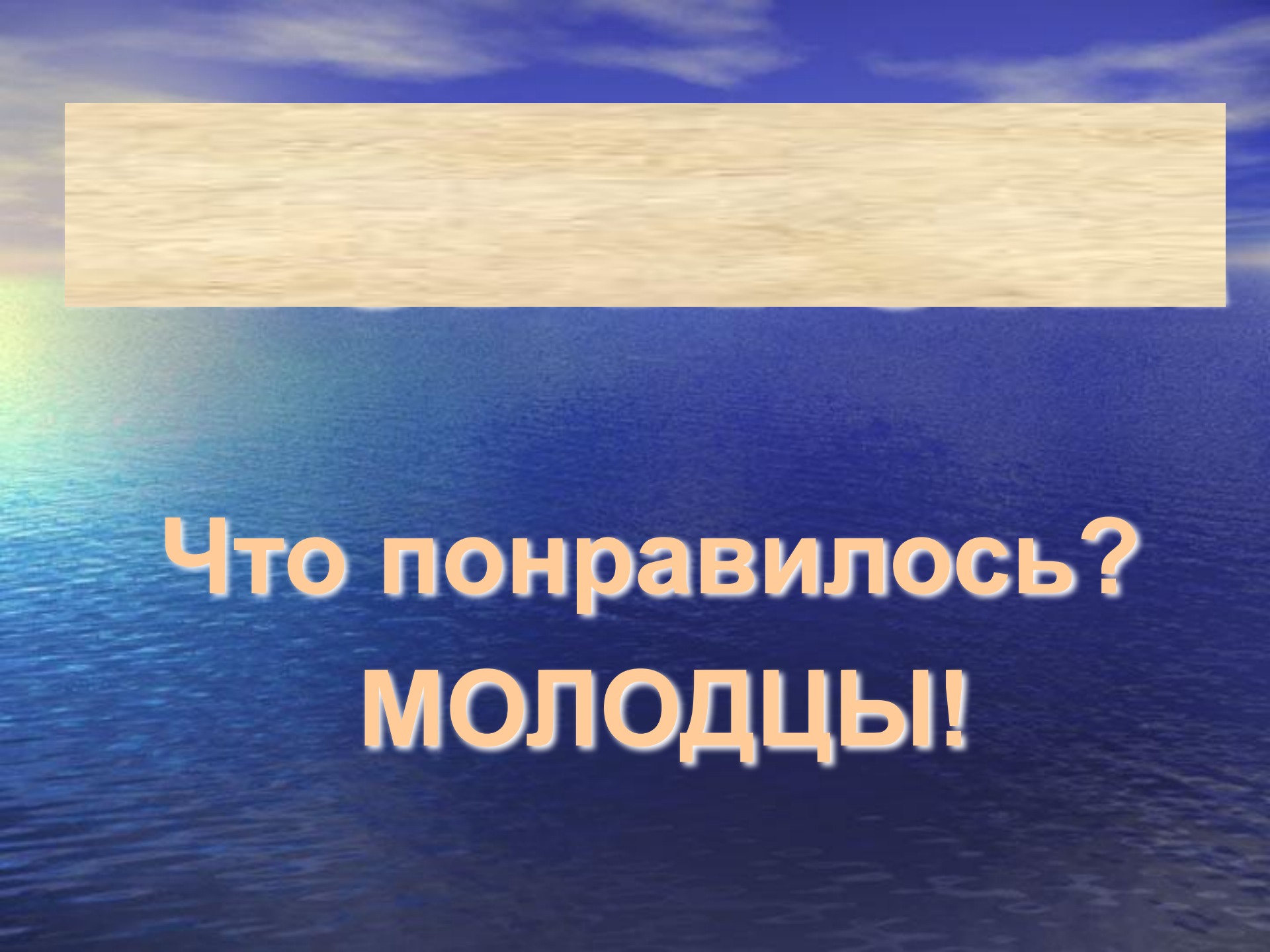
~~$$7 - 3 = 1$$~~

~~$$2 + 3 = 4$$~~

$$4 - 1 = 3$$

РАБОТАЕМ С УЧЕБНИКОМ И В ТЕТРАДИ

Урок 79 с. 2 Задание 5



**Что понравилось?
МОЛОДЦЫ!**