

*Урок математики во 2 «В» классе.  
Учитель: Абрамова Ирина Викторовна.*



Вот книжки на столе,  
А вот тетрадки.  
Не хочется играть  
Сейчас нам в прятки.  
Сегодня у ребят  
Урок уж больно важный!!!

16 марта 2011г.



29 <sup>35</sup> ± 6  
E

~~100~~  
- ~~75~~

14 <sup>5</sup> □ 9

8 <sup>15</sup> ± 7  
B

~~90~~ -  
50  
H

36 <sup>50</sup> ± 14  
E

66 <sup>10</sup> - 56  
O

52 <sup>45</sup> - 7  
И

17 - ~~30~~ 13  
P

43 <sup>20</sup> - 23  
T

Повторение -  
мать учения!



Выпишите только уравнения и решите их.

$$X + 20 = 72$$

$$11 - 7 > 5$$

$$X - 6 = 9$$

$$a + 7$$

$$23 - X = 3$$

1, 2, 3, 4, 5.

Начинаем отдыхать.

Спинку прямо разогнули

Руки кверху потянули.

1 и 2, присесть и встать,

Чтобы отдохнуть опять.

1 и 2 вперёд нагнуться,

1 и 2 назад прогнуться.

Вот и стали мы сильнее,

Здоровей и веселей!




Я не играю ни разу в футбол



Ударил низом с разворота.  
Ну, и забил, конечно, гол.


Классная игра  
**2018 году**




Россия впервые в своей истории стала  
страной-хозяйкой ЧМ по футболу!

В секцию по спортивной гимнастике записалось 20 детей, из них [redacted] мальчиков и [redacted] девочек записалось в эту секцию?




Для окраски хоккейного поля купили 24 кг краски. После того, как часть поля покрасили  сколько килограмм краски использовали?

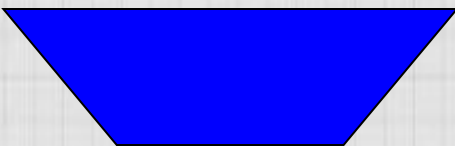
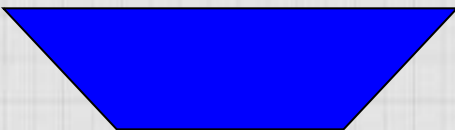
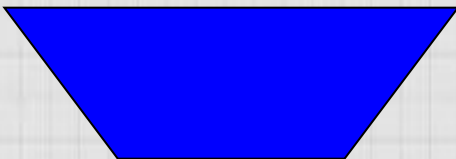
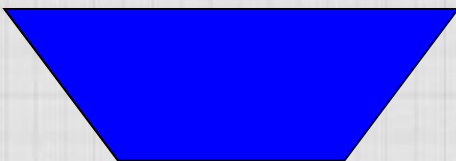





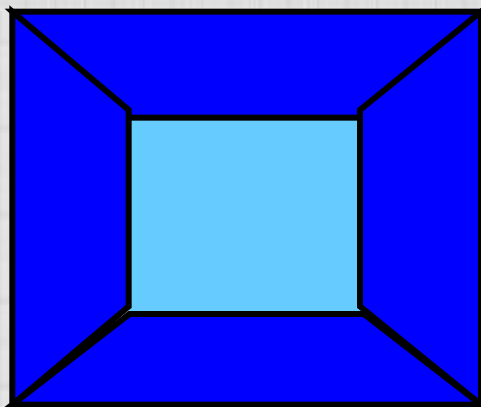
В спортшколу купили 100 теннисных мячей и 42 волейбольных мяча. На сколько больше, чем волейбольных?







Найдите периметр квадратов.



# ПРОВЕРКА.

$$P = 3 + 3 + 3 + 3 = 12(\text{см})$$

$$P = 6 + 6 + 6 + 6 = 20(\text{см})$$

$$3 \cdot 4 = 12$$

$$5 \cdot 4 = 20$$

В каком выражении сложение можно заменить на умножение?

- $2 + 2 + 3 + 2$
- $5 + 5 - 5 + 5$
- $7 + 7 + 7 + 7$



*Спасибо за  
урок!!!*

