


«Представление трехзначных чисел в виде суммы разрядных слагаемых»

3 класс урок №99

УМК «Школа России»
Учебник 3 класс 2 часть
М. Моро, М.А. Бантова,
Г.В. Бельтюкова

Автор : Гилева Наталия Владимировна
учитель начальных классов
МКОУ «Перегрёбинская СОШ №1»
Октябрьского района Тюменской
области




Какое пропущено число при счёте?

..., 743, ..., ...

102, ..., 104, ...

784,, 786, ...



Логическая разминка

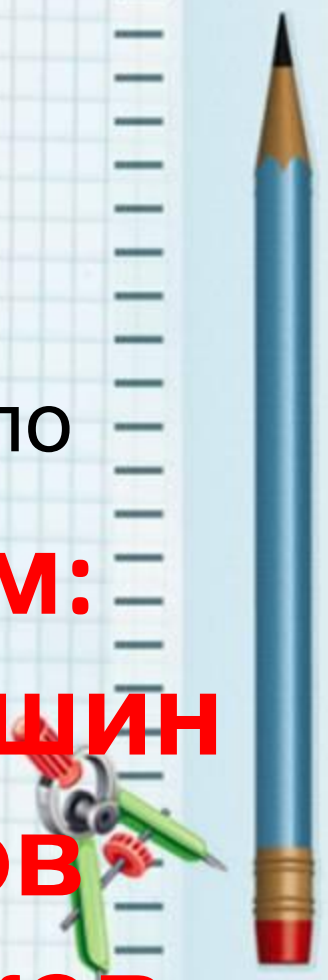


На пароме помещается или 6 грузовиков, или 10 легковушек. В четверг паром, полностью загруженный, 5 раз пересек реку и переправил 42 машины. Сколько было среди них грузовиков?

за 5 раз перевез паром:

**3 раза по 10 легковых машин
и 2 раза по 6 грузовиков**

Ответ: всего 12 грузовиков.




На часах было 11:45, когда начался мультфильм. Он длился 50 минут. Точно в середине просмотра пришла мама и позвала обедать. Какое время показывали часы в этот

МОМЕНТ?

Проверка: **1) 50** мин. : **2** = **25** мин. Смотрели мультфильм ребята до прихода мамы.

2) мультфильм закончится в **12:35** – **25** мин. = **12 ч 10** мин

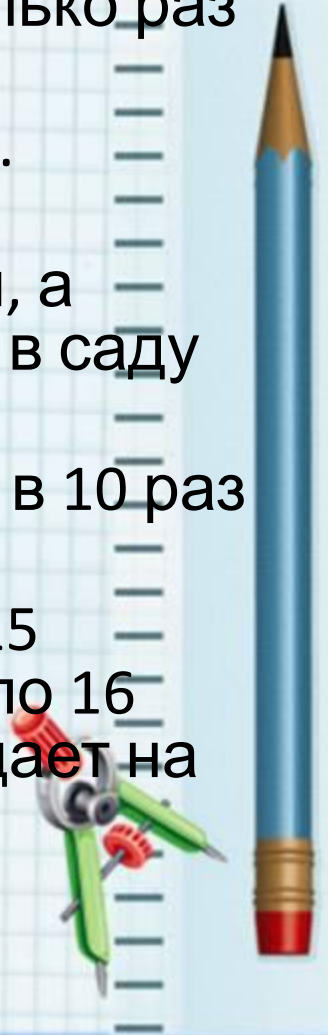
Ответ: в **12:10** мама пригласила на обед



Блицтурнир



1. Дед поймал 20 рыб, а внук – 10 рыб. Во сколько раз дед поймал больше рыб, чем внук?
2. В селе 3 школы, а в городе в 10 раз больше. Сколько школ в городе?
3. В сельском саду собрали 300 кг смородины, а малины в 10 раз меньше. Сколько собрали в саду малины и смородины за лето?
4. Скорость самолёта 800 км/ч, а автомобиля в 10 раз меньше. Какова скорость автомобиля?
5. На первой перемене обедают 4 класса по 15 человек в каждом, а на второй – 6 классов по 16 человек. На сколько больше учеников обедает на второй перемене, чем на первой.



Проверка:

1. **$20 : 10 = 2$** (р)
2. **$3 * 10 = 30$** (ш)
3. **$300 + 300 : 10 = 330$** (кг)
4. **$800 : 10 = 80$** км/ч
5. **$16 * 6 - 4 * 15 = 36$** (чел.)



Трехзначное число



Единицы
третьего
разряда

Единицы
второго
разряда

Единицы
первого
разряда

Сотни

десятки

единицы

6

3

5



Трехзначное число



$$600 + 30 + 5$$

Сумма разрядных
слагаемых



№1 стр. 48



Рассмотри запись, выполни №1 по образцу:

$$425 = 400 + 20 + 5$$

$$640 = 600 + 40$$

$$903 = 900 + 3$$



Письменно выполните №2, стр.
48



Реши задачу № 3 стр. 48



кг вишни в одной корзинке	Количество корзинок	Всего кг вишни
по 3 кг	8 корзинок	? кг – 14 кг



$3 * 8 - 14 = 10$ кг вишни осталось
Ответ: 10 килограммов вишни
осталось.



Самостоятельная работа с
учебником стр. **48** № **4.**

Сравни решение задач.

Коля

$$4 * 6 + 4 * 3$$

Юра

$$4 * (6 + 3)$$



Замени числа суммой
разрядных слагаемых


$$648 = \dots + \dots + \dots$$

$$707 = \dots + \dots$$

$$830 = \dots + \dots$$



Оцени себя



Домашняя работа

№ 5 стр.48,

р.т. стр. 41





1. Логические задачи

<http://shkolabuduschego.ru/shkola/logicheskie-zadachi.html>

2. Шаблон взят на сайте <http://pedsovet.su/>

автор шаблона: Фокина Лидия Петровна

3. Учебник «Математика» 3 класс 2 часть М. А. Моро, М.А. Бантова, Г.В. Бельтюкова, М.: «Просвещение» 2013 год

4 Т.Н. Ситникова, И.Ф. Яценко «Поурочные разработки по математике 3 класс» УМК «Школа России», М.: «Вако» 2013 г.

