





Урок-путешествие по сказке Х.К.Андерсена «Снежная королева»



Карта путешествия Герды



Проверка таблицы умножения



Устный счёт



Обобщение знаний о высказывании



Найди высказывания.

1. В нашем классе 18 учеников.
2. $35+25=68$
3. Прямоугольник – это четырехугольник, у которого все углы прямые.
4. Бывают треугольники с двумя прямыми углами.
5. Сколько тебе лет?
6. $X+12$
7. Сегодня 18 декабря.



Реши уравнения



$$X+10=12$$

$$X-5=10$$

$$X \cdot 4=20$$

$$X:4=8$$

$$X+2=10-4$$



Реши задачу



Реши задачу!

Коля, Петя и Ваня играли в снежки. Коля бросил 12 снежков, из них только 5 попали в цель. Петя бросил на 4 снежка меньше Коли, но 8 из них попали в цель. А Ваня бросил на 2 снежка больше, чем Коля, но 7 раз промахнулся.



Заполни таблицу и определи, кто из ребят оказался самым метким?



Сложи кристалл



Подведем итог



Придумать задачу на тему «Зимние забавы»

Решить уравнения:

$$5x \quad X=25$$

$$X+12= 20-5$$

$$24: X=6$$

*Мир прекрасен! Радуйтесь
жизни!*

*Будьте оптимистами! Боритесь
за человека, сердце которого
покрыто льдом!*

*Будьте терпеливы в достижении
цели! Не жалейте времени и сил,
чтобы воспитать в себе
человечность, отзывчивость и
доброту!*

Х.К.Андерсен