

Всех ребят по именам
Назовем мы гости вам
Что за дивная картина!
Кто решил задачу? ...
Улыбается от счастья
Ну, конечно, это....
Чудо — шапка-невидимка!
Кто её напялил? ...
В классе мы не любим плакс
Строго молвил смелый....
В рюкзаке лежит малина
Кто её принёс?.....
Треугольник, точно крыша
Приговаривает.....
На пол книжки уронил.
Кто же это?
В голове от счета каша
Все исправит наша.....
Математика – вот клад
Это точно знает.....



Саный спорт



Фигурное катание



Скелетон



Лыжные гонки



Биатлон



Хоккей



Фристайл



Кёрлинг



Шорт-трек



Горнолыжный спорт



Лыжное двоеборье



Прыжки с трамплина



Сноуборд



Бобслей




Скоростной бег на коньках



Биатлон

**ЗИМНИЙ ОЛИМПИЙСКИЙ
ВИД СПОРТА,
СОЧЕТАЮЩИЙ ЛЫЖНУЮ
ГОНКУ СО СТРЕЛЬБОЙ
ИЗ ВИНТОВКИ.**







30



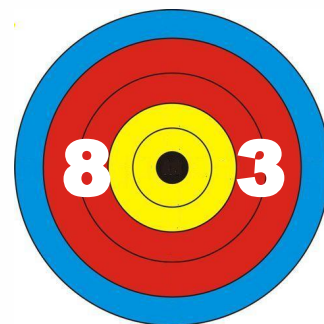
28




63




18



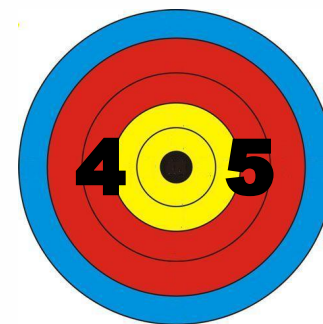
24



42



27



20

$70 : 2$

15×4

$96 : 3$

32×3

$58 : 2$

27×2

$84 : 3$

18×3

**Период в хоккейном матче составляет 20 минут, перерыв 15 минут.
Сколько времени продлится матч, если он состоит из 3-х периодов и
2-х перерывов?**

Периоды - ? мин, по 20 мин 3 п }
Перерывы - ? мин, по 15 мин 2 п } ? мин

- 1) $20 \times 3 = 60$ (мин) – делятся периоды
- 2) $15 \times 2 = 30$ (мин) – делятся перерывы
- 3) $60 + 30 = 90$ (мин) – длится матч

Ответ: 90 минут.



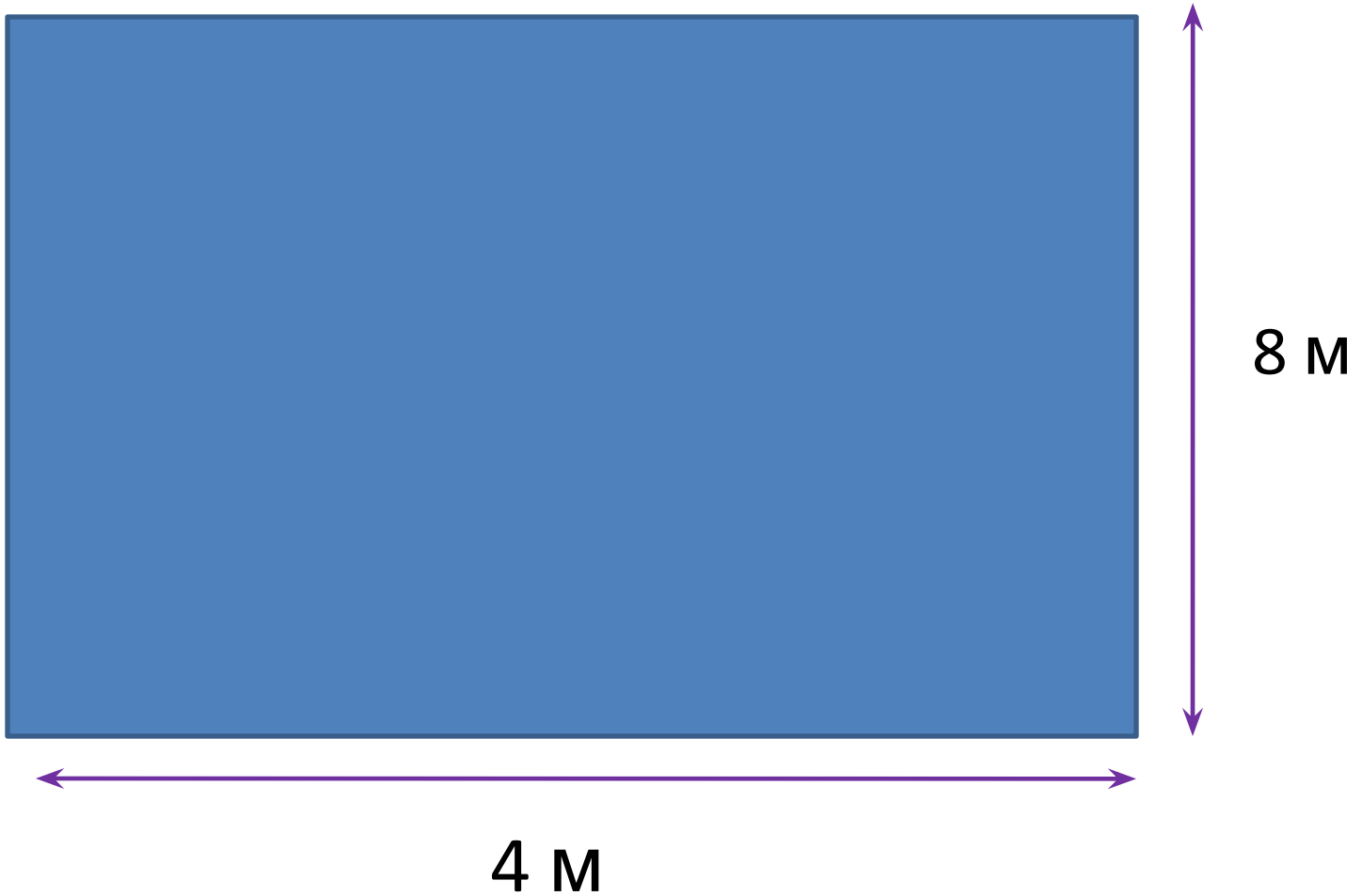
25 ЯЩИКОВ



?, 5
6



?, на 6 ящ.



S - ?

$$**S = 4 \times 8 = 32 (M^2)**$$

уверен в своих знаниях

нужно ещё повторить

нуждаюсь в помощи

Рефлексивный экран

- Сегодня я узнал...
- Мне было интересно...
- Мне было трудно...
- Теперь я могу...
- Я приобрел...
- Я научился...
- Меня удивило...
- Я попробую...
- Мне захотелось...
- Мне сегодня удалось...
- Для меня было открытием, что ...
- Завтра я хочу на уроке...