

# Десятки и Единицы

Подготовил учитель  
начальных классов  
Панарина О.В.

4 8 5 30 7 3 80 10 2 9 40 60

4 8 2 7

5 3 9

30 80 10  
40 60

Однозначные  
числа

Двухзначные круглые  
числа

3

десятки

единицы



# Десятки и единицы

- ▣ Составлять из разрядов двузначные числа
- ▣ Записывать двузначные (не круглые) числа
- ▣ Расставлять по порядку двузначные числа


На клумбе росло 5 тюльпанов  
и 3 розы.

Сколько всего цветов росло на клумбе?


$$5 + 3 = 8 \text{ (цв.)}$$



Мама купила 3 десятка яиц.  
Сколько штук яиц купила мама?



3 дес 5 ед = 35  
3 десятка = 30



Сколько штук яиц теперь в холодильнике, если там лежали еще 5 яиц?

У Тани было 8 монет по 10 рублей. Сколько всего денег было у Тани?



Сколько монет у нее станет если ей дадут еще 8 рублей?