

ТЕМА.

ЗАКРЕПЛЕНИ

Е

ПРОЙДЕННО

ГО


З




СОСТАВЬ ЗАДАЧУ



- 5 ШТ.



- 12 ШТ.



- 2 ШТ.

? ШТ.

Реши примеры

$8 + 7 =$

$9 + 5 =$

$7 + 4 =$

$6 + 5 =$

$9 + 3 =$

$8 + 6 =$

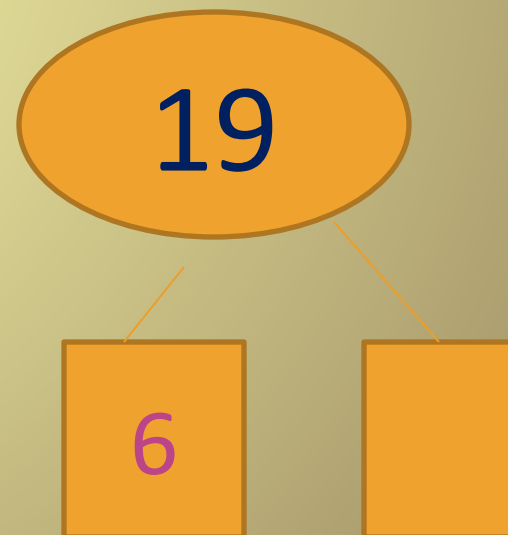
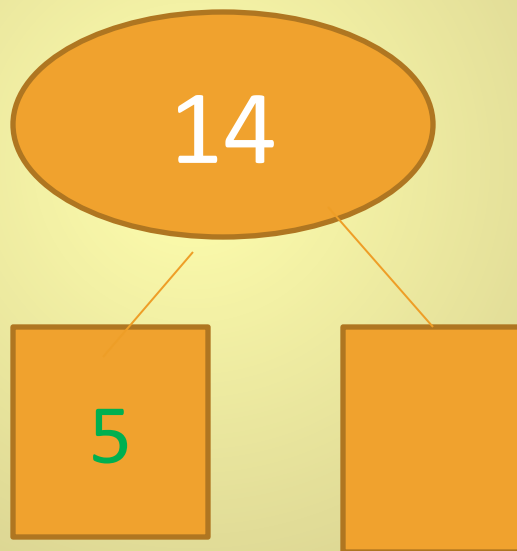
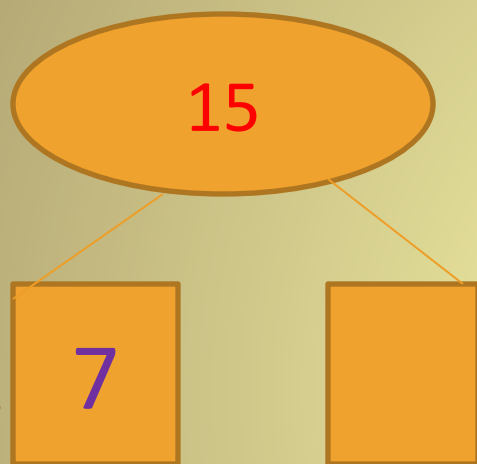


$9 - 6 =$

$8 - 5 =$

$7 - 3 =$

ВСТАВЬ ПРОПУЩЕННЫЕ ЧИСЛА



РЕШИ ЗАДАЧУ

У Оли было 10 к.

Сколько

денег у неё остаётся

если она купит



МОЛОДЦЫ!!

!

