

$$4+4$$

$$6+6+6$$

$$4+2+4+2$$

$$c+d+c+d$$

$$5+3+5+3$$

$$c+B+c+B$$

$$6 \cdot 3$$


$$4 \cdot 2$$



$$c \cdot 2 + d \cdot 2$$



$$4 \cdot 2 + 2 \cdot 2$$



$$(c+B) \cdot 2$$

$$(5+3) \cdot 2$$



$20 - 3 =$ 









 $- 8 =$ 

 $- 11 =$ 

 $+ 4 =$ 









 $\cdot 3 =$ 

 $+ 6 =$ 

							
17	6	18	10	14	6	20	18
?	?	?	?	?	?	?	?

Русский алфавит

1 - А	7 - Ё	13 - Л	19 - С	25 - Ч	31 - Э
2 - Б	8 - Ж	14 - М	20 - Т	26 - Ш	32 - Ю
3 - В	9 - З	15 - Н	21 - У	27 - Щ	33 - Я
4 - Г	10 - И	16 - О	22 - Ф	28 - Ъ	
5 - Д	11 - Й	17 - П	23 - Х	29 - Ы	
6 - Е	12 - К	18 - Р	24 - Ц	30 - Ь	

							
17	6	18	10	14	6	20	18
П	Е	Р	И	М	Е	Т	Р

Периметр прямоугольника.

Периметр- это сумма длин всех сторон.


Периметр- измерение вокруг.



5 cm



2 cm



$$P = a + B + a + B$$

$$P = a \cdot 2 + B \cdot 2$$

$$P = (a + B) \cdot 2$$

$$P = 4 + 3 + 4 + 3 = 14(\text{cm})$$

$$P = 4 \cdot 2 + 3 \cdot 2 = 14(\text{cm})$$

$$P = (4 + 3) \cdot 2 = 14(\text{cm})$$

Домашнее задание.

1. Найдите периметр одной из своих комнат в доме и запишите решение разными способами.
2. Стр. 52 № 2