

А



Российская академия наук
Российская академия образования
Издательство «Просвещение»


Академический школьный учебник

Г.В. Дорофеев Т.Н. Миракова

МАТЕМАТИКА



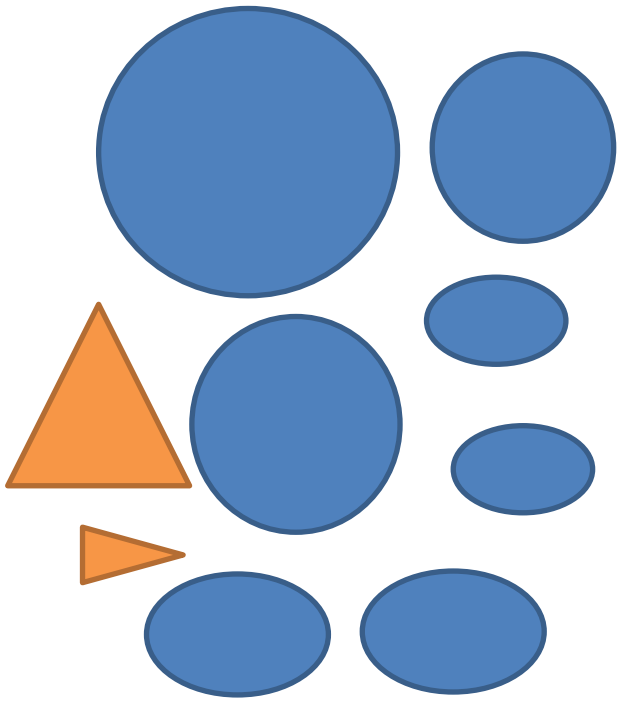
$2 > 1$



1 класс

ЧАСТЬ
ПЕРВАЯ

ПРОСВЕЩЕНИЕ
ИЗДАТЕЛЬСТВО



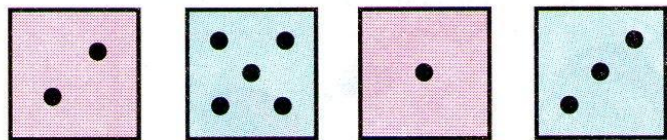
$$7 - 3$$

$$9 - 2$$

$$4 + 3$$

$$2 + 2$$

$$10 - 2$$



$$6 + \square - \square + \square - \square = \square$$



0

1

2

3

4

5

6

7


8

9

10



6



2 2 2 3 3 3



0

1

2

3

4

5

6

7

8

9

10

Дополни схему и реши задачу.

У Саши было  . Он съел 2 конфеты.
Сколько конфет осталось у Саши?





