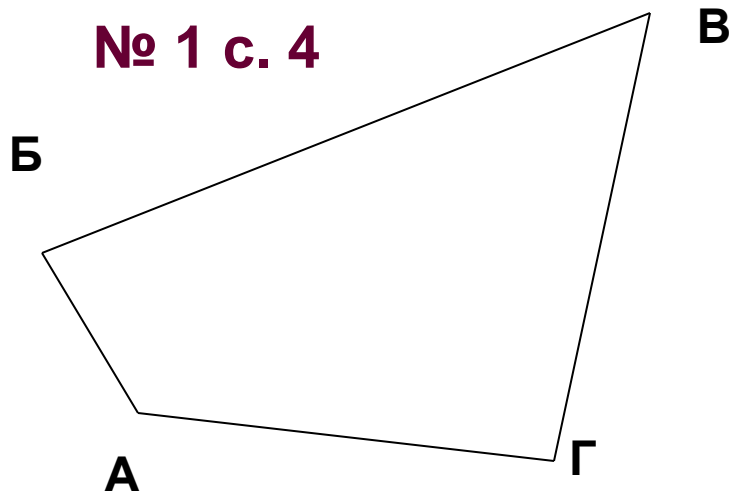

Презентация

к уроку математики в 1 классе

«Длина. Периметр многоугольников».

№ 1 с. 4



$$АБ = 1 \text{ см}$$

$$БВ = 5 \text{ см}$$

$$ВГ = 3 \text{ см}$$

$$АГ = 4 \text{ см}$$

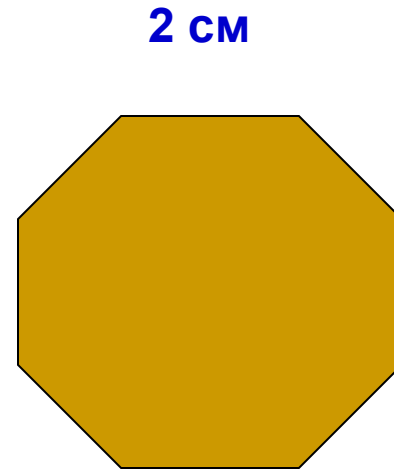
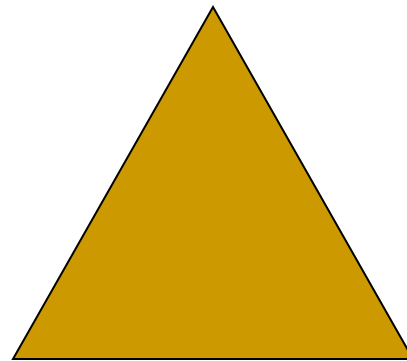
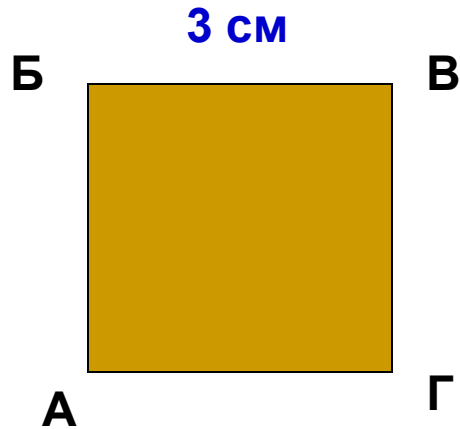
$$АБ + ВГ + БВ + АГ = 13 \text{ см}$$

$$P_{АБВГ} = 13 \text{ см}$$

P периметр прямоугольника – сумма
длин всех сторон прямоугольника

№ 2 с. 4

Измерь стороны многоугольников. Что ты замечаешь?



№3 с. 4



$$AB = BГ = 3 \text{ см}$$

$$BV = AГ = 4 \text{ см}$$

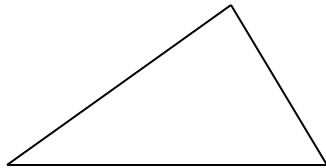
$$P_{ABVГ} = 2 + 2 + 4 + 4 = 12 \text{ см}$$

№ 4 с.4


Найди периметр **P** многоугольников



$$3 \text{ см} + 1 \text{ см} + 3 \text{ см} + 1 \text{ см} = 8 \text{ см}$$



$$3 \text{ см} + 2 \text{ см} + 4 \text{ см} = 9 \text{ см}$$



$$2 \text{ см} + 2 \text{ см} + 2 \text{ см} + 2 \text{ см} = 8 \text{ см}$$