


«УПРАЖНЕНИЯ УСТНЫХ ВЫЧИСЛЕНИЙ в пределах **1000**»

3 класс урок №**107**


**УМК «Школа России»
Учебник **3** класс **2** часть
М. Моро, М.А. Бантова,
Г.В. Бельтюкова**

Автор : Гилева Наталия Владимировна
учитель начальных классов
МКОУ «Перегрёбинская СОШ №1»
Октябрьского района Тюменской области

2018



Логическая разминка



4 карандаша и **3** тетради стоят **54** р., а **2** карандаша и **2** тетради – **34** р.
Сколько стоят **6** таких карандашей и **5** тетрадей?

4+2 = 6 карандашей

3+2 = 5 тетрадей

Значит: **54+34 = 88** рублей


Ответ: **88** рублей стоят **6** карандашей и **5** тетрадей



Логическая разминка



Клад зарыт слева от четвертого справа дерева и справа от пятого слева. Под каким деревом зарыт клад?



Логическая разминка



Периметр квадрата – это сумма длин всех его сторон. Периметр серого квадратика равен **12**.
Чему равен периметр большого белого квадрата, состоящего из четырёх квадратиков?

- А) **24** Б) **22** В) **20** Г) **18** Д) **16**

$$12: 4 = 3 \text{ см}$$

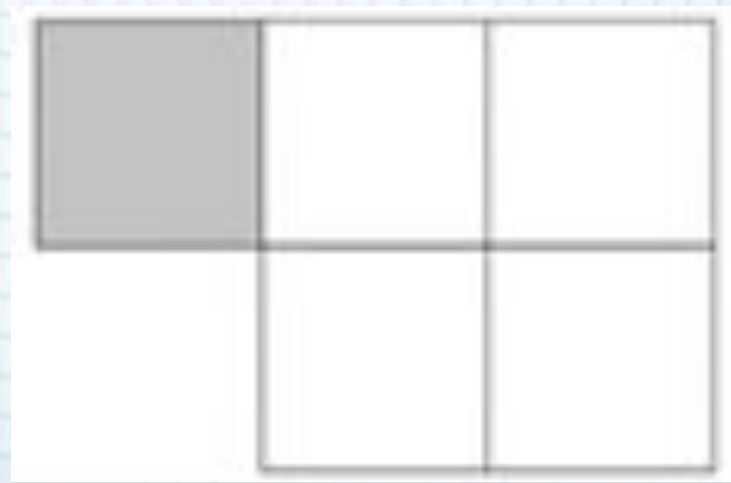
сторона

серого

квадрата

$$P = (3+3) * 4$$

$$P = 24 \text{ см}$$



Представьте в виде суммы разрядных
слагаемых числа



$$280 = \dots + \dots$$

$$506 = \dots + \dots$$

$$893 = \dots + \dots + \dots$$



Сколько десятков в **1** сотне?

Сколько единиц в **1** сотне?

Сколько граммов в **1** кг ?



1 сот. = 10 дес. = 100 ед.

10 с. = 100 дес. = 1000 ед

1 кг = 1000 г

9 кг = ? г

Вычисли.


$$700 + 200 =$$

$$200 - 100 =$$

$$900 - 600 =$$

$$300 + 400 =$$





стр. 66



$$\underline{300} + \underline{200} = 500$$

$$300 = 3 \text{ сот.}$$

$$200 = 2 \text{ сот.}$$

$$3 \text{ сот.} + 2 \text{ сот.} = 5 \text{ сот.} = 500$$

$$\underline{800} - \underline{600} = 200, \text{ ПОТОМУ ЧТО}$$

$$8 \text{ сот.} - 6 \text{ сот.} = 2 \text{ сот.} = 200$$

$$\underline{300} - \underline{60} = 240, \text{ ПОТОМУ ЧТО}$$

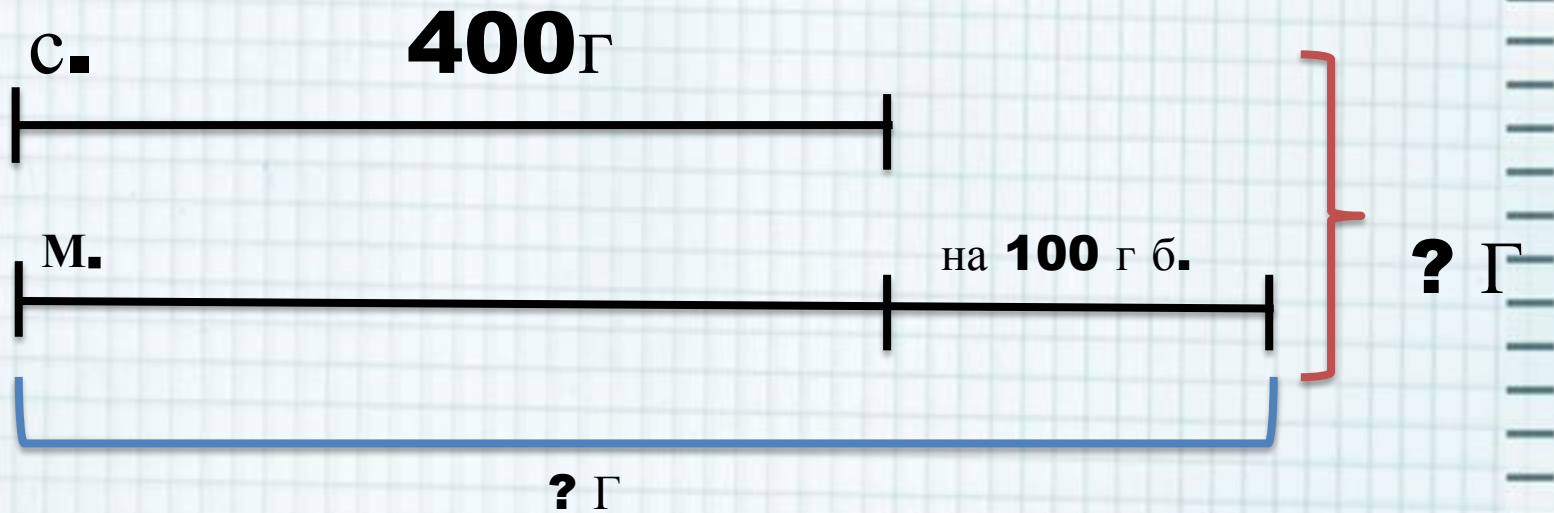
$$30 \text{ дес.} - 6 \text{ дес.} = 24 \text{ дес.}$$

$$\underline{120} - \underline{50} = 70, \text{ ПОТОМУ ЧТО}$$

$$12 \text{ дес.} - 5 \text{ дес.} = 7 \text{ дес.}$$



№2 стр. 66




1) $400 + 100 = 500$ (Г) весит масло

2) $500 + 400 = 900$ (Г) вес покупки


Ответ: 900 граммов весит покупка



Самостоятельная работа с
учебником стр. **66** № **3, 4** .



Повторение



$$a = 16 \text{ см}$$

$$b = ? - b \text{ 4 раза м.}$$

$$c = 10 \text{ см}$$

$$P = a + b + c$$

$$b = 16 : 4$$

$$b = 4 \text{ см}$$

$$P = 16 + 4 + 10$$

$$P = 30 \text{ см}$$

$$P = ? \text{ см}$$



Ответ: периметр равен **30** см.

$$P = 16 + 16 : 4 + 10$$



Оцени себя



Домашняя работа

№ 5, №6 стр.66,

р.т. стр. 60





1. Логические задачи

<http://shkolabuduschego.ru/shkola/logicheskie-zadachi.html>

2. Шаблон взят на сайте <http://pedsovet.su/>

автор шаблона: Фокина Лидия Петровна

3. Учебник «Математика» 3 класс 2 часть М. А. Моро, М.А. Бантова, Г.В. Бельтюкова, М.: «Просвещение» 2013 год

4 Т.Н. Ситникова, И.Ф. Яценко «Поурочные разработки по математике 3 класс» УМК «Школа России», М.: «Вако» 2013 г.

